


نام:	باسمه تعالی	اداره کل آموزش و پرورش استان زنجان	نام خانوادگی:	تاریخ امتحان: ۹۹ / ۱۰ / ۱۰
نام پدر:	اداره آموزش و پرورش ناحیه (۲)	مدت امتحان: ۲۰ دقیقه	نام آموزگاه: میثاق	تعداد صفحات: ۲ صفحه: (۱)



بارم	<p>..... علم سرعت می دهد و ایمان جهت.....</p> <p>الف- گزینه درست انتخاب کنید:</p> <p>۱- این عبارت که «شغل ساحل نشینان صید ماهی-شغل اصلی کویرنشینان(بیابان نشین) سفال سازی است با کدام گزینه در ارتباط است؟</p> <p>الف- برای درک هر علم و جغرافیا باید مفاهیم پایه ای آن یعنی انسان و محیط را بشناسیم</p> <p>ب- در هر مکان، پدیده های مختلفی هستند که بر یکدیگر تأثیر گذاشته و به نوبه خود از هم تأثیر می پذیرند.</p> <p>ج- بین جغرافیا با سایر علوم دو سویه بوده، از داده ها و یافته های یکدیگر استفاده مینمایند.</p> <p>د- جغرافیا علم بررسی روابط متقابل انسان و محیط طبیعی برای بهبود زندگی بشر است(د) چون انسان با تغییر محیطی آنرا به محیط جغرافیایی میکند.</p> <p>۲- کدام مورد از نکاتی که نباید پژوهشگر در بیان مسئله رعایت نماید؟</p> <p>الف- مسئله را باید بصورت واضح و روشن بیان کند.</p> <p>ب- مسئله را باید به شکل سؤالی، بنویسد</p> <p>ج- از بیان عبارات خبری یا جملات کلی و نامعلوم جلوگیری کند.</p> <p>د- مسئله را باید گسترده بیان کند.</p> <p>۳- مدار ۴۰ درجه و ۶۳ درجه به ترتیب بر کدام جهت های ایران منطبق می باشند؟</p> <p>الف) شمال و شرق ب) جنوب و غرب ج) جنوب و شرق د) شمال و غرب</p> <p>۴- کدام یک از دلایل اهمیت ایران، در منطقه خلیج فارس در گذشته بوده، اکنون نیز اهمیت خود را حفظ کرده است؟</p> <p>الف) درآمدها و دلارهای ناشی از صدور و فروش نفت خام ب) ارزش فرهنگی و سیاسی</p> <p>ج) بزرگ ترین منبع انرژی جهان و ذخایر با ارزش د) ارزش و نقش ارتباطی بین سه قاره آفریقا، اروپا و آسیا</p> <p>۵- مناطق کوهستانی..... و..... دارای چین خوردگی منظم، دره های موازی فاقد فعالیت آتشفشانی می باشد؟</p> <p>الف- البرز - زاگرس ب- زاگرس - خراسان ج- خراسان - آذربایجان د- البرز - خراسان</p> <p>۶- کدام گزینه از پیامد گسترش شهرنشینی در زاگرس نمی باشد؟</p> <p>الف- برهم خوردن تعادل جریان رودها ب- حفظ تعادل جریان رودها</p> <p>ج- تغییر مجرای جریان رود د- موجب طغیان رود</p> <p>۷- تگرگ به کدام مناطق استان خسارت وارد می کند؟</p> <p>۱- ماهنشان سلطانی، قیدار ۲- خرمدره، ابهر و زنجان ۳- ابهر - خرمدره - ماهنشان ۴- خرمدره، ابهر و افشار</p> <p>۸- کدام مناطق استان زنجان لرزه خیزی کمتری دارد؟</p> <p>۱- گرماب - ایچرود ۲- گرماب - بزینه رود ۳- ابهر - خرمدره ۴- طارم - ماهنشان</p>
------	--


ادامه سؤالات در صفحه ۲ □

نمره با عدد	نمره تجدید نظر	نمره با عدد
نمره با حروف	در صورت داشتن اعتراض:	نمره با حروف


نام و امضای دبیر: □

نام و امضای دبیر:

- ب- باصحيح و غلط مشخص كنيد:.....
- ۱- الف- شرايط آب و هوايي، فقط در ارتباط با حيات و زيست انسان اهميت فراواني دارد.
 - ۲- جغرافيا با مطالعه و بررسي روابط متقابل انسان را با محيط علمي براي زندگي بهتر است.
 - ۳- كلمه پرسشي «چطور» اساسي در جغرافيا به « بررسي سير تكوين و تحول پديده » مي پردازد.
 - ۴- پرباران تري بخش استان خدا بنده، ارتفاعات طارم، كم بارانترين ايجرود- قشلاقات افشار- فيله خاصه ماهنشان است.
 - ۵- وجه مشترك تمام ناهمواريهاي استان جهت شمال شرق- جنوب غرب مي باشد.
 - ۶- مديران، برنامه ريزان و مسئولان بايد توجه به بعد مكاني در تصميم گيري هایشان جدی بگیرند.
- ج- در جاهای خالی کلمات مناسب بنویسید:
- ۱- شكل امروزي ناهمواري هاي ايران مربوط به کدام دوران زمين شناسي - دوره است.
 - ۲- قرارگيري ايران در جنوب غربي آسيا بيانگر موقعيت مي باشد. در شمال غرب با کشور هم مرز است.
 - ۳- جغرافياي به مطالعه چگونگي معيشت گروه هاي انساني در رابطه با محيط زندگي شان پردازد.
 - ۴- احساس آرامش در خانه و مصرف کمتر انرژی از تأثیر بر می باشد.
 - ۵- گنبدي نمكي از زيباييهاي منطقه كوهستاني زاگرس مي باشد. كه دليل و شكل گرفته اند.
 - ۶- استان زنجان تحت فشار صفحه هاي و چين خورده است.



بارم	د-نوع دشت های زیر را بنویسید:.....
۱	الف- لوت ب- کاکان
	ر-به سوالات زیر پاسخ کوتاه دهید:.....
۲/۵	۱-مهم ترین عامل ایجاد نواحی خشک و بیابانی در جنوب کشور چیست؟
	۲- کدام کوهها از ورود رطوبت به استان جلوگیری می کند؟
	۳- کدام عامل مرتب سبب تغییر مکان ،وسعت جلگه هامی شود؟
	۴-کدام تنگه آب های آزاد اقیانوس هند و دریای عمان را به خلیج فارس متصل می کند؟
	۵-کدام کلمه پرششی ازاساسی ترین سؤالات کلیدی در جغرافیا می باشد؟

	ز-به سوالات زیر پاسخ کامل دهید:
۱	۱- دما در حالت وارونگی با حالت عادی مقایسه کنید؟
۱	۲-الف-همسایگان جنوب و جنوب غرب استان زنجان کدام استان ها می باشند؟
۱	ب- علت زلزله خیزی استان زنجان را بنویسید:
۱	۳- پیامد تغییر اقلیم در استان زنجان را بنویسید:
۱	۴- علت ناپایداری البرز را بنویسید:
۵/۵	۵- پردازش چیست؟
۱	۶-الف- چرا قدرتهای جهانی را در گذشته و امروزه خلیج فارس توجه ویژه ای دارند؟
۱	ب- چرا ایران از نظر موقعیت ریاضی اهمیت دارد؟
۱	۷- شکل تفسیر کنید:
	

بارم

□



جمع بarm □

موفق باشید □