

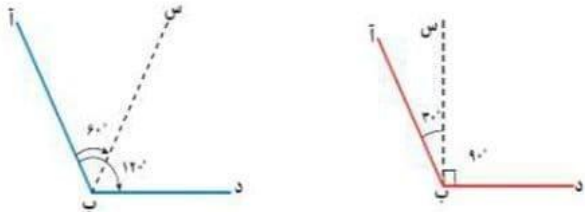
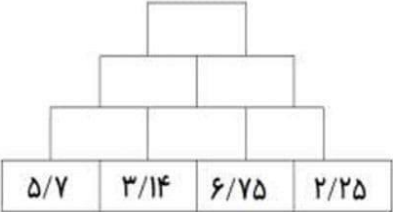


<p>۱ با توجه به عدد ۷۵۸۰۱۹۴۳۰۵۶۲ پاسخ پرسش های زیر را بنویس.</p> <p>الف) رقم های طبقه ی میلیون را بنویس.</p> <p>ب) اگر رقم ۳ عدد بالا را در ۱۰۰ صرب کنید؛ ارزش آن چه تغییری پیدا می کند؟</p> <p>ج) حروف عدد بالا را در پایین بنویس.</p> <p>-----</p>	<p>۱</p>
<p>۲ عدد $۸۹۵ / ۶۳$ را در جدول ارزش مکانی بگذار.</p> <p>با توجه به جدول بالا، ارزش کدام رقم از همه کمتر است؟</p>	<p>۲</p>
<p>۳ الف) نهمین عدد در الگوهای مربعی، چه عددی است؟</p> <p>پاسخ کوتاه بده.</p> <p>ب) به کسر تبدیل کن.</p> $۴\frac{۲}{۳} =$ <p>ج) پنجمین عدد الگوهای مثلثی، چه عددی است؟</p> <p>د) به عدد مخلوط، تبدیل کن.</p> $\frac{۲۹}{۴} =$	<p>۳</p>
<p>۴ جمع و تفریق کسره های زیر را انجام بده.</p> $\frac{۷}{۴} - \frac{۲}{۵} = \text{-----} =$ $۷\frac{۱}{۴} + ۱\frac{۱}{۳} =$	<p>۴</p>
<p>۵ حاصل ضربها و تقسیم های زیر را بنویس.</p> $\frac{۱}{۶} \div ۷ =$ $۶ \times \frac{۲}{۳} =$ $۰.۳ \times ۰.۵ =$	<p>۵</p>
<p>۶ ساده کن.</p> $\frac{۱۲ \times ۵}{۸ \times ۴} =$ $\frac{۸}{۱۴} \times \frac{۲۱}{۲۴} =$	<p>۶</p>
<p>۷ در جاهای خالی عدد مناسب بنویس تا نسبت های مساوی به دست آیند.</p> $\frac{۶}{۸} = \frac{\quad}{۴}$ $\frac{۱۸۰}{\quad} = \frac{۹}{۱۰}$	<p>۷</p>
<p>۸ در شکل زیر، اندازه ی زاویه خواسته شده را بنویس.</p> 	<p>۸</p>

۹	<p>مقدار کدام بیشتر است؟ داخل خط بسته بگذار.</p> <p>۸۷۵ سی سی ۲/۵ لیتر ۴۰۴ میلی لیتر ۱۰۰۰ سانتی متر مکعب</p>
۱۰	<p>عدد $۸/۷۰۵$ را به حروف بنویس. _____</p> <p>الف) عدد $۸/۷۰۵$ بین کدام دو عدد صحیح است؟ _____ و _____</p> <p>ب) عدد $۸/۷۰۵$ به کدام عدد صحیح نزدیک تر است؟ _____</p> <p>ج) گستره ی عدد $۸/۷۰۵$ را بنویس. _____</p>
۱۱	<p>به همین ترتیب، ادامه بده و بنویس.</p> <p>_____ و _____ و _____ و $۲۰/۵۰$ و $۲۰/۴۵$ و $۲۰/۴۰$</p> <p>_____ و _____ و _____ و $۰/۹۱$ و $۰/۹۰۵$ و $۰/۹$</p>
۱۲	<p>جمع و تفریق عددهای مرکب زیر را انجام بده.</p> $\begin{array}{r} ۴۹ \\ ۰۲ \\ -۵ \\ \hline ۳۸ \\ ۲۳ \\ ۴ \end{array}$ $\begin{array}{r} ۴۹ \\ ۵۷ \\ +۲ \\ \hline ۲۲ \\ ۱ \\ ۵ \end{array}$
۱۳	<p>با توجه به محور، در جاهای خالی عدد مناسب بنویس.</p> 
۱۴	<p>با توجه به شکل های زیر، در کدام شکل؛ نیم خط ((ب س))، نیمساز زاویه ی ((ب)) است؟ _____</p> <p>چرا؟ _____</p> 
۱۵	<p>دوزنقه ای رسم کن که</p> <p>الف - خط تقارن داشته باشد.</p> <p>ب - مساحت دوزنقه ای را که کشیده ای؛ محاسبه کن و بنویس.</p>

۱۶	<p>محاسبه کن و بنویس. (توجه : هر خانه ی بالایی ؛ حاصل جمع دو خانه ی پایینی است.)</p> <div style="text-align: center;">  </div>
۱۷	<p>نیما ۱۲ کتاب بیشتر از هادی دارد ؛ اگر نسبت کتاب های نیما به کتاب های هادی ۵ به ۳ باشد ؛ نیما و هادی ، هر کدام چند کتاب دارند؟ راهنمایی : به اختلاف نسبت ها توجه کن و سپس از تناسب استفاده کن.</p>
۱۸	<p>چهارده نفر از دانش آموزان کلاس بیست نفره ای ؛ در اردیبهشت ، در مصرف برق در منزل ، صرفه جویی کرده اند ؛ حساب کنید ؛ چند درصد از دانش آموزان آن کلاس در مصرف برق در منزل ، صرفه جویی کرده اند ؟</p>
۱۹	<p>شعاع میدان شهدای ۷ پوشپر سردشت ، پنجاه متر است . شهرداری می خواهد ، دور این میدان را سنگ نما بزند. اگر هزینه ی هر متر سنگ نما کاری ۲۰۰ هزار تومان باشد ؛ هزینه کل سنگ نما کاری دور این میدان ؛ چقدر می شود ؟</p>

