

بنام خدا

آموزش و پرورش ناحیه ۱ تبریز

تاریخ: ۹۷/۲/۲۶

نام و نام خانوادگی:

دبستان غیرانتفاعی پسرانه ارسطو ۱

کلاس: سوم (۱۱) و (۲)

سال تحصیلی ۹۷-۹۶

آزمون ریاضی

۱- اعداد زیر را مقایسه کرده و آن‌ها را از بزرگ به کوچک مرتب کنید.

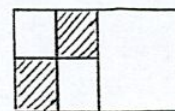
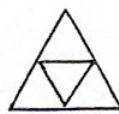
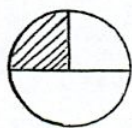
۲۹۰۷ - ۹۰۷۲ - ۵۰۲۹ - ۸۱۲۹ - ۷۰۲۹ - ۷۲۰۹

—————>—————>—————>—————>—————>—————>—————

۲- قطار تهران - مشهد ساعت ۶ صبح از تهران به سمت مشهد حرکت کرد و پس از ۱۳ ساعت به مشهد رسید. قطار چه ساعتی به مشهد رسید؟

۳- علی آقا برای تهیه آجیل به آجیل فروشی رفت. او ۴۰۰ گرم فندق، یک کیلوگرم پسته و ۳۰۰ گرم کشمش و نیم کیلوگرم بادام خرید. جرم آجیل‌های او چند کیلوگرم و چند گرم می‌باشد؟

۴- کسر مربوط به قسمت رنگی هر شکل را بنویسید.

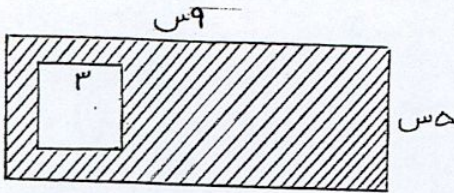


۵- ۹ بسته ۴ تایی شکلات داریم. اگر آن‌ها را بین ۶ نفر تقسیم کنیم، به هر نفر چند شکلات می‌رسد؟

۶- زمینی به طول ۲۰ متر و عرض ۸ متر داریم. می‌خواهیم دور این زمین را، دو ردیف سیم خاردار بکشیم. به چند متر سیم خاردار نیاز داریم؟

۷- عددی را ۲ برابر کردیم سپس حاصل را با ۱۵ جمع کردیم جواب ۵۵ شد. آن عدد را پیدا کنید.

۸- مساحت قسمت رنگی چند سانتی متر مربع است؟



۹- مهدی ۲ اسکناس ۲۰۰۰ تومانی و یک اسکناس ۵۰۰ تومانی و برادرش یک اسکناس ۵۰۰۰ تومانی دارند. آن ها روی هم چند ریال پول دارند؟

۱۰- برای شکل روبرو یک عبارت ضرب و یک عبارت جمع و یک عبارت تقسیم بنویسید.



⇒ عبارت ضرب

⇒ عبارت جمع


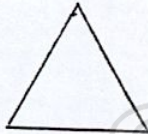
⇒ عبارت تقسیم

$$74 \overline{) 8}$$

$$38 \overline{) 5}$$

۱۱- تقسیم‌های زیر را انجام بده

۱۲- با کدامیک از شکل‌های زیر می‌توانیم یک مخروط بسازیم؟



$$\begin{array}{r} 83 \\ \times 7 \\ \hline \end{array}$$

$$\begin{array}{r} 1524 \\ \times 3 \\ \hline \end{array}$$

$$\begin{array}{r} 404 \\ \times 9 \\ \hline \end{array}$$

۱۳- حاصل ضربی از ضرب‌های زیر را بدست آورید.

۱۴- در دارالقرآن محلی ما ۴۰ دختر و پسر، قرآن می‌آموزند. با توجه به نمودار بنویسید که چند دختر و چند پسر قرآن می‌آموزند؟



⇒ تعداد پسر

⇒ تعداد دختر

بازفورد آموزگار :

کتاب وصال

موسسه آموزشی

موفق و سرفراز باشید.