



مقطع: دبستان

درس: ریاضی

استان:

دوره: اول

نوع آزمون: ارزشیابی

شهرستان:

زمان آزمون: ۵۵ دقیقه

آموزشگاه:

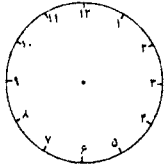
پایه: سوم

برنام نهادن و بنرد

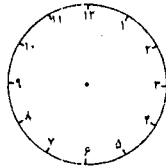
۱ الگوهای عددی زیر را ادامه بدهید.

۹-۱۱-۱۳-.....
 ۴۷۳-۴۸۳-۴۹۳-.....
 ۱۲۱-۲۲۱-۳۲۱-.....

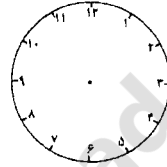
۲ هر یک از زمان های داده شده را روی صفحه ی ساعت نشان بدهید.



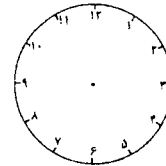
۲۴:۰۰



۱۴:۲۰



۲۰:۳۰



۱۷:۵۰

۳ حاصل جمع های زیر را به دست بیاورید.

$۶+۵+۳+۴+۵+۲=$

$۸+۵+۵+۲+۷+۱=$

$۷+۵+۳+۱+۴=$

$۹+۱+۲+۱+۷+۹=$

۴ در جاهای خالی عدد مناسب بنویس.

۲	۳۶	۵۰۸	۷۲	۶۹۸	۴۸۶	۴۳
---	----	-----	----	-----	-----	----

+ ۳۰۰

--	--	--	--	--	--	--

۵ به سوالات زیر پاسخ بدهید.

- الف: باز شده ی مکعب از چند مربع تشکیل شده است؟.....
- ب: سومین عدد در شمارش ۵ تا ۵ تا بعد از ۸۵، کدام عدد می شود؟.....
- پ: سی دقیقه بعد از ساعت پانزده و بیست دقیقه، چند می شود؟.....
- ت: اگر به عدد ۶۶ سی و سه تا اضافه کنیم، چه عددی به دست می آید؟.....



مقطع: دبستان

درس: ریاضی

استان:

دوره: اول

نوع آزمون: ارزشیابی

شهرستان:

پایه: سوم

زمان آزمون: ۵۵ دقیقه

آموزشگاه:

۶ زمان‌های داده شده را بطور مناسب به همدیگر وصل کنید.

- ساعت ۱۹ و ۲۰ دقیقه ● ساعت ۲۰ و ۱۹ دقیقه
- ساعت ۱۴ و بیست دقیقه ● ساعت ۸:۲۰
- ساعت ۱۳ و بیست دقیقه ● ساعت ۷:۲۰
- ساعت ۲۰ و بیست دقیقه ● ساعت ۱:۲۰

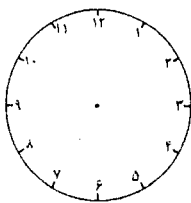
۷ جدول زیر را کامل کنید. (مربوط به زمان)

		۲۳:۴۵	۲۱:۰۰		بصورت دیجیتالی
یک و ربع	هفت و ده دقیقه			دو و نیم	خواندن ساعت

۸ خط تقارن‌های شکل‌های زیر را رسم کن.



۹ سیاوش بادوستش قرار گذاشته اند که هر دو نفر امشب راس ساعت ۸:۲۰ شروع به مطالعه کردن نمایند. عقربه‌های ساعت در این زمان روی چه عددهایی قرار گرفته‌اند؟ روی شکل نشان بدهید.



۱۰ شهرزاد ۴ بسته آدامس خریده است که هر بسته ۵ عدد آدامس دارد، اگر او ۴ عدد از این آدامس‌ها را به دوستانش داده باشد چند عدد آدامس دیگر هنوز برایش باقی مانده است؟

نتیجه ی ارزشیابی : خیلی خوب ○ خوب ○ قابل قبول ○ نیاز به تلاش بیشتر ○