
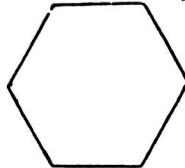

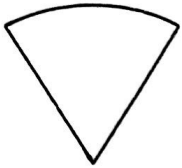



۱ عدد  $7523$  را با حروف بنویسید.

پایز شده ی این عدد را بنویسید


۲ برای شکل های زیر خط تقارن رسم کنید؟



۳ عدد های زیر را روی محور نشان بده.



$\frac{1}{3}$  واحد بعد از عدد ۳



$\frac{3}{4}$  واحد مانده به عدد ۱

$5320 \bigcirc 1997$

$\frac{3}{5} \bigcirc \frac{1}{5}$

علامت  $< = >$  قرار دهید.

$2324 \bigcirc 2224$

$2$  واحد و  $\frac{1}{4}$  واحد  $\bigcirc$

$5$  واحد و  $\frac{2}{3}$  واحد

۵ یک مثلث ..... زاویه دارد و یک مستطیل ..... زاویه راست دارد.

۶ جاهای خالی را کامل کن.

الف) عدد ..... یعنی ۳ بیلیون، ۴ ده تایی، صفر صد تایی، ۵ هزار تایی



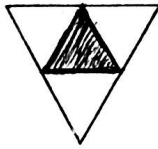
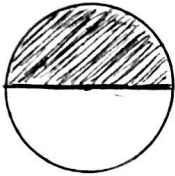
ب) ۲۷۰۰ گرم یعنی ..... کیلوگرم و ..... گرم

پ) ۳۲۵ سانتی متر یعنی ..... متر و ..... سانتی متر

۷ با رسم شکل حاصل جمع و تفریق را به دست آورید.

$$۱۲۳۲ + ۲۱۵۳$$

۸ برای هر شکل یک کسر بنویس.



۹ حاصل ضرب های زیر را بنویس.

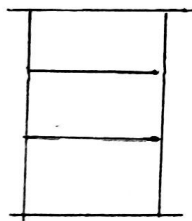
$۳ \times ۴ =$

$۵ \times ۲ =$

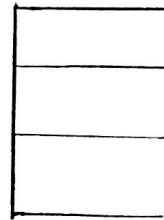
$۸ \times ۸ =$

$۹ \times ۲ =$

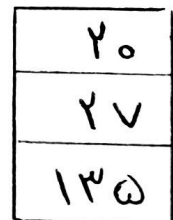
۱۰ با توجه به عدد های خروجی و کاری که ماشین انجام می دهد عدد های ورودی را بنویس.



+۱۲  
→



-۵  
→



۱۱ حاصل  $۳ \times ۳ =$  را با روش های مختلف به دست آورید؟