

آمادگی و دبستان دخترانه غیردولتی روش نوین



یا به سوم

نام و نام خانوادگی :

تاریخ: ۱۳۹۹/۱۰/۱۵

موضوع : ارزشیابی ریاضی (دی ماه)

الف) جاهای خالی را پر کنید.

۱. طول قد مریم ۱۲۸ است.
۲. طول فرش ۳ است.
۳. فاصله بین شهر ها را با واحد اندازه می گیریم.
۴. برای اندازه گیری فاصله شهر ها از استفاده می کنیم که برابر است با ۱۰۰۰

ب) به سوالات زیر پاسخ دهید.

۵. اعداد زیر را با رقم بنویسید، برای هر کدام جدول ارزش مکانی بکشید.

الف: پنج هزار و چهارصد و دو

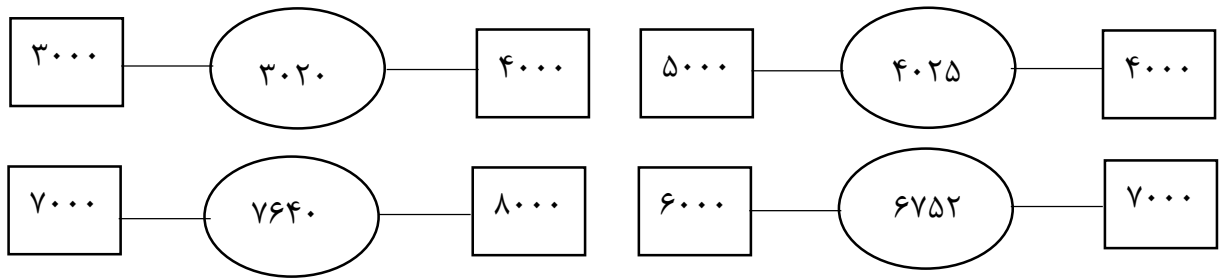
ب: هفت هزار و سه

۶. یک دلار در کشوری به اندازه ی ۲۰۰۰ تومان ارزش دارد. ۳ دلار این کشور ارزش بیشتری دارد یا ۵۵۰۰ تومان؟

۷. قد نادر ۱ متر و ۷۰ سانتی متر است. قد نگین ۵۰ سانتی متر از او کوتاه تر است. قد نگین چند سانتی متر است؟

۸. قطاری ساعت ۷ صبح حرکت می کند و پس از ۸ ساعت به مقصد می رسد قطار چه ساعتی می رسد؟

۹. عدد داخل دایره به کدام عدد نزدیکتر است؟ (رنگ بزنید)



۱۰. زهرا ۳ جعبه ی ۶ تایی مداد رنگی داشت. ۳ تا از مداد های خود را به دوستش داد. او چند مداد دارد؟

۱۱. چهار ۵ تا یعنی چه؟

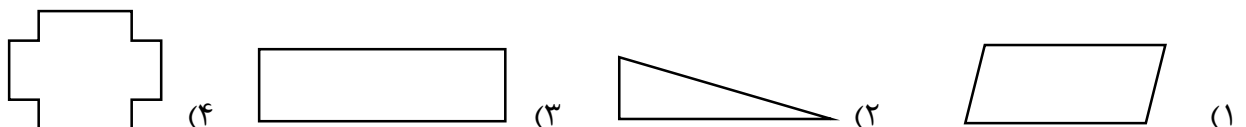
شکل آن را بکشید.

تساوی آن را بنویسید.


۱۲. قیمت های مساوی را به هم وصل کنید.

۲۷۶ تومان	۲۷۶۰ ریال
۷۹۹ تومان	۱۲۰۰ ریال
۴۵۳ تومان	۴۵۳۰ ریال
۱۲۰ تومان	۷۹۹۰ ریال

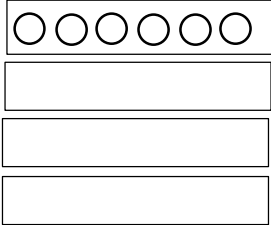
۱۳. کدام شکل زاویه راست ندارد؟



۱۴. جمله ها و شکل ها را کامل کنید.



الف) دسته ی ۴ تایی می شود



ب) ۴ ردیف می شود

۱۵. علامت مناسب $\langle = \rangle$ بگذارید.

الف) یک کیلومتر دو تا ۵۰۰ متر

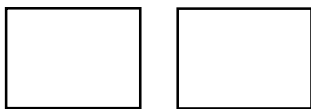
ب) ۷۹۰۸ متر ۸ کیلومتر

ج) ۸ کیلومتر و ۲۹ متر ۸ کیلومتر و ۲۹۹ متر

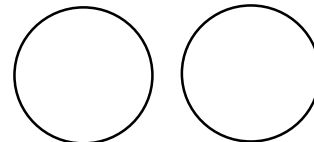
د) ۲ کیلومتر ۲۰۰۱ متر

ه) ۵ کیلومتر ۴۹۵۰ متر

۱۶. عزیزم، ابتدا کسر های داده شده را روی شکل نشان بده؛ سپس در جای خالی علامت مناسب $\langle = \rangle$ بگذار.



$$\frac{1}{3} \quad \circ \quad \frac{4}{5}$$



$$\frac{3}{4} \quad \circ \quad \frac{1}{2}$$

۱۷. کسر های زیر را مقایسه کنید

$$\frac{2}{3} \quad \circ \quad \frac{2}{7}$$

$$\frac{3}{3} \quad \circ \quad \frac{7}{7}$$

$$\frac{2}{2} \quad \circ \quad \frac{1}{2}$$

$$۲ \text{ واحد} \quad \circ \quad ۳ \text{ واحد و } \frac{1}{2} \text{ واحد}$$

$$۲ \text{ واحد و } \frac{3}{5} \text{ واحد} \quad \circ \quad ۱ \text{ واحد و } \frac{1}{5}$$