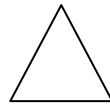
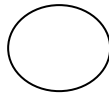



دبستان آزاده

۱ نام هر شکل را بنویس



.....

۲ با توجه به ساعت کامل کن



ساعت ..... است . ساعت از ..... گذشته است . کمی به ساعت ..... مانده است .

۳ دسته ده تایی درست کن و در جای خالی عدد مناسب بنویس

☒☒☒☒☒☒

☒☒☒☒☒☒

☒☒☒☒☒☒

☒☒☒☒☒☒

☒☒☒☒☒☒☒☒

☒☒☒☒☒☒☒☒☒☒

باعدد.....

با حروف.....



۴ جواب جمع ها را بنویس و دور علامت مناسب خط بکش

$10 + 10 + 5 =$

< = >

$5 + 5 + 20 =$

$50 + 10 + 10 =$

< = >

$25 + 5 + 10 =$

۵ مساله را حل کن

مریم ۲۰ شکلات خرید . ۹ تایی آن را به خواهرش و ۶ تایی آن را به برادرش داد . چند شکلات برای او باقی مانده است ؟ شکل بکشید

..... - ..... = .....

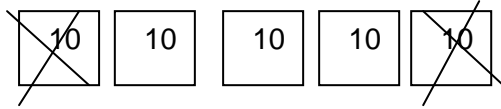
..... - ..... = .....

ادامه بدهید

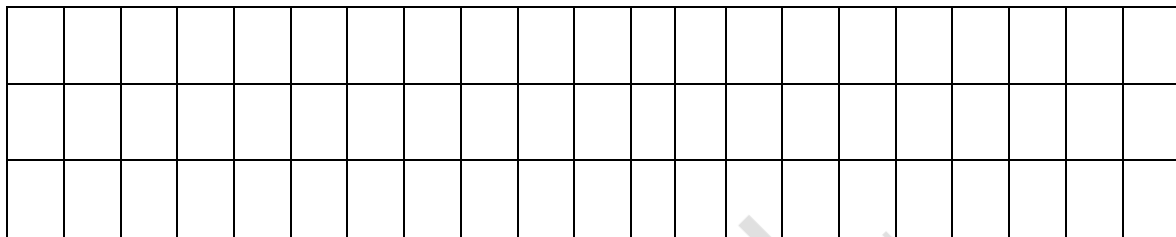
..... ۶ ..... ۶ ..... ۶ ..... ۱۲، ۱۴، ۱۶ ،

..... ۶ ..... ۶ ..... ۶ ..... ۶۰، ۵۵، ۵۰ ،

۷ برای شکل زیر تفریق بنویس



۸ یک الگوی سه تایی بکش



۹ ۶ دانش آموز در حیاط مدرسه بازی می کردند. ۶ تای دیگر هم آمدند. حالا چند دانش آموز بازی می کنند؟ با کمک محور



۱۰ در جای خالی عدد مناسب بنویس

۱۰ بسته ی ده تایی می شود یک دسته ی ..... تایی

۵۰ می شود ..... بسته ده تایی

۲ بسته ده تایی و ۹ یکی می شود.....

۴۵ می شود ..... ده تایی و ..... یکی

کل های زیبا موفق باشید