

به نام خدای مهربان

تاریخ:

نام و نام خانوادگی: دبستان دخترانه شهید پورجندقی

آموزگار: خانم کاظمی

دوم ریاضیات

۱. تفاوت و شباهت مستطیل را بنویسید.

شباهت: هر دو چهار ضلع و چهار گوشه دارند.

در مستطیل همه ضلع های رو به رو باهم برابر هستند ولی در مربع همه اضلاع با هم برابرند.

۲. در جای خالی عدد مناسب بنویس.

الف) ۵۲ به چه عددی نزدیک تر است ۴۰ یا ۵۰؟

ب) ۷۹ به چه عددی نزدیک تر است ۷۰ یا ۸۰؟

ج) عدد ۱۳۲ به ۱۳۰ نزدیک تر است یا به ۱۴۰؟

د) عدد ۲۴۹ به ۲۴۰ نزدیک تر است یا به ۲۵۰؟

۳. ساعت چند است؟ بنویس.



ساعت ۳ و ۴۵ دقیقه

۱۰ دقیقه بعد از ساعت ۱۰:۰۵ چه ساعتی است؟

۱۵ دقیقه بعد از ساعت ۷:۴۵ چه ساعتی است؟

۴. قد مهران ۱۵۳ سانتیمتر است خواهرش ۱۳ سانتیمتر از او بلندتر از قد این دو نفر روی هم چند سانتی متر است؟

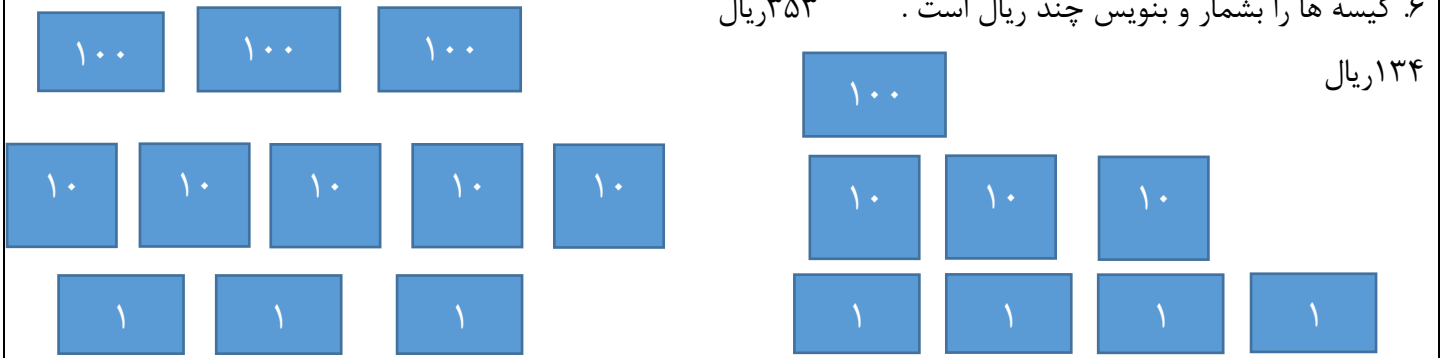
۱۶۶ سانتی متر

۳۱۹ سانتی متر

$$\begin{array}{r} 153 \\ + 166 \\ \hline 319 \end{array} \qquad \begin{array}{r} 153 \\ + 13 \\ \hline 166 \end{array}$$

۵. اگر فاطمه ۲۰۰ تا سکه یک ریالی به بانک تحویل دهد بانک چند سکه ۱۰ ریالی به او می دهد؟

۶. کیسه ها را بشمار و بنویس چند ریال است . ۳۵۳ ریال



۱۳۴ ریال

۷. اعداد زیر را به رقم و حروف بنویس.

پانصد و هفتاد ۵۷۰

ششصد و نود و یک ۶۹۱

۶۰۲ ششصد و دو

۹۴۰ نهصد و چهل

۸. حسین ۴۰۰ ریال و مجید ۳۰۰ ریال را در صندوق انداختند آنها با هم چند ریال در صندوق انداختند؟ ۷۰۰ ریال

$$400 + 300 = 700$$

۹. ۴ سانتی متر و ۷ میلی متر چند میلی متر است؟ ۴۷ میلی متر

۷۸ میلی متر چند سانتی متر و چند میلی متر است؟ ۸ میلی متر و ۷ سانتی متر

۱۰. با سه کارت که روی آنها رقم های ۷ و ۳۰ و نه نوشته شده است تمام عددهای سه رقمی را که می توان ساخت درست

کنید. ۴ عدد ۷۹۰-۷۰۹-۹۷۰-۹۰۷

چند عدد سه رقمی درست شد؟

۱۱. حاصل جمع و تفریق های زیر را به دست آورید.

فرایندی	تکنیکی	فرایندی	تکنیکی
۶۵۱	۵۹۲	۴۹۲	۴۲۸
+ ۲۳۳	+ ۲۲۱	- ۲۵۱	- ۱۱۹
۸۵۱	۸۱۳	- ۲۹۲	۳۰۹
۳۲		۵۱	
۸۸۱		- ۲۴۲	
+ ۲		۱	
۸۸۳		۲۴۲	

۱۲. عددها را مقایسه کن و علامت \leq مناسب بگذار .

$$۱۰۰+۳۰۰=۲۰۰+۲۰۰$$

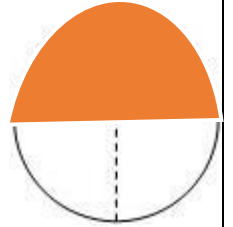
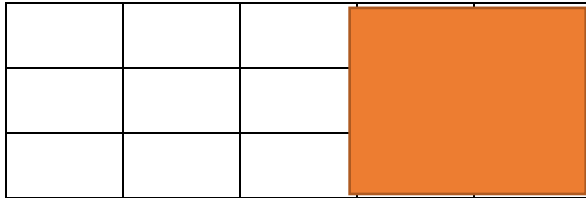
$$۲۰۰+۷ < ۲۲۰$$

$$۳۱۶ < ۴۱۵$$

۱۳. با توجه به عبارت نوشته شده شکل و رنگ بزن .

۶ قسمت از ۱۵ قسمت

سه قسمت از چهار قسمت



۱۴. در جعبه مداد رنگی مداد قرمز ۵ مداد آبی و سه مداد سبز وجود دارد .

چه کسری از مدادها قرمز است؟ دو مداد از ۱۰ مداد قرمز است

چه کسری از مدادها آبی است؟ ۵ مداد از ۱۰ مداد آبی است

چه کسری از مدادها سبز است؟ سه مداد از ۱۰ مداد سبز است

۱۵. تعداد دانش آموزان شرکت کننده در رشته های ورزشی یک باشگاه به صورت زیر است.

رشته	والیبال	بسکتبال	فوتبال	کاراته	شنا	ژیمناستی	شنا
تعداد	۶۳	۴۸	۳۳	۳۴	۳۸	ک	۲۱
تعداد تقریبی	۶۰	۵۰	۳۰	۳۰	۴۰		۲۰

ابتدا تعداد تقریبی دانش آموزان را بنویس و نمودار را با نشان دادن هر ۱۰ نفر با شکل کامل کن.

<input type="checkbox"/>					
<input type="checkbox"/>	<input type="checkbox"/>				
<input type="checkbox"/>	<input type="checkbox"/>			<input type="checkbox"/>	
<input type="checkbox"/>	<input type="checkbox"/>	<input type="checkbox"/>	<input type="checkbox"/>	<input type="checkbox"/>	<input type="checkbox"/>
<input type="checkbox"/>	<input type="checkbox"/>	<input type="checkbox"/>	<input type="checkbox"/>	<input type="checkbox"/>	<input type="checkbox"/>
<input type="checkbox"/>	<input type="checkbox"/>	<input type="checkbox"/>	<input type="checkbox"/>	<input type="checkbox"/>	<input type="checkbox"/>

والیبال

بسکتبال

فوتبال

کاراته

شنا

ژیمناستیک

موفق و پیروز باشید.