

# دبستان دخترانه غیر دولتی ترنج دانش



نام درس: ریاضی

کلاس: (ر)

نام و نام خانوادگی:

تاریخ: ۱۳۹۱/۳/۵

نام آموزگار: کریمی

۱- با کارت‌های ۴ و ۳ و ۷ تمام عددهای سه رقمی را بنویس، کوچکترین و بزرگترین را مشخص کن.

بزرگترین:

کوچکترین:

با عدد و حروف بنویسید.

	صد و دو	۹۱۰	
	ششصد و نود و سه	۷۳۸	

۲- در جای خالی، عدد مناسب بنویس.

الف) ۱۵ میلی‌متر، همان ..... سانتی‌متر و ..... میلی‌متر است.

ب) ۳۰ میلی‌متر، همان ..... سانتی‌متر است.

۳- قد لایلا ۱۳۸ سانتی‌متر است، خواهرش فاطمه ۱۵ سانتی‌متر از او بلندتر است،


قد این دو نفر روی هم چند سانتی‌متر است؟

۴- علی ساعت ۷ و ۴۵ دقیقه از منزل خارج می‌شود و

یک ربع بعد به مدرسه می‌رسد. علی چه ساعتی به

مدرسه می‌رسد، با رسم شکل نشان دهید.

۵- برای شکل زیر یک جمله بنویس.



..... تا ..... تایی می‌شود .....

۵۵) دانش آموزان را به نام کامل کن.

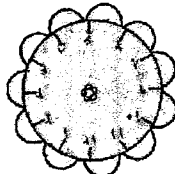
تعداد تقریبی						
تعداد دانش آموزان	۸۷	۸۳	۱۴	۱۷	۲۴	۲۶
کلاس	اول	دوم	سوم	چهارم	پنجم	ششم

تعداد دانش آموزان را به صورت تقریبی در جدول زیر بنویس.

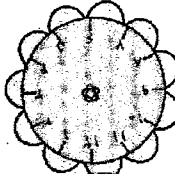
تعداد دانش آموزان یک مدرسه در جدول زیر آمده است.

۱۱ -

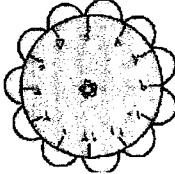
۹:۳۰



۶:۴۰



۵:۱۵



(با کشیدن عقربه‌ها) زمان‌های مشخص شده را روی ساعت نشان بده.

۱۲) شانس بیرون آمدن چه رنگی از همه از کمره است؟

۱۳) شانس بیرون آمدن چه رنگی از همه بیشتر است؟





۱۵) در کتای ۸ مهری قرمز، ۴ مهری نارنجی، ۲ مهری سبز و ۲ مهری آبی وجود دارد.



$$\begin{array}{r} 426 \\ + 338 \\ \hline \end{array}$$

$$\begin{array}{r} 81 \\ - 88 \\ \hline \end{array}$$

۱۶) حاصل جمع و تفریق زیر را بنویس.

تعداد ضلع				
نام شکل				
شکل				

۱۷) جدول زیر را کامل کن.

۱۸) هر قطعه‌ای ساخته‌شده با ۴ چینه درست شده است. یک ساختمان ۳ طبقه چند چینه دارد؟

نام و نام خانوادگی: \_\_\_\_\_ کلاس: \_\_\_\_\_

نام آموزگار: \_\_\_\_\_ تاریخ: \_\_\_\_\_

**دانشگاه خوارزمی**