



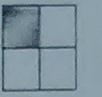
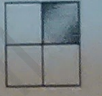
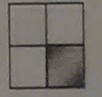
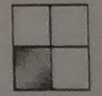
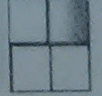


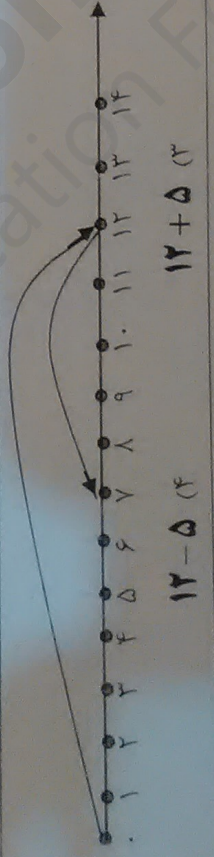
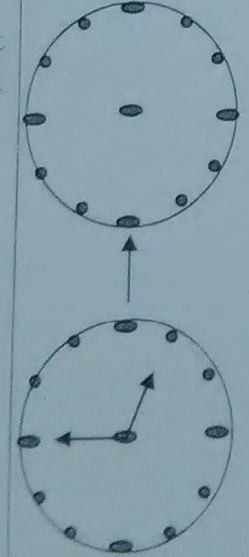


۳۱	رضا ۷ ساله است. خواهرش ۵ سال از او بزرگ تر است. خواهر رضا چند سال دارد؟ (۱) ۱۳ سال (۲) ۷ سال (۳) ۱۲ سال (۴) ۵ سال
۳۲	احمد دیروز ۲ بسته ده تایی کاغذ رنگی خرید، او با ۷ برگ از کاغذ ها کار دستی درست کرد. حالا احمد چند کاغذ رنگی دارد؟ (۱) ۱۶ کاغذ رنگی (۲) ۱۵ کاغذ رنگی (۳) ۱۴ کاغذ رنگی (۴) ۱۳ کاغذ رنگی
۳۳	در الگوی رو به رو چه عددی قرار می گیرد؟ (۱) ۲۳ (۲) ۲۲ (۳) ۲۱ (۴) ۲۰
۳۴	ساعت ۴ است. یک ساعت و ربع دیگر ساعت چند است؟ (۱) ساعت ۴ و ربع (۲) ساعت ۴ و نیم (۳) ساعت ۵ و ربع (۴) ساعت ۵ و نیم
۳۵	اگر سه دسته ی ده تایی به عدد ۳۲۸ اضافه کنیم؟ چه عددی به دست می آید؟ (۱) ۳۱۸ (۲) ۳۳۸ (۳) ۳۴۸ (۴) ۳۵۸
۳۶	حاصل عبارت رو به رو چه عددی است؟ (۱) ۶۱ (۲) ۶۰ (۳) ۵۱ (۴) ۵۰
۳۷	سعید برای خرید یک مداد تراش ۴۰ ریالی و ۲ پاک کن ۳۰ ریالی، باید چند ریال به فروشنده بدهد؟ (۱) ۷۰ ریال (۲) ۸۰ ریال (۳) ۹۰ ریال (۴) ۱۰۰ ریال
۳۸	با رقم های (۳، ۶، ۸) عددی بنویس که رقم یکان آن از رقم دهگانش بیش تر و رقم دهگان آن از رقم صدگانش کم تر باشد (۱) ۳۶۸ (۲) ۸۳۶ (۳) ۳۸۶ (۴) ۸۶۳
۳۹	کدام گزینه مربوط به محور است؟ (۱) ۱۲ - ۷ (۲) ۱۲ + ۷ (۳) ۱۲ + ۵ (۴) ۱۲ - ۵
۴۰	شکل بعدی الگوی رو به رو کدام است؟ (۱)  (۲)  (۳)  (۴) 



موفق و سربلند باشید

