
	تاریخ امتحان: ۱۳۹۸/۰۳/۱۸	رشته: عمومی	پایه: هشتم	سوالات امتحان: مطالعات اجتماعی
	مدت امتحان: دقیقه	آزمون نیمسال دوم خرداد ماه ۹۸		دوره اول آموزش متوسطه
	تعداد صفحات:	دبیرستان پسرانه دوستی و گفتگوی ممتاز حنان - منطقه ۶ تهران		

نام و نام خانوادگی:	شماره سندلی:
---------------------	--------------

بارم	متن سوال
۰/۵	<p>(الف) پاسخ صحیح را انتخاب نموده و با علامت ✓ مشخص کنید. (۲ نمره)</p> <p>۱ دریای مدیترانه در شمال کدام قاره قرار دارد؟</p> <p>(الف) آسیا <input type="checkbox"/> (ب) اروپا <input type="checkbox"/></p> <p>(ج) آفریقا <input type="checkbox"/> (د) استرالیا <input type="checkbox"/></p>
۰/۵	<p>۲ مهمترین کشور صنعتی آسیا کدام کشور می باشد؟</p> <p>(الف) چین <input type="checkbox"/> (ب) کره جنوبی <input type="checkbox"/></p> <p>(ج) هنگ کنگ <input type="checkbox"/> (د) ژاپن <input type="checkbox"/></p>
۰/۵	<p>۳ در کشورهای انگلستان و ایرلند چه نوع آب و هوایی حاکم است؟</p> <p>(الف) سرد <input type="checkbox"/> (ب) کوهستانی <input type="checkbox"/></p> <p>(ج) معتدل اقیانوسی <input type="checkbox"/> (د) بری یا قاره‌ای <input type="checkbox"/></p>
۰/۵	<p>۴ در زمان کدام یک از حکومت‌های زیر فرمان‌های حکومتی و دفترهای دیوانی از عربی به فارسی تغییر کرد؟</p> <p>(الف) غزنویان <input type="checkbox"/> (ب) خوارزمشاهیان <input type="checkbox"/></p> <p>(ج) ایلخانان <input type="checkbox"/> (د) سلجوقیان <input type="checkbox"/></p>
۰/۵	<p>(ب) صحیح و غلط بودن عبارتهای زیر را مشخص نمایید (۱/۵ نمره)</p> <p>۵ ساخت رصدخانه‌ی مراغه از اقدامات خواجه رشیدالدین فضل ... همدانی بوده است. صحیح <input type="checkbox"/> نادرست <input type="checkbox"/></p> <p>۶ رود نیل طولانی‌ترین رود جهان در قاره‌ی آفریقا قرار دارد. صحیح <input type="checkbox"/> نادرست <input type="checkbox"/></p> <p>۷ در دعاوی حقوقی دادگاه برای فردی که مرتکب جرم شده مجازات و زندان تعیین می‌کند. صحیح <input type="checkbox"/> نادرست <input type="checkbox"/></p>
۰/۵	<p>(پ) در جاهای خالی کلمات مناسب بنویسید. (۱/۵ نمره)</p> <p>۸ هر وسیله‌ای که پیامی را از فرستنده به گیرنده منتقل کند نام دارد.</p> <p>۹ به استرالیا و جزایر پراکنده در اقیانوس آرام گفته می‌شود.</p> <p>۱۰ مجموعه قوانینی را که چنگیزخان برای اداره‌ی قلمرو خود تعیین کرده و اجرا می‌کرد می‌نامند.</p>
	ادامه سوالات در پشت صفحه

	تاریخ امتحان: ۱۳۹۸/۰۳/۱۸	رشته: عمومی	پایه: هشتم	سوالات امتحان: مطالعات اجتماعی
	مدت امتحان: دقیقه	آزمون نیمسال دوم خرداد ماه ۹۸		دوره اول آموزش متوسطه
	تعداد صفحات:	دبیرستان پسرانه دوستی و گفتگوی ممتاز حنان - منطقه ۶ تهران		

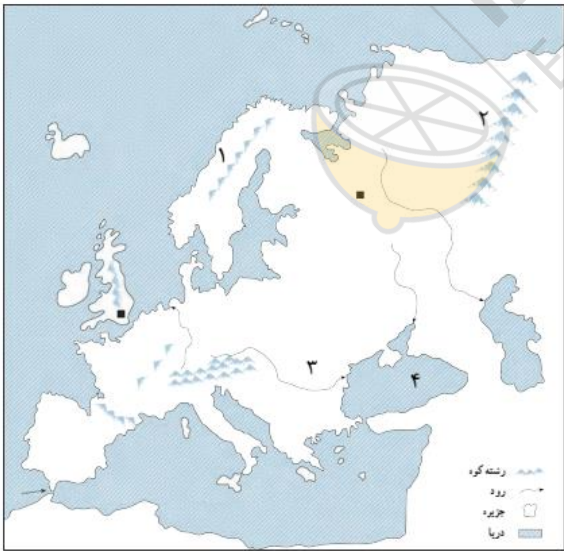
۱	<p>(ت) کلمات و عبارات های مربوط به هم را به یکدیگر وصل نمائید. (یک مورد اضافه است) (نمره ۵)</p> <table border="0"> <tr> <td><input type="checkbox"/> رشته کوه آند</td> <td><input type="checkbox"/> قاره آفریقا</td> </tr> <tr> <td><input type="checkbox"/> رشته کوه اطلس</td> <td><input type="checkbox"/> آمریکای شمالی</td> </tr> <tr> <td><input type="checkbox"/> رشته کوه راکی</td> <td><input type="checkbox"/> قاره اروپا</td> </tr> <tr> <td><input type="checkbox"/> رشته کوه آلپ</td> <td><input type="checkbox"/> آمریکای جنوبی</td> </tr> <tr> <td><input type="checkbox"/> رشته کوه کناره شرقی</td> <td></td> </tr> </table>	<input type="checkbox"/> رشته کوه آند	<input type="checkbox"/> قاره آفریقا	<input type="checkbox"/> رشته کوه اطلس	<input type="checkbox"/> آمریکای شمالی	<input type="checkbox"/> رشته کوه راکی	<input type="checkbox"/> قاره اروپا	<input type="checkbox"/> رشته کوه آلپ	<input type="checkbox"/> آمریکای جنوبی	<input type="checkbox"/> رشته کوه کناره شرقی		۱۱																														
<input type="checkbox"/> رشته کوه آند	<input type="checkbox"/> قاره آفریقا																																									
<input type="checkbox"/> رشته کوه اطلس	<input type="checkbox"/> آمریکای شمالی																																									
<input type="checkbox"/> رشته کوه راکی	<input type="checkbox"/> قاره اروپا																																									
<input type="checkbox"/> رشته کوه آلپ	<input type="checkbox"/> آمریکای جنوبی																																									
<input type="checkbox"/> رشته کوه کناره شرقی																																										
۱	<p>(ث) با توجه به توضیحات مقابل هر ردیف جدول زیر را کامل نمائید. (حرف اول هر کلمه آمده است.)</p> <table border="1"> <tr> <td>همان قوه مجریه است. (نام دیگر قوه مجریه)</td> <td></td> <td></td> <td></td> <td></td> <td></td> <td></td> <td></td> <td>د</td> <td>۱۲</td> </tr> <tr> <td>یکی از جزایر خلیج فارس می باشد.</td> <td></td> <td></td> <td></td> <td></td> <td></td> <td></td> <td></td> <td>ل</td> <td>۱۳</td> </tr> <tr> <td>یکی از فلات های بلند آسیا</td> <td></td> <td></td> <td></td> <td></td> <td></td> <td></td> <td></td> <td>ت</td> <td>۱۴</td> </tr> <tr> <td>بعضی جغرافی دانان به مجموع دو قاره آسیا و اروپا می گویند.</td> <td></td> <td></td> <td></td> <td></td> <td></td> <td></td> <td></td> <td>ا</td> <td>۱۵</td> </tr> </table>	همان قوه مجریه است. (نام دیگر قوه مجریه)								د	۱۲	یکی از جزایر خلیج فارس می باشد.								ل	۱۳	یکی از فلات های بلند آسیا								ت	۱۴	بعضی جغرافی دانان به مجموع دو قاره آسیا و اروپا می گویند.								ا	۱۵	
همان قوه مجریه است. (نام دیگر قوه مجریه)								د	۱۲																																	
یکی از جزایر خلیج فارس می باشد.								ل	۱۳																																	
یکی از فلات های بلند آسیا								ت	۱۴																																	
بعضی جغرافی دانان به مجموع دو قاره آسیا و اروپا می گویند.								ا	۱۵																																	
۰/۵	<p>(ج) من کیستم (۵/۰ نمره)</p> <p>یکی از ایلخانان مغول بودم که در شهر سلطانیه آرامگاهی برای خود بنا کردم که به گنبد سلطانیه معروف شد.</p>	۱۶																																								
۰/۵	<p>(چ) به پرسش های زیر پاسخ دهید. (۵/۱۲)</p> <p>در شمال آفریقا بیش تر مردم به چه زبانی صحبت می کنند؟ و چه دینی دارند؟</p>	۱۷																																								
۰/۵	<p>شعار سربداران چه بود؟</p>	۱۸																																								
۰/۵	<p>جنگ ملازگرد میان آلب ارسلان و کدام دولت بود و نتیجه ی آن چه شد؟</p>	۱۹																																								
۰/۵	<p>در مورد قاره ی آمریکای جنوبی موارد خواسته شده را بنویسید.</p> <p>رود مهم: توده کوهستانی قدیمی:</p>	۲۰																																								
۰/۷۵	<p>در مورد جنوب غربی آسیا به سوالات زیر پاسخ دهید.</p> <p>الف) دین بیش از ۹۰ درصد مردم منطقه ب) این منطقه محل اتصال قاره آسیا با قاره های و می باشد.</p>	۲۱																																								
	ادامه سوالات در صفحه بعد																																									

	تاریخ امتحان: ۱۳۹۸/۰۳/۱۸	رشته: عمومی	پایه: هشتم	سوالات امتحان: مطالعات اجتماعی
	مدت امتحان: دقیقه	آزمون نیمسال دوم خرداد ماه ۹۸		دوره اول آموزش متوسطه
	تعداد صفحات:	دبیرستان پسرانه دوستی و گفتگوی ممتاز حنان - منطقه ۶ تهران		

نام و نام خانوادگی:	شماره سندلی:
---------------------	--------------

۰/۷۵	۲۲	برای هر یک از قاره‌های زیر یک مورد جاذبه گردشگری بنویسید. الف) آسیا: ب) آفریقا: ج) اروپا:									
۱	۲۳	از دو اصطلاح زیر یک مورد را به دلخواه تعریف کنید. الف) مالیات: ب) بودجه:									
۱	۲۴	موارد استراتژیک (راهبردی) جنوب غربی آسیا را بنویسید. (۲ مورد)									
۱	۲۵	هریک از حکومت‌های زیر توسط چه کسانی تأسیس شدند و وزیران هر یک را بنویسید. <table border="1" data-bbox="391 1344 1212 1545"> <tr> <td>نام سلسله</td> <td>سلجوقیان</td> <td>ایلخانان</td> </tr> <tr> <td>موسس</td> <td></td> <td></td> </tr> <tr> <td>وزیر یا مشاور</td> <td></td> <td></td> </tr> </table>	نام سلسله	سلجوقیان	ایلخانان	موسس			وزیر یا مشاور		
نام سلسله	سلجوقیان	ایلخانان									
موسس											
وزیر یا مشاور											
۱	۲۶	کدام قسمت‌های آسیا سرمای زمستانی ندارد؟ چرا؟ یک دلیل بنویسید.									
۱	۲۷	در مورد استرالیا و اقیانوسیه به سؤال‌های زیر پاسخ دهید. الف) دین مردم استرالیا و نیوزیلند: ب) یکی از بندرهای مهم استرالیا: ج) زبان رسمی مردم استرالیا: د) نسبت به استوا در کدام نیمکره قرار دارد؟									
		ادامه سوالات در پشت صفحه									

	تاریخ امتحان: ۱۳۹۸/۰۳/۱۸	رشته: عمومی	پایه: هشتم	سوالات امتحان: مطالعات اجتماعی
	مدت امتحان: دقیقه	آزمون نیمسال دوم خرداد ماه ۹۸		دوره اول آموزش متوسطه
	تعداد صفحات:	دبیرستان پسرانه دوستی و گفتگوی ممتاز حنان - منطقه ۶ تهران		


۱	<p>در مورد دوره‌ی خوارزمشاهیان به موارد زیر پاسخ دهید.</p> <p>الف) یکی از دلایل سست بودن پایه‌های حکومت آن‌ها را بنویسید.</p> <p>ب) بهانه‌ی حمله‌ی مغول‌ها به ایران چه بود؟</p>	۲۸
۱	<p>در هنگام استفاده از فضای مجازی به چه نکاتی باید توجه نمود؟ دو مورد بنویسید.</p>	۲۹
۱	<p>دو مورد از عواملی که باعث توسعه و پیشرفت آمریکای شمالی را بنویسید.</p>	۳۰
۱	 <p>با توجه به شماره‌های روی نقشه به پرسش‌های زیر پاسخ دهید.</p> <p>۱- شبه جزیره:.....</p> <p>۲- رشته کوه:.....</p> <p>۳- رود:.....</p> <p>۴- دریای:.....</p>	۳۱
۲۰	جمع نمرات	

<p>۱- تصحیح</p> <p>نمره: با عدد باحروف</p> <p>نام و نام خانوادگی مصحح امضا</p>	<p>۲- رسیدگی به اعتراضات</p> <p>با عدد باحروف</p> <p>نام و نام خانوادگی تجدید نظر کننده امضا</p>	<p>۳- در صورت مغایرت نمره‌های موارد (۱ و ۲)</p> <p>با عدد باحروف</p> <p>نام و نام خانوادگی تایید کننده امضا</p>
------------------------------------------------------------------------------------	------------------------------------------------------------------------------------------------------	---------------------------------------------------------------------------------------------------------------------

	تاریخ امتحان: ۱۳۹۸/۰۳/۱۸	رشته: عمومی	پایه: هشتم	سوالات امتحان: مطالعات اجتماعی
	مدت امتحان: دقیقه	آزمون نیمسال دوم خرداد ماه ۹۸		دوره اول آموزش متوسطه
	تعداد صفحات:	دبیرستان پسرانه دوستی و گفتگوی ممتاز حنان - منطقه ۶ تهران		

نام و نام خانوادگی:	شماره سندلی:
---------------------	--------------

متن پاسخ	
الف) پاسخ صحیح را انتخاب نموده و با علامت ✓ مشخص کنید.	
آفریقا (۰/۵)	۱
ژاپن (۰/۵)	۲
اقیانوسی (۰/۵)	۳
سلجوقیان (۰/۵)	۴
ب) صحیح و غلط بودن عبارتهای زیر را مشخص نمایید.	
غلط (۰/۵)	۵
صحیح (۰/۵)	۶
غلط (۰/۵)	۷
پ) در جاهای خالی کلمات مناسب بنویسید.	
رسانه (۰/۵)	۸
اقیانوسییه (۰/۵)	۹
یاسا (۰/۵)	۱۰
ت) کلمات و عبارتهای مربوط به هم را به یکدیگر وصل نمایید.	
رشته کوه آند ← آمریکای جنوبی (۰/۲۵)	۱۱
رشته کوه اطلس ← آفریقا (۰/۲۵)	
رشته کوه راکی ← آمریکای شمالی (۰/۲۵)	
رشته کوه آلپ ← اروپا (۰/۲۵)	
ث) با توجه به توضیحات مقابل هر ردیف جدول زیر را کامل نمایید .	
دولت (۰/۲۵)	۱۲
لاوان (۰/۲۵)	۱۳
تبت (۰/۲۵)	۱۴
اوراسیا (۰/۲۵)	۱۵
ج) من کیستم	
سلطان محمد خدابنده یا الجایتو (۰/۵)	۱۶
چ) به پرسشهای زیر پاسخ دهید.	
زبان عربی (۰/۲۵) - و مسلمان هستند (۰/۲۵)	۱۷
شعار آنها «سربه دار می دهیم، تن به ذلت نمی دهیم» بود. (۰/۵)	۱۸
آلب ارسلان با امپراتور روم شرقی بود (۰/۲۵) که امپراتور روم شرقی شکست سختی خورد و به اسارت در آمد. (۰/۲۵)	۱۹
رود مهم: آمازون (۰/۲۵) توده کوهستانی قدیمی: برزیل (۰/۲۵)	۲۰
دین:	۲۱
محل اتصال: آسیا با اروپا و آفریقا هر مورد ۰/۲۵ جمعا ۰/۷۵ نمره	
آسیا: دیوار چین، شهرهای مقدس مکه و مدینه و جاذبه های تاریخی (مورد ۰/۲۵) آفریقا: آثار باستانی (اهرام مصر)، پارکهای ملی، کناره های شمال غربی (مورد ۰/۲۵)	۲۲

	تاریخ امتحان: ۱۳۹۸/۰۳/۱۸	رشته: عمومی	پایه: هشتم	سوالات امتحان: مطالعات اجتماعی
	مدت امتحان: دقیقه	آزمون نیمسال دوم خرداد ماه ۹۸		دوره اول آموزش متوسطه
	تعداد صفحات:	دبیرستان پسرانه دوستی و گفتگوی ممتاز حنان - منطقه ۶ تهران		

	اروپا: موزه‌ها، نمایشگاه‌ها، ورزش‌های باستانی، آثار تاریخی (مورد ۰/۲۵)			
۲۳	مالیات پولی است که بر طبق قانون افراد و موسسات به دولت می‌پردازند تا در جهت اداره‌ی امور کشور استفاده شود. بودجه‌سندی است که دولت در آن درآمدها و هزینه‌های یک کشور را برای یکسال معین می‌کند. (۱)			
۲۴	این منطقه کانون اتصال سه قاره‌ی آسیا، اروپا و آفریقا است و وجود آبراهه‌ها این منطقه انبار مهم انرژی جهان است. این منطقه کانون جهان اسلام است. دو مورد هر مورد ۰/۵ نمره جمعاً ۱ نمره			
۲۵	ایلیخانان	سلجوقیان	نام سلسله	جمعاً (۱ نمره)
	هلاکو ۰/۲۵	طغرل ۰/۲۵	موسس	
	خواجه نصیرالدین طوسی ۰/۲۵	عمیدالملک کندی ۰/۲۵	وزیر یا مشاور	
۲۶	سرزمین مجاور دریاها از دریای سرخ تا جزیره‌ی تایوان در شرق چین (۰/۷۵) به دلیل نزدیکی به خط استوا و یا وجود دریاها و اقیانوس‌ها یک مورد (۰/۲۵) جمعاً ۱ نمره			
۲۷	(الف) مسیحی (ب) سیدنی و ملبورن (ج) انگلیسی (د) نیمکره جنوبی (هر مورد ۰/۲۵)			
۲۸	(الف) خلیفه‌ی عباسی آن‌ها را به رسمیت نمی‌شناخت، تسلطی بر فرمانروایان محلی نداشتند. ۱ مورد (۰/۵) (ب) در زمان سلطان محمد خوارزمشاه اعضای یک کاروان تجاری مغول به دستور حاکم آن شهر به جرم جاسوسی دستگیر و کشته شدند. (۰/۵)			
۲۹	همه اطلاعاتی که در اینترنت وجود دارد صحیح نیست. عکس‌ها و فیلم‌های خانوادگی را وارد اینترنت نکنیم. رمز عبور پست الکترونیک و کارت‌های بانکی خود را فاش نکنیم. به بازی‌های رایانه‌ای اعتیاد پیدا نکنیم چون در زندگی و تحصیل اختلال ایجاد می‌شود. ۲ مورد هر مورد ۰/۵ نمره جمعاً ۱ نمره			
۳۰	مهاجرت اروپایی‌ها با تمام دانش‌ها و مهارت‌ها و سرمایه‌هایشان به آمریکا وجود معادن زیرزمینی، منابع طبیعی، زمین‌های حاصلخیز، رودهای پر آب و ... دور بودن از صحنه جنگ جهانی دوم که آمریکا آسیب ندید جذب نیروهای متخصص از سراسر دنیا ۲ مورد هر مورد ۰/۵ نمره جمعاً ۱ نمره			
	(ح) لطفاً از دو سوال زیر به یک مورد پاسخ دهید.			
۳۱	۱- شبه جزیره‌ی اسکاندیناوی	۲- رود دانوب	۳- رشته کوه اورال	۴- دریای سیاه (هر مورد ۰/۲۵) جمعاً ۱ نمره