

نام آموزشگاه : ولایت فقیه

وزارت آموزش و پرورش

نام خانوادگی :

کلاس : چهارم 1

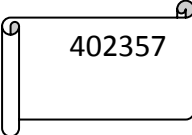
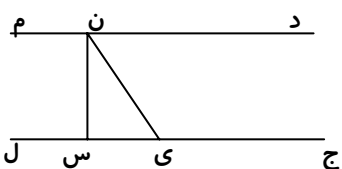
اداره کل آموزش و پرورش استان آذربایجان غربی



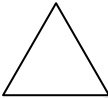

ماده درسی : ریاضی

نوبت امتحانی : مستمر

معاونت اداره کل و مدیریت آموزش و پرورش خوی

تاریخ امتحان : مدت امتحان : 45 دقیقه تعداد سؤال : 19 تعداد صفحه : 2 صفحه : 1

ردیف	شرح سؤالات	بارم
1	<p>با توجه به عدد مقابل به سؤال ها پاسخ دهید .</p> <p>الف) این عدد دارای چند طبقه است ؟ نام ببرید .</p> <p>ب) عدد را با حروف بنویسید .</p> <p>ج) کدام رقم ارزش مکانی کم تری دارد ؟</p>	
2	<p>در جای خالی عدد مناسب بگذارید .</p> <p>$236 + (58 + 120) = 236 + \dots = \dots$</p> <p>$745239 = 700000 + \dots + 5000 + 200 + \dots + 9$</p>	
3	<p>با توجه به شکل به پرسش ها جواب دهید .</p> <p>الف) زاویه ی (ج ی ن) چه نوع زاویه ای است ؟</p> <p>ب) کدام پاره خط بر خط (ج ل) عمود است ؟</p> <p>ج) یک زاویه ی راست نام ببرید .</p> <p>د) در شکل چند نیم خط وجود دارد ؟</p>	
4	<p>پاره خطی به طول 4 س رسم کرده و عمود منصف آن را بکشید .</p>	
5	<p>یک کارخانه ی ماشین سازی 700 دستگاه اتومبیل به اراک و 275 دستگاه اتومبیل به کرج فرستاد . اگر تولید این کارخانه 1267 اتومبیل باشد ، چند اتومبیل در کارخانه مانده است ؟</p>	
6	<p>عدد « نه صد و نه هزار و نه » را با رقم بنویسید .</p>	
7	<p>درباره ی عبارت زیر مسئله بنویسید و حاصل آن را حساب کنید .</p> <p>$8 \times (20 + 12) =$</p>	

	برای هر زاویه اندازه ی مناسب بنویسید . الف) زاویه ی تند درجه ب) زاویه ی نیم صفحه درجه ج) زاویه ی قائمه درجه د) زاویه ی باز درجه	8
	در ضرب $20 = 4 \times 5$ به عدد 20 می گوئیم .	9
	یک 6 ضلعی از پاره خط درست شده است .	10
	واحد اندازه گیری مایعات است .	11
	بر روی یک خط راست پاره خط می توان یافت .	12
	قیمت 7 مداد 210 تومان است . قیمت 4 مداد چند ریال است ؟	13
	خارج قسمت تقسیم روبرو کدام است ؟ الف) 2114 () ب) 20114 () ج) 21014 () د) 21140 () <input type="radio"/> <input type="radio"/> <input type="radio"/> <input type="radio"/>	14
	تعداد خطّ تقارن هر شکل را زیر آن بنویسید .  ()  ()  ()  ()	15
	متوازی الاضلاعی رسم کنید که اندازه ی ضلع های متوالی آن به ترتیب 3 و 5 س و زاویه های آن قائمه باشد . نام دیگر آن چیست ؟	16
	اگر در یک تقسیم مقسوم علیه 9 و خارج قسمت 38 و باقی مانده 7 باشد ، مقسوم چند است ؟	17
	در <input type="radio"/> چه رقمی قرار دهیم تا عدد حاصل هم بر 2 وهم بر 5 و هم بر 3 بخش پذیر باشد ؟ 8406 <input type="radio"/>	18
	کسر مقابل را با رسم شکل نشان دهید . $\frac{3}{9}$	19

موفق باشید؛ علیزاده