




<p>۱ عدد هفت میلیون و سیصد و چهار هزار و دویست و نود و شش را به رقم بنویسید و به سوالات زیر پاسخ دهید.</p> <p>الف) جدول ارزش مکانی را برای این عدد رسم کنید.</p> <p>ب) ارزش مکانی رقم ۷ را بنویسید.</p> <p>ج) کدام رقم ارزش مکانی کمتری دارد؟</p> <p>.....</p>	۱
<p>۲ هشتمین شکل الگوی زیر چند دایره دارد؟ رابطه را بنویسید.</p> <div style="display: flex; justify-content: space-around; align-items: center;"> <div style="text-align: center;">  <p>(۱)</p> </div> <div style="text-align: center;">  <p>(۲)</p> </div> <div style="text-align: center;">  <p>(۳)</p> </div> <div style="text-align: center;"> <p>؟</p> <p>(۸)</p> </div> </div>	۲
<p>۳ حاصل جمع و تفریق کسر های زیر را بدست آورید</p> $\frac{2}{4} - \frac{1}{8} = \frac{\quad}{\quad} = \frac{\quad}{\quad}$ $\frac{2}{6} + \frac{1}{3} = \frac{\quad}{\quad} = \frac{\quad}{\quad}$	۳
<p>۴ ماشین های ترکیبی زیر را کامل کنید.</p> <div style="display: flex; align-items: center; justify-content: center;"> <div style="display: flex; flex-direction: column; gap: 10px;"> <div style="border: 1px solid black; padding: 5px; width: 40px; height: 40px; text-align: center;">۸</div> <div style="border: 1px solid black; padding: 5px; width: 40px; height: 40px;"></div> <div style="border: 1px solid black; padding: 5px; width: 40px; height: 40px; text-align: center;">۶</div> <div style="border: 1px solid black; padding: 5px; width: 40px; height: 40px;"></div> </div> <div style="margin: 0 20px; text-align: center;"> $\times 3$ </div> <div style="margin: 0 20px; text-align: center;"> $+ 2$ </div> <div style="display: flex; flex-direction: column; gap: 10px;"> <div style="border: 1px solid black; padding: 5px; width: 40px; height: 40px;"></div> <div style="border: 1px solid black; padding: 5px; width: 40px; height: 40px; text-align: center;">۱۴</div> <div style="border: 1px solid black; padding: 5px; width: 40px; height: 40px;"></div> <div style="border: 1px solid black; padding: 5px; width: 40px; height: 40px; text-align: center;">۲۹</div> </div> </div>	۴
<p>۵ ضرب روبه رو را انجام دهید و روی شکل نشان دهید.</p> $3 \times \frac{2}{8} = \dots\dots\dots$	۵

$300 - (67 + 49) =$	۶ برای عبارت مقابل یک مسئله بنویسید و حاصل آن را به دست آورید.
$\begin{array}{r} 927 \\ \times 340 \\ \hline \end{array}$	۷ حاصل ضرب های زیر را به دست آورید . $\begin{array}{r} 502 \\ \times 308 \\ \hline \end{array}$
۸ یک باغدار ۲۵۰ کیلوگرم از محصول پرتقال خود را کیلویی ۲۸۰۰ تومان و ۳۰۰ کیلوگرم از محصول سیب خود را کیلویی ۳۲۰۰ تومان فروخته است. این باغدار از فروش این محصولات در مجموع چقدر به دست آورده است؟	
$258 \overline{) 22}$	۹ حاصل تقسیم های زیر را به دست آورید . $1256 \overline{) 69}$