

یکان	دهگان	صدگان	هزارگان

۱- با توجه به شکل در جای خالی عدد یا کلمه مناسب بنویس.

به عدد: .....

به حروف: .....

۲- علی من خواهد کتابی را که ۱۲۰ صفحه دارد بخواند. اگر او روزی ۲۰ صفحه از کتابش را بخواند، مطالعه‌ی کتاب چند روز طول می‌کشد؟

۳- الگوی عددی زیر را ادامه بده.

..... - ..... - ..... - ۱۲۰۰ - ۱۲۵۰ - ۱۳۰۰  
 ۱ - ۳ - ۶ - ۱۰ - ..... - .....  
 ..... - ..... - ..... - ۷۳۰۰ - ۸۳۰۰ - ۹۳۰۰  
 ۲۰۰ - ۲۵۰ - ۳۰۰ - ..... - ..... - .....

۴- جدول زیر را کامل کن.

زمان	۷:۲۳		۲:۱۵
بعد از ظهر		۲۳:۲۵	



ریال	۵۰۰۰		۳۰۷۰
تومان		۶۰۵	

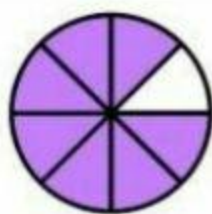
۵- عددهای داخل مستطیل به کدام عدد نزدیکتر است؟ علامت بزرگ.

۲۰۰۰
۲۳۵۸
۳۰۰۰
۲
 $\frac{1}{3}$  واحد بعد از عدد ۲
۳
۸۰۰۰
۸۹۵۰
۹۰۰۰

۶- در جای خالی، عدد مناسب بنویس.

الف) ۵۷۸ سانتی متر = ..... متر و ..... سانتی متر  
 ب) ۴۸۰۰ متر = ..... کیلومتر و ..... متر  
 ج) ۹۰۰۰ گرم = ..... کیلوگرم  
 د) ۳ کیلوگرم و ۲۴۰ گرم = ..... گرم

۷- برای شکل‌ها کسر مناسب بنویس و برای کسرهای شکل مناسب بکش.



-----

-----

$\frac{3}{8}$

$\frac{1}{5}$

۸- جاهای خالی را با عدد مناسب و شکل ها را با رنگ کردن کامل کنید.



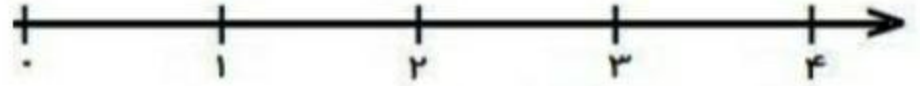
..... واحد و ..... واحد . واحد



..... واحد و ..... واحد



۲ واحد و  $\frac{۴}{۶}$  واحد



$\frac{۲}{۳}$  واحد بعد از عدد ۳

۹- برای شکل زیر دو ضرب و دو تقسیم بنویس.



..... × ..... = .....  
 ..... × ..... = .....

..... - ..... = .....  
 ..... - ..... = .....

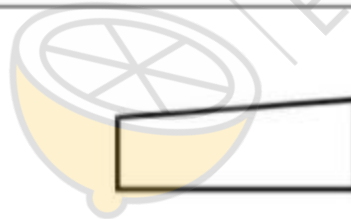
۱۰- در جاهای خالی عدد مناسب بنویس.

$(۵ + ۳) \times (۱ + ۵) = \dots \times \dots = \dots$

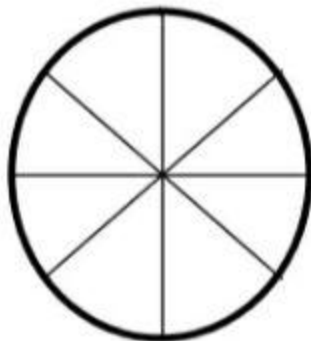
$(۶ \times ۴) - (۲ \times ۷) = \dots - \dots = \dots$

$(۲ \times ۳) + (۸ \times ۵) = \dots + \dots = \dots$

۱۱- در شکل های مقابل زاویه راست را رنگ کن.



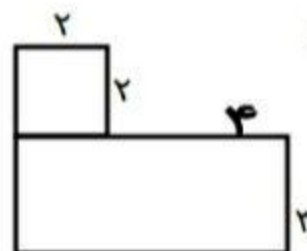
۱۲- تعداد دانش آموزان در یک آموزشگاه زبان ۲۵ دختر و ۱۵ پسر است. در نمودار دایره ای نشان بده.



۱۳- محیط و مساحت شکل های زیر را بدست بیاور.

محیط =

مساحت =



۱۴- جمع و تقریب های زیر را به روش های تعیین شده بدست آور.

خرایندی		انتقالی	
$\begin{array}{r} 6342 \\ + 2307 \\ \hline \end{array}$	$\begin{array}{r} 6865 \\ - 2532 \\ \hline \end{array}$	$\begin{array}{r} 6238 \\ + 1891 \\ \hline \end{array}$	$\begin{array}{r} 7562 \\ - 3793 \\ \hline \end{array}$

۱۵- سمر به میوه فروشی رفت . او از میوه های موز ، سیب و پرتقال هر کدام یک کیلو خرید . او ۹۰۰۰ تومان به فروشنده داد . با توجه به قیمت میوه ها او چقدر پول زاده است ؟ فروشنده باید چقدر به او برگرداند ؟  
 موز : ۳۱۰۰ تومان - سیب : ۲۷۵۰ تومان - پرتقال : ۲۷۰۰ تومان



پروژه و سربلندی باشید