



۱- در جای خالی علامت $< = >$ بگذار.

$200 + 100 + 5 + 50$ ○ $100 + 5 + 20 + 100 + 50$

$200 + 10 + 50$ ○ $400 + 100 + 10$

۲- اگر پدرت به تو ۵ سکه‌ی ۱۰ ریالی و ۲ سکه‌ی ۱۰۰ ریالی و ۱ سکه‌ی ۵۰۰ ریالی بدهد، تو چند ریال پول داری؟

..... ریال پول دارم.

۳- اگر به بانک بروی و ۱۰ سکه‌ی ۱۰ ریالی و ۲۰ سکه‌ی ۵ ریالی بگیری، چند ریال پول داری؟

..... ریال پول دارم.

۴- ۲۳۵ ریال را با شکل نشان بده و بنویس از چند سکه استفاده کردی؟ (با شکل نشان بده.)

..... سکه‌ی ۱۰۰ ریالی

..... سکه‌ی ۱۰ ریالی

..... سکه‌ی ۱ ریالی

۵- اعداد زیر را به صورت گسترده بنویس.

$۳۰۴ =$

$۴۷۱ =$

$۲۱۵ =$

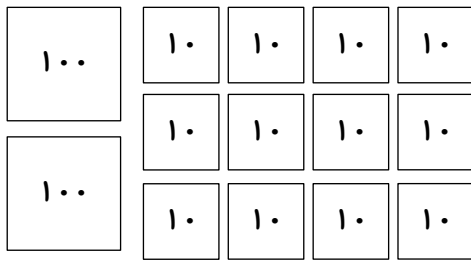
$۹۸۷ =$

۶- جمع‌های زیر را انجام دهید.

$$\begin{array}{r} ۳۵۷ \\ + ۱۳۲ \\ \hline \end{array}$$

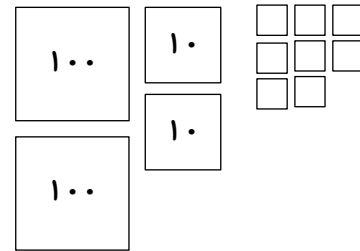
$$\begin{array}{r} ۵۴۱ \\ + ۱۲۵ \\ \hline \end{array}$$

۷- با توجه به شکل، اعداد سه رقمی را بنویس.



به رقم:

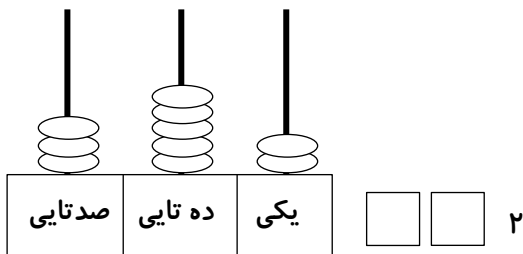
به حروف:



به رقم:

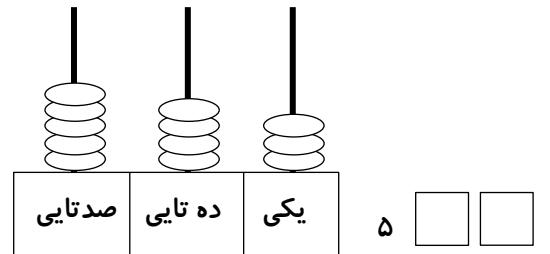
به حروف:

۸- با توجه به شکل، عدد مناسب را در جای خالی بنویس.



به رقم:

به حروف:

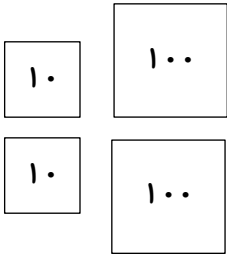


به رقم:

به حروف:



۹- با توجه به شکل مقابل، کدام گزینه درست است؟



۴۰۰ (۲)

۳۸۰ (۱)

۲۲۰ (۴)

۳۰۸ (۳)

۱۰- الگویابی زیر را ادامه بده.

۵۰۰ - ۵۵۰ - - - -

صد - صد و ده - - -

۱۱- اعداد زیر را به رقم و حروف بنویس.

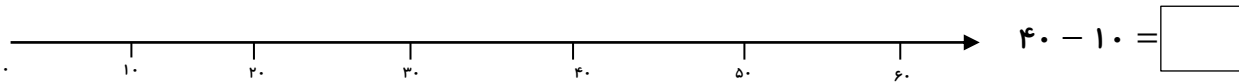
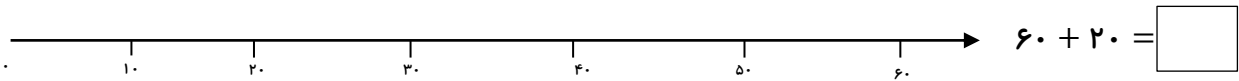
..... : ۲۴۸

..... : چهارصد و بیست

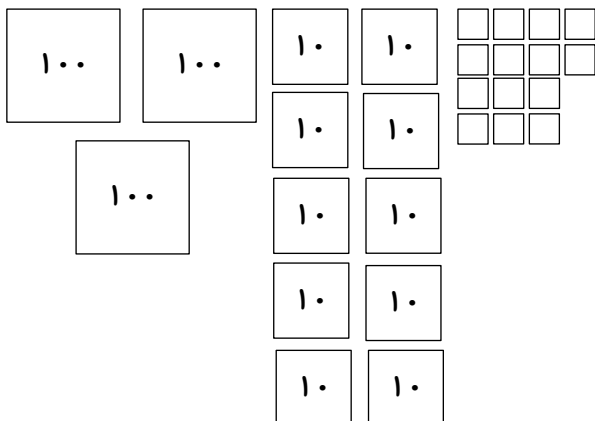
..... : ۵۳۰

..... : پانصد و پانزده

۱۲- محور زیر را مدرج کرده و حاصل جمع و تفریق‌های زیر را با کمک محور نشان دهید.



۱۳- با توجه به شکل، جدول را کامل کن.



صدگان	دهگان	یکان

..... به رقم:

..... به حروف:



نمونه سؤالات آزمون ورودی

درس: ریاضی

◀ صفحه: ۴

◀ پایه: سوم

◀ نام و نام خانوادگی:

۱۴- با رقم‌های ۶ و ۲ و ۳ تمام عددهای سه رقمی را که می‌توان نوشت بنویس.

با رقم‌های ۳ و ۵ و ۲ عددهای سه رقمی بنویس که جمع رقم‌های یکان و دهگان آن برابر صدگان آن باشد.

۱۵- حاصل جمع و تفریق‌های زیر را به صورت تقریبی با حذف رقم یکان و دهگان آن‌ها بنویس.


$$\begin{array}{r} 602 \longrightarrow \dots\dots\dots \\ - 303 \longrightarrow - \dots\dots\dots \\ \hline \end{array}$$

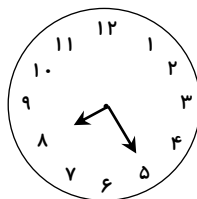
$$\begin{array}{r} 724 \longrightarrow \dots\dots\dots \\ + 213 \longrightarrow + \dots\dots\dots \\ \hline \end{array}$$

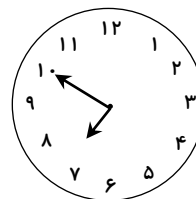
۱۶- اعداد زیر را با حذف رقم یکان و دهگان، به صورت تقریبی بنویس.

۷۲۴	۵۰۳	۹۴۷	۱۴۵	۱۸۴
<input style="width: 50px; height: 20px;" type="text"/>	<input style="width: 50px; height: 20px;" type="text"/>	<input style="width: 50px; height: 20px;" type="text"/>	<input style="width: 50px; height: 20px;" type="text"/>	<input style="width: 50px; height: 20px;" type="text"/>

۱۷- کدام ساعت ۱۰ دقیقه مانده به ۹ را نشان می‌دهد؟



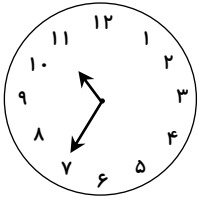




امضاء معلم:

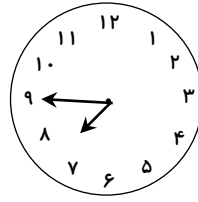
امضاء ولی:

۱۸- با توجه به شکل ساعت‌ها، جاهای خالی را کامل کن.



..... :

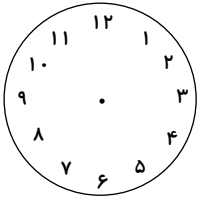
..... دقیقه به



..... :

..... دقیقه به

۱۹- ساعت ۷:۳۰ را روی شکل نشان بده.



ساعت و دقیقه
یا

.....

۲۰- اگر الان ساعت ۳:۵۰ باشد، یک ربع بعد ساعت چند است؟ آن را روی شکل نشان بده.

