

بسمه تعالی

مدرسه غیر انتقائی دخترانه سما

تاریخ : دی ماه ۹۹

نام و نام خانوادگی : ..... نام آزمون : ریاضی پایه : سوم ابتدایی

۱- الگوهای زیر را ادامه دهید.

۹-۱۸-۲۷.....-.....-.....

۱-۳-۶-۱۰.....-.....-.....

۲- در جای خالی عدد مناسب بنویس.

۳۵۰۷ می شود.....ده تایی ...یکی.....هزار تایی....صدتایی

۵متر یعنی.....سانتی متر

۷۵۰۰متر یعنی ....کیلومتر.....متر

۹کیلوگرم و ۳۴۷ گرم یعنی.....گرم

۳- حاصل جمع های زیر را بدست آورید؟

۴۰۰۰+۳۰۰۰+۵۰۰+۲۰+۹=....

۲۰۰۰+۵۰۰۰+۴۰۰+۳۰+۱=.....

۴- عددهای زیر را مقایسه کنید و از بزرگ تر به کوچک تر مرتب کنید.

۷۸۳۴-۸۶۰۹-۸۷۳۷- ۷۴۹۶-۶۷۹۲


۵- جدول های زیر را کامل کنید.

زمان	۱۷		۲۲:۳۰
بعد از ظهر		۳:۲۵	

ریال	۳۰۰۰		۲۴۷۰
تومان		۵۰	

۶- کسرهای زیر را روی محور نشان دهید.

$\frac{1}{3}$  واحد قبل از عدد ۲



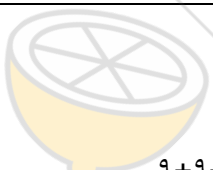
$\frac{3}{5}$  واحد بعد از عدد ۱



۷- رضا و علی هر کدام یک مقدار مساوی پول دارند رضا ثلث و علی ربع پول خود را خرج کرده اند با رسم شکل نشان بده که چه کسی پول کمتری خرج کرده است؟



۸- مینا ۳ بسته شکلات شیری ۶ تایی و ۴ بسته شکلات کاکائویی ۷ تایی دارد او چند شکلات دارد؟

۹- جدول را کامل کنید.

توضیح عبارت ضرب	ضرب	جمع	شکل
۴ دسته ۵ تایی می شود.			
		 $9+9+9=$	

۱۰- من ۳۲ مداد دارم اگر مدادهای من ۸ برابر مدادهای خواهرم باشد من و خواهرم روی هم چند مداد داریم؟

۱۱- خطوط موازی در هر شکل را رنگ بزنید.



۱۲- دایره ای به شعاع ۲ سانتی متر رسم کنید آن را به ۶ قسمت مساوی تقسیم کنید و ۴ قسمت آن را رنگ کنید و کسر مربوط به آن

را بنویسید.

بسمه تعالی

مدرسه غیر انتفاعی دخترانه سما

تاریخ : دی ماه ۹۹

نام و نام خانوادگی : ..... نام آزمون : ریاضی پایه : سوم ابتدایی

۱۳- در جا های خالی عدد مناسب بنویس.

$$۶۳ \dots = ۷$$

$$(۷ * ۳) - (۲ * ۸) = \dots - \dots = \dots$$

$$(۹ - ۲) + (۶ * ۳) = \dots + \dots = \dots$$



limoonad  
Education For All