



زمان: ۳۰ دقیقه

آزمونک فصل ۶ ریاضی پایه دوم

دبستان پسرانه دکتر محمد شفیعی

نام و نام خانوادگی:

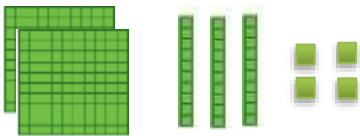
هدف: مقایسه ی اعداد ۳ رقمی

۱- ابتدا حاصل عبارت زیر را به دست آورید، سپس جواب را مقایسه کنید.

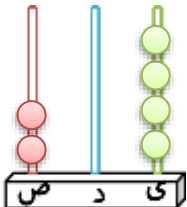
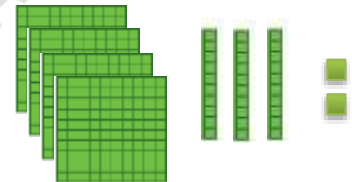
..... = ۹ + ۳۰۰ + ۴۰۰ ۸۰۰ + ۳۰ + ۴۰ =

..... = ۷صدتایی و ۹ده تایی ۹صدتایی و ۳ده تایی =

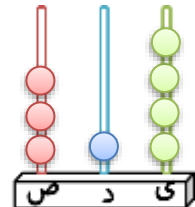
۲- ابتدا عددی را که هر شکل نشان می دهد، بنویسید و علامت مناسب بگذارید.





.....



.....



۳- با حذف قسمت های مساوی از دو طرف، حاصل به دست آمده را مقایسه کنید.



۹ + ۵ + ۲۰ + ۷۰ + ۳۰ + ۲۰۰ + ۵۰۰ ۵۰۰ + ۳۰ + ۵ + ۴۰۰ + ۲۰ + ۶۰

۴- اعداد داده شده را با هم مقایسه کنید.

۶۰۷ ○ ۶۷۰

۳۶۹ ○ ۲۳۶

خودسنجی : من در این آزمون

نیاز به تلاش	نزدیک به انتظار	در حد انتظار	انتظارات آموزشی
			فراگیر حاصل عبارات را به دست آورده و باهم مقایسه کرده است.
			اعداد شکل داده شده در چرتکه را به دست آورده و باهم مقایسه کرده است.
			سکه ها را با حذف قسمت های مساوی از دو طرف با هم مقایسه کرده است.
			اعداد داده شده را به درستی با هم مقایسه کرده است.

بازخورد آموزگار :

والدین سنجی :