

نام و نام خانوادگی:

۱ بزرگ ترین و کوچک ترین عدد دو رقمی که می توان با رقم های ۵ و ۸ نوشت را بنویس.
 بزرگ ترین عدد:
 کوچک ترین عدد:
 با دو رقم ۴ و ۷ عددی را بنویس که رقم دهگان بیش تر از یکان باشد.

۲ عددی را که شکل نشان می دهد در جدول و جاهای خالی بگذار بعد جمع آن ها را حساب کن.

The image shows two sets of base ten blocks. The first set has two tens rods and one one unit, with a place value chart below it labeled 'یکی' (ones) and 'ده تایی' (tens). The second set has two tens rods and one ten rod, with a similar place value chart. To the right is a larger place value chart with columns for 'یکی' and 'ده تایی', and a plus sign to its left.

۳ جمع و تفریق زیر را با کشیدن شکل حل کن

$$\begin{array}{r} 13 \\ + 21 \\ \hline \end{array}$$

$$\begin{array}{r} 23 \\ - 14 \\ \hline \end{array}$$

۴ جدول را کامل کن. (جمع متناظر)

۱۰	۰			۴					
		۹		۶					


۵ در یک طرف خیابانی ۳۹ درخت و در طرف دیگر آن ۴۲ درخت کاشته اند. در این خیابان چند درخت کاشته شده است؟

۶ جمع و تفریق زیر را با حذف رقم یکان به صورت تقریبی بنویسید.


$$\begin{array}{r} 34 \rightarrow \\ - 20 \rightarrow \end{array}$$

$$\begin{array}{r} 24 \rightarrow \\ + 33 \rightarrow \end{array}$$


۷ برای ساعت ها عقربه بکش ..



ساعت ۷ و ربع

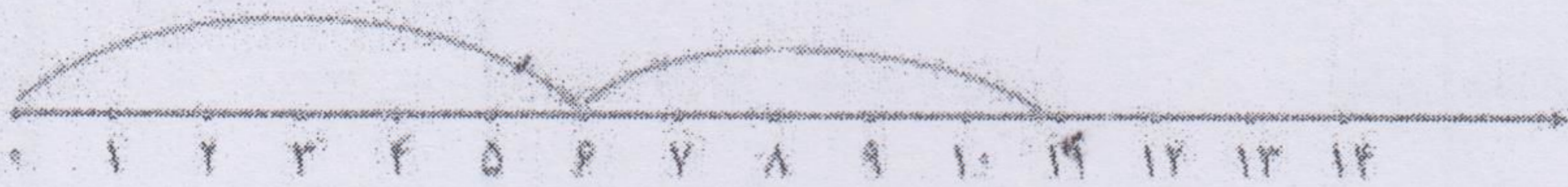


نیم ساعت بعد از ۸



یک ربع مانده به ۲

۸ جمع و تفریق مربوط به هر محور را بنویس.

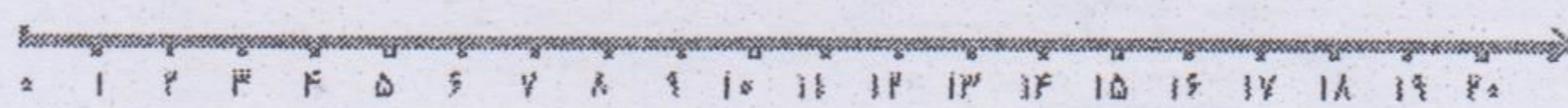


۹ حاصل جمع و تفریق زیر را از روش گسترده نویسی بدست آورید.

$$\begin{array}{r} 25 \\ + 32 \\ \hline \\ + \\ \hline \end{array}$$

$$\begin{array}{r} 97 \\ - 25 \\ \hline \\ \hline \end{array}$$

۱۰ امروز آقای جعفری عصبانی است، چون از ۳۴ دانش آموز کلاس او ۱۹ نفر به جای اینکه سوال آخر را کم کنند جمع کرده اند. چند نفر از دانش آموزان به این سوال پاسخ درست داده اند؟



خیلی خوب خوب قابل قبول نیاز تلاش