

نوبت اول

به نام ایزد یکتا

نام:

مدرسه:

آزمون مداد کاغذی

نام خانوادگی:

آموزگار:

ریاضی دوم دبستان

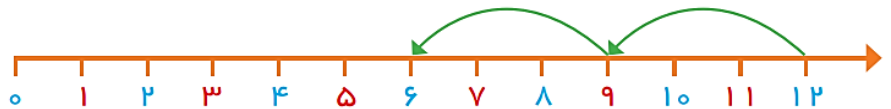
کلاس:

۲- با خط کش عددهای مثل هم را به هم وصل کنید.



۳- با کمک محور رو به عقب بشمارید و الگو را کامل کنید.

.....,, ۹, ۱۲



عددهای دو رقمی بنویسید که یکان آن ها ۲ و ۴ و دهگان آن ها ۵ و ۸ باشد.

--	--	--	--

جاهای خالی را با توجه به الگوی آن پر کنید:

۱۷ - ۱۸ - ۱۹ - - - -

- - - سی و شش - سی و هفت - سی و هشت - سی و نه

حاصل جمع و تفریق ها را به دست آورید

$$\begin{array}{r} ۴۶ \\ - ۱۶ \\ \hline \\ \hline \\ \hline \end{array}$$

$$\begin{array}{r} ۲۴ \\ + ۲۴ \\ \hline \\ \hline \\ \hline \end{array}$$




$$۶۱$$

$$\begin{array}{r} ۶۱ \\ - ۴۶ \\ \hline \\ \hline \end{array}$$

$$۳۳$$

$$\begin{array}{r} ۳۳ \\ + ۹۲ \\ \hline \\ \hline \end{array}$$




.....
۸:۱۵



یک ربع مانده به چهار

.....
.....




عددی که شکل نشان می دهند در جدول قرار بده و به حروف بنویس:

..... به حروف:

یکان	دهگان	صدگان
.....



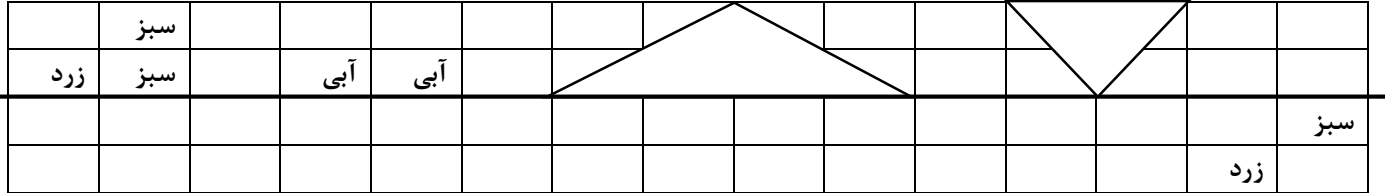


به حروف :

دهگان

یکان

با توجه به خط تقارن نیمه دیگر شکل را بکش



۲- جواب جمع و تفریق‌ها را به صورت تقریبی به دست آورید.

$$\begin{array}{r} 53 \rightarrow \text{.....} \\ + 29 \rightarrow + \text{.....} \\ \hline \end{array}$$

$$\begin{array}{r} 68 \rightarrow \text{.....} \\ - 41 \rightarrow - \text{.....} \\ \hline \end{array}$$

$$\begin{array}{r} 29 \rightarrow \text{.....} \\ + 49 \rightarrow + \text{.....} \\ \hline \end{array}$$

دویست و دوازده

۵۶۷

به عدد یا حروف بنویس:

۱۰۵

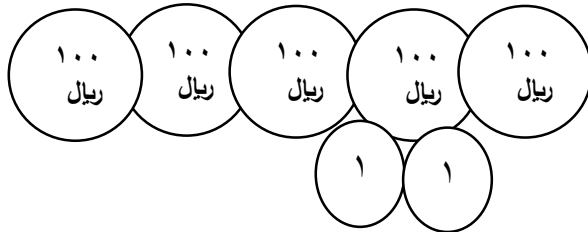
چهارصد بیست و دو

با سه کارتی که بر روی آن‌ها عددهای ۴ - ۶ - ۲ نوشته شده است تمام عددهای دو رقمی را که می‌توانی بنویس

۲ ۴ ۶

مقدار پول را به عدد مشخص کن و در جدول قرار بده

صدگان	دهگان	یکان
.....



ارزشیابی	خ	ق	ن	ارزشیابی	خ	ق	ن
شناخت اعداد				رسم تقارن			
الگویابی				تقریب زدن			
عدد و رقم				حروف نویسی			
جمع و تفریق				ساخت عدد			
ساعت				شمارش پول			

موفق باشی عزیزم