



نوبت : دی ۱۳۹۹



نام و نام خانوادگی :

مرکز آموزشی استعداد های

پایه : دهم

مدت امتحان: ۷۰ دقیقه

درخشان

سؤال امتحانی درس : جغرافیای ایران و مازندران رشته : ریاضی ، تجربی و انسانی تاریخ امتحان : ۹۹/۱۰/۱۵

بارم	هیچ عبادتی از فکر و اندیشه بهتر نیست. پیامبر اکرم (ص)											
	شرح سـؤال											
۰/۷۵	<p>درست یا نادرست بودن جملات زیر را با علامت ضربدر (x) مشخص کنید.</p> <p>الف: رابطه بین جغرافیا با سایر علوم دو سویه بوده و در یک جریان یک طرفه از داده ها و یافته های یکدیگر استفاده می نمایند. <input type="checkbox"/> درست <input type="checkbox"/> نادرست</p> <p>ب: منطقه خلیج فارس در حدود ۶۶ درصد ذخایر نفت جهان و ۲۸ درصد ذخایر گاز طبیعی را در خود جای داده است. <input type="checkbox"/> درست <input type="checkbox"/> نادرست</p> <p>پ: دسترسی به آب های آزاد برای هر کشور ، امکان ارتباط با سایر نقاط جهان را فراهم می کند. <input type="checkbox"/> درست <input type="checkbox"/> نادرست</p>	۱										
۱	<p>در مربع های جمله های سمت راست عدد مناسب را از سمت چپ انتخاب کنید و بنویسید:</p> <table border="1" data-bbox="188 891 1445 1211"> <tr> <td data-bbox="188 891 363 947">الف: سؤال کلیدی جغرافیا که انسان و روابط متقابل او را با محیط، مورد توجه قرار می دهد. <input type="checkbox"/></td> <td data-bbox="363 891 1445 947">۱- چرا</td> </tr> <tr> <td data-bbox="188 947 363 1003">ب: سؤال کلیدی جغرافیا که به بررسی سیر تکوین و تحول پدیده می پردازد. <input type="checkbox"/></td> <td data-bbox="363 947 1445 1003">۲- کجا</td> </tr> <tr> <td data-bbox="188 1003 363 1059">پ: سؤال کلیدی جغرافیا که بر ماهیت هر پدیده دلالت دارد. <input type="checkbox"/></td> <td data-bbox="363 1003 1445 1059">۳- چه کسی</td> </tr> <tr> <td data-bbox="188 1059 363 1115">ت: سؤال کلیدی جغرافیا که با مکان وقوع پدیده ها سروکار دارد. <input type="checkbox"/></td> <td data-bbox="363 1059 1445 1115">۴- چطور</td> </tr> <tr> <td data-bbox="188 1115 363 1211">۵- چه چیزی</td> <td data-bbox="363 1115 1445 1211"></td> </tr> </table>	الف: سؤال کلیدی جغرافیا که انسان و روابط متقابل او را با محیط، مورد توجه قرار می دهد. <input type="checkbox"/>	۱- چرا	ب: سؤال کلیدی جغرافیا که به بررسی سیر تکوین و تحول پدیده می پردازد. <input type="checkbox"/>	۲- کجا	پ: سؤال کلیدی جغرافیا که بر ماهیت هر پدیده دلالت دارد. <input type="checkbox"/>	۳- چه کسی	ت: سؤال کلیدی جغرافیا که با مکان وقوع پدیده ها سروکار دارد. <input type="checkbox"/>	۴- چطور	۵- چه چیزی		۲
الف: سؤال کلیدی جغرافیا که انسان و روابط متقابل او را با محیط، مورد توجه قرار می دهد. <input type="checkbox"/>	۱- چرا											
ب: سؤال کلیدی جغرافیا که به بررسی سیر تکوین و تحول پدیده می پردازد. <input type="checkbox"/>	۲- کجا											
پ: سؤال کلیدی جغرافیا که بر ماهیت هر پدیده دلالت دارد. <input type="checkbox"/>	۳- چه کسی											
ت: سؤال کلیدی جغرافیا که با مکان وقوع پدیده ها سروکار دارد. <input type="checkbox"/>	۴- چطور											
۵- چه چیزی												
۰/۵	<p>پاسخ صحیح سنوالات چهارگزینه ای زیر را با علامت ضربدر (x) مشخص کنید:</p> <p>الف: در منطقه خلیج فارس رتبه اول تولید نفت ، رتبه دوم دروسعت و رتبه سوم در جمعیت، به ترتیب مربوط به کدام کشورهاست؟</p> <p>۱- عربستان - عربستان - عراق <input type="checkbox"/></p> <p>۲- عربستان - ایران - عراق <input type="checkbox"/></p> <p>۳- عربستان - ایران - ایران <input type="checkbox"/></p> <p>۴- عربستان - ایران - عربستان <input type="checkbox"/></p> <p>ب: سازمان هواشناسی با توجه به چه اطلاعاتی نقشه های هواشناسی تهیه می کند؟</p> <p>۱- فشار و رطوبت <input type="checkbox"/></p> <p>۲- توده هوا و سرعت آن <input type="checkbox"/></p> <p>۳- فشار ، رطوبت و دما <input type="checkbox"/></p> <p>۴- توده هوا ، سرعت و جهت آن <input type="checkbox"/></p>	۳										
۰/۵	<p>در جاهای خالی کلمات مناسب بنویسید:</p> <p>الف: تنوع آب هوا در نوع تولیدات کشاورزی ، ، محیط زیست و در نهایت پیشرفت کشورمان موثر است.</p> <p>ب: از رشته کوه های مهم شمال خراسان در اطراف شهر نیشابور است.</p>	۴										
۱/۵	<p>به سوالات زیر پاسخ مناسب و کامل دهید.</p> <p>الف: در جغرافیا مکان به چه معنایی است؟ ۰/۵</p> <p>ب: برای ناحیه جنگلی خزری یک عملکرد منفی و برای ناحیه بیابانی یک عملکرد مثبت بنویسید. ۰/۵</p> <p>ادامه سوالات در صفحه ۲</p>	۵										

پ: چرا جغرافیادانان با دید ترکیبی یا کل نگر موضوعات جغرافیایی را مورد مطالعه قرار می دهند؟ ۰/۵

۶ باتوجه به مراحل (گام های) پژوهش در جغرافیا به پرسش های زیر پاسخ دهید:

۰/۲۵

الف: «پژوهشگر در ارتباط با پژوهش خود با تعدادی از ساکنان شهر بابل مصاحبه می کند» مربوط به کدام گام از پژوهش در جغرافیا است؟

ب: در کدام گام از مراحل پژوهش جغرافیایی مطالعه سابقه و پیشینه مسئله و نتایج پژوهش دیگران، مورد نیاز پژوهشگر است؟

پ: «درصد تغییرات جمعیت و درصد شاغلان در یک دهه در شهر بابل با استفاده از روش های آماری مورد تجزیه و تحلیل قرار می گیرد» مربوط به کدام گام از پژوهش در جغرافیا است؟

۷ الف: موقعیت مطلق (ریاضی) و نسبی را در جغرافیا را با هم مقایسه کنید. ۱

۲

ب: چرا تنگه هرمز یکی از گذرگاه های تجاری مهم جهان است؟ ۰/۵

پ: دو مورد از دلایل اهمیت دریای عمان برای کشور عمان را بنویسید. ۰/۵

۸ الف: منطقه کوهستانی تالش را با منطقه کوهستانی البرز در موارد زیر، مقایسه کنید. ۱

۴

موارد	الف - تالش	ب - البرز
جهت شیب		
جهت چین خوردگی		

ب: باتوجه به منطقه کوهستانی زاگرس به پرسش های زیر پاسخ دهید:

۱- این رشته کوه ها بر اثر برخورد کدام صفحه ها به وجود آمده است؟ ۰/۵

۲- کدام عامل تغییر دهنده رشته کوه های زاگرس است که هم طبیعت و هم انسان در ایجاد و گسترش آنها مؤثر است؟ ۰/۲۵

ب: در منطقه کوهستانی مرکزی کشورمان کوه های منفرد در اثر چه عاملی بوجود آمده اند؟ ۰/۲۵

ت: در ارتباط با کوه های مریخی به سوالات زیر پاسخ دهید: ۰/۵

۱: این کوه ها در اثر چه عاملی به وجود آمده اند؟

۲: در کدام منطقه کشورمان واقع شده اند؟

ث: ماهی دشت کرمانشاه و دشت نهاوند چگونه به وجود آمده است؟ ۱

ج: دو مورد از علل پیدایش جلگه ها را بنویسید. ۰/۵

۹ الف: استان های هرمزگان و آذربایجان غربی را از نظر میانگین دمای سالانه با ذکر دلیل مقایسه کنید. ۱/۵



۳/۲۵

ب: چرا در اطراف خط استوا کم فشار حاره ای تشکیل می شود؟ ۰/۵

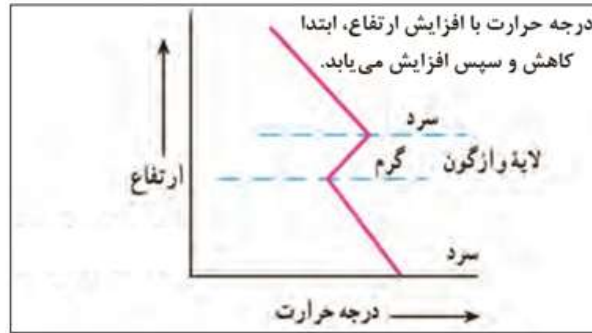
پ: عامل شکل گیری کویر چیست؟ ۰/۲۵

ادامه سوالات در صفحه ۳

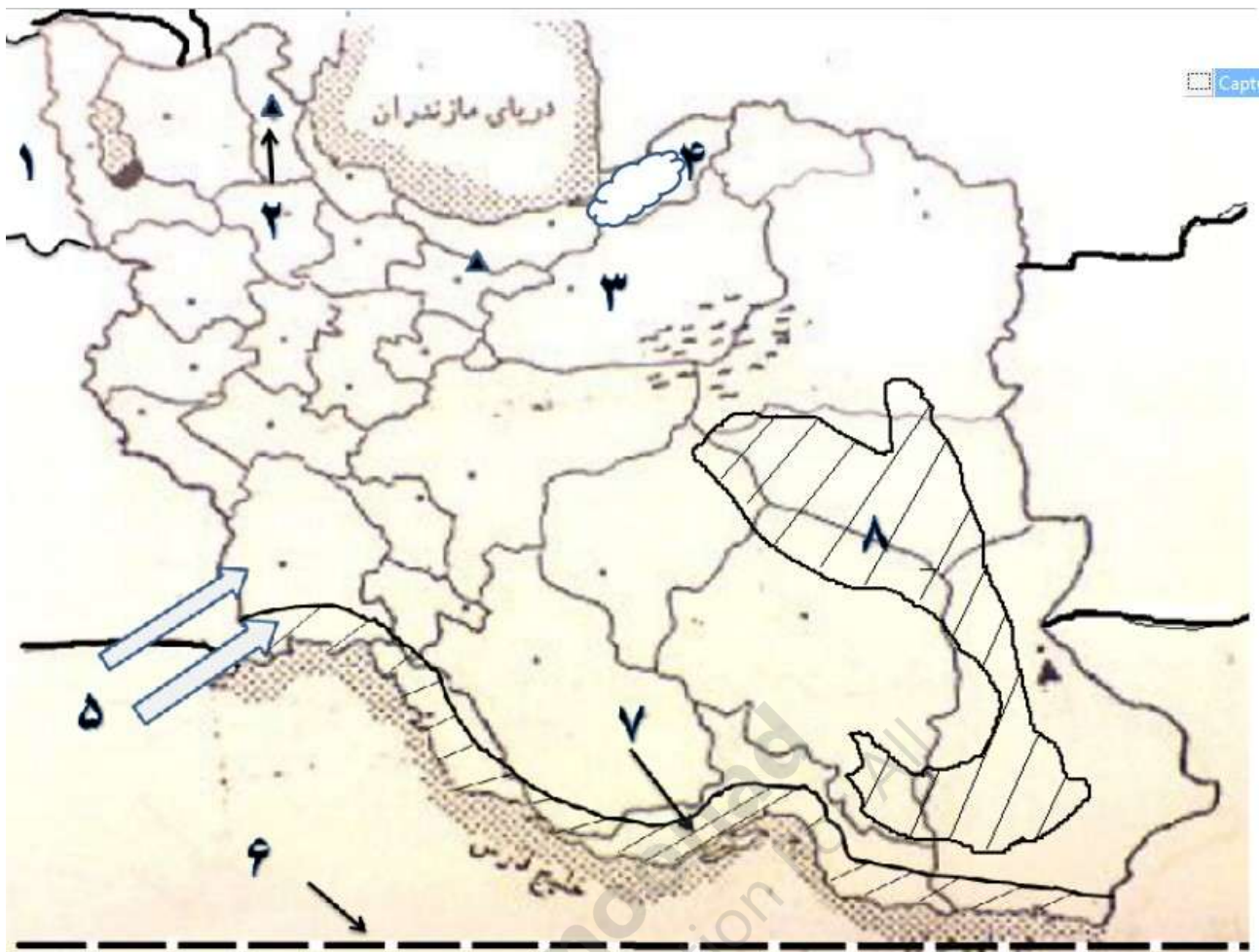
ت: باتوجه به توده هواهای موثر بر کشورمان ایران جای خالی جدول زیر را کامل کنید: ۰/۵

توده هوا	اثر آب و هوایی	زمان ورود
توده هوای غربی	
توده هوای سودانی	

ث: تصویر مقابل بیانگر چه شرایطی از هوا است توضیح دهید. ۱



۰/۷۵	باتوجه به مخروط آتشفشانی دماوند به سوالات زیر پاسخ دهید: الف: این قله آتشفشانی در چه دوره ای ساخته شده است؟ ۰/۲۵ ب: چرا نیمه خاموش محسوب می شود؟ ۰/۵	۱۰
۰/۵	به چه دلایلی در جلگه های غربی و مرکزی مازندران دمای هوا معتدل و اختلاف سالانه و شبانه روزی دما کم است و به ندرت یخبندان اتفاق می افتد؟ (ذکر دلیل)	۱۱
۰/۵	چرا در سال های اخیر از وسعت مراتع مازندران کاسته شده است؟ (ذکر دلیل)	۱۲
۰/۵	دو مورد از علل هشدار برای آلودگی هوای استان مازندران در آینده را بنویسید.	۱۳
۰/۵	نقش شهرهای زیر مازندران را تعیین کنید: الف- آمل ب- رامسر	۱۴
۰/۵	دو مورد از علل مهاجرت به استان مازندران را بنویسید.	۱۵
	به سوالات نقشه صفحه بعد پاسخ دهید: ۲ نمره	۱۶



به سوالات زیر با توجه به نقشه بالا پاسخ دهید: ۲ نمره

- ۱- نام کشور همسایه :
 ۲- نام قله :
 ۳- نام همسایه استان مازندران :
 ۴- نام جلگه :
 ۵- نام توده هوا :
 ۶- نام مداری :
 ۷- نوعی آب وهوا :
 ۸- نام بیابان :

شاد و مانا باشید.