



با توجه به ساعت کامل کن



ساعت ..... است . ساعت از ..... گذشته است . کمی به ساعت ..... مانده است .


دسته ده تایی درست کن و در جای خالی عدد مناسب بنویس



باعدد.....

با حروفید.....

یکی ده تایی



جواب جمع ها را بنویس و دور علامت مناسب خط بکش

$10 + 10 + 5 =$

< = >

$5 + 5 + 20 =$

$5 + 10 + 10 =$

< = >

$25 + 5 + 10 =$

مساله را حل کن

مریم ۲۰ شکلات خرید . ۹ تایی آن را به خواهرش و ۶ تایی آن را به برادرش داد . چند شکلات برای او باقی مانده است ؟ شکل بکشید

..... - ..... = .....


..... - ..... = .....

ادامه بدهید


۱۲، ۱۴، ۱۶، .....  
.....

۶۰، ۵۵، ۵۰، .....  
.....

۷ برای شکل زیر تفریق بنویس



۸ یک الگوی سه تایی بکش



۹ ۶۰ دانش آموز در حیاط مدرسه بازی می کردند. ۶۰ تایی دیگر هم آمدند. حالا چند دانش آموز بازی می کنند؟ با کمک محور



۱۰ در جای خالی عدد مناسب بنویس  
۱۰ بسته ی ده تایی می شود یک دسته ی ..... تایی  
۵۰ می شود ..... بسته ده تایی  
۲ بسته ده تایی و ۹ یکی می شود.....  
۴۵ می شود ..... ده تایی و ..... یکی