



« به نام خالق خوبی ها » تنظیم: آموزگاران پایه‌ی دوم

اسم من است. در کلاس دبستان درس می‌فوانم.

۱) نازنینم، با کارت‌های اعداد ۳ و ۵ و ۲ هر چه می‌توانی عدد سه رقمی بنویس.

تاریخ: ۹۴، ۱۰، ۹

.....

* حالا از بین عددهایی که نوشتی الف (بیشترین عدد و کمترین عدد را بنویس.

بیشترین عدد: با حروف: کمترین عدد: با حروف:

ب) رقم‌های یکان و دهگان بیشترین و کمترین عدد را حذف کن و یک تفریق برای آن‌ها بنویس.

بیشترین عدد با حذف رقم یکان و دهگان:

کمترین عدد با حذف رقم یکان و دهگان:

ج) عدد‌هایی را بنویس که حاصل جمع رقم‌های دهگان و صدگانش برابر با رقم یکان آن باشد.

۲) ساعت چند است؟



.....



.....

* نیم ساعت بعد از ساعت ۷:۲۰ ساعت چند می‌شود؟

* یک ساعت و ربع بعد از ساعت ۱:۴۵ ساعت چند است؟

۳) جمع و تفریق کن. $20 + 5 + 10 + 20 + 5 + 10 + 6 = \dots$ $6 + 9 = \dots$ $2 - 8 = \dots$ $7 + 5 = \dots$

$700 - 300 = \dots$ $80 - 30 = \dots$

$20 + 40 = \dots$ $600 + 200 = \dots$

۴) نسترن در کیفش چهار سکه‌ی ۱۰۰ ریالی، دو سکه‌ی ۱۰ ریالی و هشت سکه‌ی ۱ ریالی دارد. او چند ریال پول دارد؟

با رقم: با حروف:

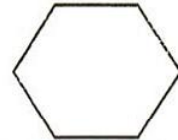

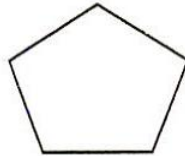
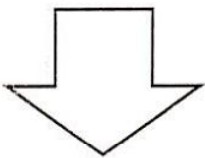
۵) الگوهای عددی را ادامه بده.

..... - - - - ۴۸ - ۴۲ - ۳۶

..... - - - ۲۴ - ۲۱ - ۱۹ - ۱۸

..... - - - ۳۷۵ - ۳۷۰ - ۳۶۵

۶) با یک برش شکل‌های زیر را به دو قسمت مساوی تقسیم کن.



۷) عدد داخل دایره به چه عددی نزدیک‌تر است؟ اعداد مربوطه را بنویس و مربع درست را رنگ بزن



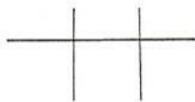
۸) رضا به پدرش در کارگاه نجاری کمک می‌کند. او در ماه گذشته ۱۸ میز ساخت و پدرش ۲۵ میز آنها چند میز ساخته اند؟

.....

۹) اگر ۲۷ تایی آنها را بفروشند چند میز برایشان باقی می‌ماند؟

.....

۹) یک عدد سه رقمی بنویس که ۵ صدتایی و ۷ ده تایی داشته باشد. (در جدول)



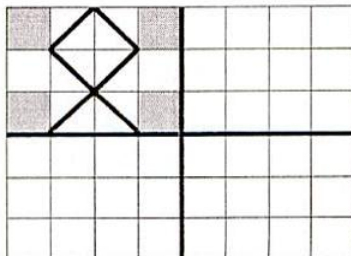
بارقم باحروف

حالا این عدد را در مربع قرار بده. ده تا ده تا بشمارو جاهای خالی را پر کن



..... - - -

۱۰) کاشی کاری را طوری کامل کن که ۴ قسمت شکل کاملاً مثل هم باشند.



نظر معلم :

