

بسمه تعالی

اداره آموزش و پرورش شهرستان فریدونکنار

رشته : انسانی

پایه: یازدهم

سوال امتحان داخلی درس: جغرافیای (۲)




ص 1

دبیرستان شاهد الغدير

تاریخ آزمون: ۹۹/۱۰/ نوبت: اول

مدت امتحان: ۸۰ دقیقه

بارم	شرح سوالات
۱	<p>با صحیح یا غلط پاسخ دهید.</p> <p>الف- میان اجزا و پدیده های هر مکان نوعی هماهنگی و پیوستگی وجود دارد. ص □ غ □</p> <p>ب- نواحی انسانی در بستر نواحی طبیعی شکل می گیرند. ص □ غ □</p> <p>ج- دریا که توده هوای کم فشار سرعت ملکولها کم و وزن هوا افزایش می یابد. ص □ غ □</p> <p>د- زبان حامی، زبان مردم عرب و یهود و زبان سامی، زبان مردم شمال آفریقا است. ص □ غ □</p>
۱	<p>گزینه درست را انتخاب کنید.</p> <p>الف- امروزه همه نواحی حتی دور افتاده ترین آنها در این زمینه تحت تاثیر سایر نواحی می باشد؟ (1) اقتصادی (2) اجتماعی (3) فرهنگی (4) طبیعی</p> <p>ب- کدام بیابان ها به علت دوری از دریاها ایجاد شده ؟ (1) گبی- تکه مغان (2) آتاکاما- گبی (3) ترکستان- نامیب (4) لوت- تار</p> <p>ج- اکسیژن و رطوبت در کدام یک از انواع هوازدگی موثر است ؟ (1) فیزیکی (2) زیستی (3) شیمیایی (4) بادی</p> <p>د- رکن اساسی و مهم زیست کره کدام مورد است ؟ (1) اتمسفر (2) جانوران (3) گیاهان (4) انسان</p>
۱/۷۵	<p>جاهای خالی را با کلمات مناسب پر کنید.</p> <p>الف- ناحیه بندی کاری صرفاً----- و بر اساس ----- یک جغرافی دان و شیوه کار او می باشد.</p> <p>ب- مرز بین توده های هوای مجاور را ----- می گویند.</p> <p>ج- دو عامل مهم فرسایش در کوهستان ها ----- و ----- هستند.</p> <p>د- هر چه ارتفاع در دامنه ها افزایش می یابد، قد گیاهان ----- و فصل رویش آنها ----- می شود.</p>
۱	<p>جملات سمت راست را به اصطلاحات چپ ارتباط دهد.</p> <p>الف- دره های V شکل (1) باد</p> <p>ب- منطقه تماس بین خشکی و دریا (2) ساحل</p> <p>ج- عامل مهم فرسایش در مناطق خشک (3) اشکال کارستی</p> <p>د- غارها و چشمه ها (4) جریان آب رودها</p> <p>(5) دشت</p>
۴	<p>پاسخ کوتاه:</p> <p>الف- ویژگیهای عمده بارش در تعیین نواحی بارشی را نام ببرید.</p> <p>ب- دو ویژگی بیابان که در همه آنها وجود دارد را نام ببرید.</p>
	ادامه سوالات در صفحه بعد

	<p>پ- دو عامل اصلی وقوع بارش در یک ناحیه را نام ببرید.</p> <p>ج- هوازدگی را تعریف کنید.</p> <p>د- مطالعه زیست بوم ها از موضوعات مهم کدام رشته از جغرافیا می باشد؟</p> <p>ه- در روشهای جدید چه معیاری برای تمایز زیست بوم ها در نظر گرفته اند؟</p> <p>م - معیار وایتکر در طبقه بندی زیست بوم ها را نام ببرید؟</p> <p>ی- بزرگترین خانواده زبانی دنیا و معروفترین زبان " چینی، تبتی " را نام ببرید.</p>	
۰/۷۵	<p>۶ نوع بارش در هریک از اشکال زیر را مشخص کنید. (همرفتی، جبهه ای، کوهستانی)</p> <div style="display: flex; justify-content: space-around; align-items: center;"> <div style="text-align: center;">  <p>(الف)</p> </div> <div style="text-align: center;">  <p>(ب)</p> </div> <div style="text-align: center;">  <p>(ج)</p> </div> </div>	
	سوالات تشریحی	
۱	<p>۷ عوامل گسترش برخی زبانها را بنویسید.</p>	
۱	<p>۸ منظور از کانون ناحیه چیست؟</p>	
۱	<p>۹ آیا مرز نواحی قابل تغییر هستند؟ با یک مثال توضیح دهید.</p>	
۱	<p>۱۰ برای تعیین انواع آب و هوای یک ناحیه چه اقداماتی انجام می دهند؟</p>	
ادامه سوالات در صفحه بعد		

۱	علت تشکیل مراکز پرفشار در اطراف مدار راس السرطان مدار راس الجدی چیست؟	۱۱
۱	معیارهای جغرافیادانان در تقسیم زمین به نواحی فرهنگی را نام ببرید. (چهار مورد)	۱۲
۱	با توجه به کلوت پاسخ دهید. الف- برجسته ترین کلوت ایران در کجا واقع شده؟ ب- کلوت ها در کدام رسوبات ایجاد می شوند؟ ج- کلوت ها حاصل چه نوع فرسایشی هستند؟	۱۴
۱	فرسایش سنگهای ساحلی تحت تاثیر امواج وانحلال سنگها را توضیح دهید.	۱۵
۱	پیروان دین یهود در کدام نواحی پراکنده شدند؟	۱۶
۱/۵	انواع پخش وانتشار فرهنگی را بامثال بنویسید.	۱۷
۲۰	تاریخ تصحیح:	نمره پایانی:
	"موفق و پیروز باشید"	

