

«به نام خداوند مهربان»

آزمون و ارزیابی نوبت دوم
شنبه ۱/۱۳۵۰/۱۴۰۰

درس: ریاضی
مدت: ۱ ساعت و ۲۰ دقیقه

کلاس: پنجم ۲
دبستان: دکتر حسایی

الف: گزینه‌ی درست را انتخاب کنید:

$$\frac{3}{5} \times \frac{5}{12}$$

۱- عبارت ساده‌شده‌ی روبه‌رو، کدام است؟

(۱) $\frac{1}{4}$ (۲) $\frac{2}{4}$ (۳) $\frac{1}{3}$ (۴) $\frac{5}{12}$

۲- برای نشان دادن درصد قبولی یک مدرسه در آزمون تیزهوشان، کدام نمودار مناسب‌تر است؟

(۱) نمودار میله‌ای (۲) نمودار خط شکسته (۳) نمودار دایره‌ای

۳- نسبت خط تقارن به اضلاع در مستطیل مثل به است.

(۱) ۴ به ۴ (۲) ۲ به ۴ (۳) ۴ به ۲ (۴) ۱ به ۴

ب: در جای خالی عدد یا کلمه‌ی مناسب بنویسید:

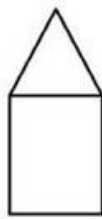
- ۴- عدد ۷۲۵۰۰۰۰ را می‌توان ۷۲۵ تایی خواند.
- ۵- در یک بازی عادلانه، احتمال برنده شدن بازیکنان است.
- ۶- مجموع زوایای داخلی چهارضلعی درجه است.

پ: پاسخ و راه‌حل کامل سؤالات را بنویسید:

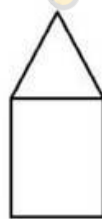
۷- عدد $\frac{4}{169}$ را به حروف بنویسید:

- این عدد بین کدام دو عدد صحیح قرار دارد؟
- به کدام عدد نزدیک‌تر است؟
- گسترده‌ی این عدد را بنویسید:

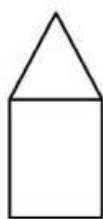
۸- شکل بیستم از چند پاره خط تشکیل شده است؟



شکل (۱)



شکل (۲)



شکل (۳)

.....

شکل (۲۰)

«به نام خداوند مهربان»

آزمون و ارزیابی نوبت دوم
شنبه ۱/۱۳۵۰/۱۴۰۰

درس: ریاضی
مدت: ۱ ساعت و ۲۰ دقیقه

کلاس: پنجم ۲
دبستان: دکتر حسایی

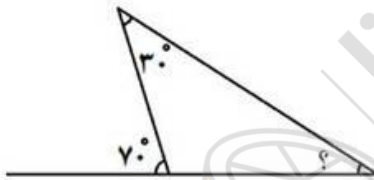
۹- ستایش در یک مرحله از یک مسابقه به ترتیب ۱۸، ۱۷ و ۱۶ نمره کسب کرده است. میانگین نمرات او را حساب کنید:

- در مرحله‌ی چهارم چه نمره‌ای کسب کند تا میانگین تغییری نکند؟

۱۰- گنجایش استخری با ابعاد ۱۰، ۸ و ۳ متر چند لیتر است؟

۱۱- علی هر صفحه از کتابی را در ۵ دقیقه مطالعه می‌کند. مطالعه‌ی ۱۵ صفحه از این کتاب چه مدت طول می‌کشد؟ چند ساعت و چند دقیقه؟

۱۲- در شکل زیر، اندازه‌ی زاویه‌ی خواسته‌شده چه قدر است؟



۱۳- عملیات زیر را انجام دهید؟

$$3\frac{2}{5} + 2\frac{1}{10} =$$

$$14\frac{3}{4} - 5\frac{1}{2} =$$

$$10\frac{2}{4} \div 3\frac{1}{2} =$$

$$17 - 3,007 =$$

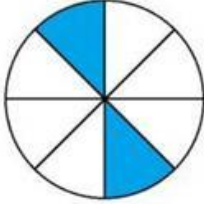
«به نام خداوند مهربان»

آزمون و ارزیابی نوبت دوم
شنبه ۱/۵/۱۴۰۰

درس: ریاضی
مدت: ۱ ساعت و ۲۰ دقیقه

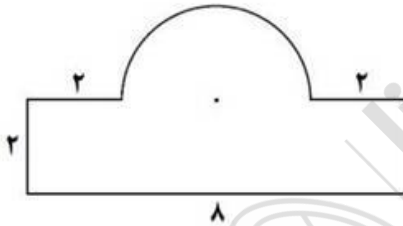
کلاس: پنجم ۲
دبستان: دکتر حسایی

۱۴- چند درصد شکل زیر، رنگی است؟



۱۵- مساحت یک لوزی ۳۰ سانتی متر مربع است. اگر یکی از قطرهایش ۵ سانتی متر باشد. اندازهی قطر دیگر لوزی چند است؟

۱۶- محیط شکل زیر را به دست آورید:



معلم شما: پیر که

«آرزوی سلامتی و موفقیت برای شما عزیزان»