
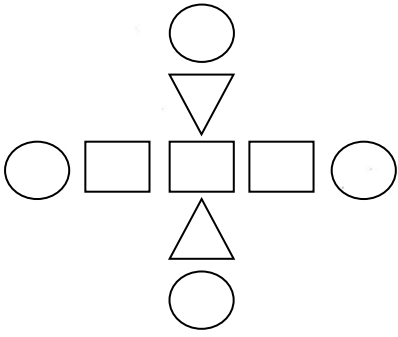



 بسمه تعالی  جمهوری اسلامی ایران وزارت آموزش و پرورش اداره کل آموزش و پرورش استان خوزستان مدیریت آموزش و پرورش شهرستان بندر ماهشهر		مشخصات دانش آموز	زمان امتحان	مشخصات امتحان
		نام:	ساعت:	درس: ریاضی
ردیف	سؤالات	نام خانوادگی:	تاریخ:	رشته:
		شماره:	مدت:	پایه:
۱	<p>باتوجه به شکل مقابل، به سوالات زیر پاسخ دهید.</p> <p>(الف) نسبت تعداد دایره ها به تعداد مستطیل ها مثل ----- به ----- است.</p> <p>(ب) نسبت تعداد مثلث به کل شکل مثل ----- به ----- است.</p> <p>(ج) نسبت تعداد مربع ها به تعداد مثلث ها مثل ----- به ----- است.</p> 			
۲	<p>$\frac{3}{7}$ از محصول گندم استان یزد به طور مساوی به ۴ استان دیگر صادر می شود. چه کسری از محصول گندم استان یزد به هریک از این استان ها صادر می شود؟</p>			
۳	<p>یک باغچه ی مستطیل شکل به طول $2\frac{2}{5}$ متر و عرض $1\frac{1}{4}$ متر داریم. مساحت این باغچه چند متر مربع است؟</p>			
۴	<p>درجای خالی عدد مناسب قرار دهید .</p> <p>$\frac{49}{35} = \frac{7}{\square}$ $\frac{\square}{15} = \frac{9}{3}$ $6 = \frac{24}{\square} = \frac{\square}{10}$</p>			
۵	<p>حاصل ضرب $1\frac{1}{3} \times 2\frac{1}{4}$ را با رسم شکل بدست آورید.</p>			
۶	<p>کسرهایی زیر را تا حد امکان ساده کنید .</p> <p>$\frac{30}{18} =$ $\frac{45}{75} =$</p>			

 <p>مؤسسه آموزشی فرهنگی غیردولتی پتروشیمی ماهشهر</p>	مشخصات امتحان	زمان امتحان	مشخصات دانش آموز	بسمه تعالی
	درس: ریاضی	ساعت:	نام:	 <p>جمهوری اسلامی ایران وزارت آموزش و پرورش اداره کل آموزش و پرورش استان خوزستان مدیریت آموزش و پرورش شهرستان ماهشهر</p>
	رشته:	تاریخ:	نام خانوادگی:	
	پایه: پنجم	مدت: دقیقه	شماره:	
ردیف	سوالات			
۷	<p>با دسته بندی های مناسب برای شکل دایره شده ، چهار نسبت مساوی بنویسید .</p>  <p>----- = ----- = ----- = -----</p>			
۸	<p>اگر ۱ ساعت بدون استراحت پیاده روی کنیم ، حدود ۴ کیلومتر را طی می کنیم. در ۵ ساعت چند کیلومتر طی خواهیم کرد ؟</p>			
۹	<p>حاصل عبارت های زیر را با ساده کردن بدست آورید.</p> <p>$20 \times \frac{2}{5} =$</p> <p>$21 \div 6 =$</p> <p>$\frac{10}{15} \times \frac{12}{14} =$</p>			
<p>موفق و سربلند باشید</p> <p>روشنایان- دوانی</p>				