

نام و نام خانوادگی: _____
ارزشیابی پایانی نیم سال دوم ۱۴۰۰-۱۳۹۹

۱- کوچکترین عددی رقمی را بنویسید که در آن ۲، ۳ و ۵ به کار رفته و زوج باشد!

۲- در یک مزرعه $\frac{7}{15}$ زمین را جو و گندم کاشته اند. اگر $\frac{4}{15}$ زمین گندم باشد، در چه کسری از زمین جو کاشته شده است؟

۳- تقسیم‌های زیر را بنویسید و برای ضرب را بطریقی تقسیم بنویسید؟

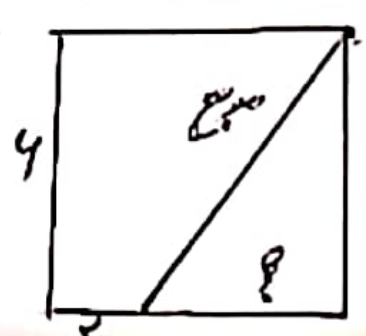
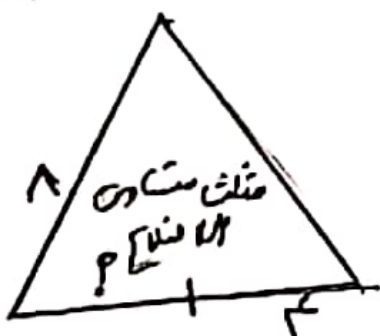
$$19 \overline{) 1739}$$

$$13 \overline{) 9173}$$

$$14 \overline{) 753}$$

۴- یک ساعت و ۵ دقیقه و ۲۰ ثانیه چند ثانیه است؟

۵- با توجه به اندازه‌های نوشته شده، طول باره‌های راکه علامت ؟ مشخص شده است، پیدا کنید.



۶- حاصل جمع و تفاضل ما را بنویسید.


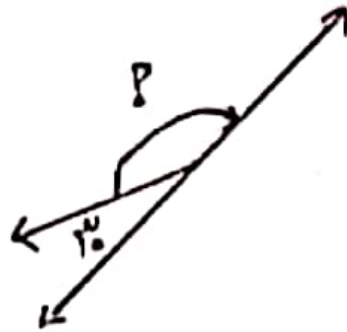
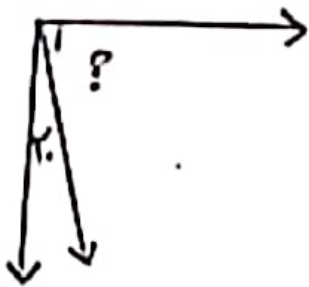
۵/۸ + ۰/۷ =

۱/۸ - ۰/۸ =

۱/۴ + ۰/۲ =

۲ + ۰/۱ =

۷- اندازه بی زاویه بی مورد نظر را با نوشتن یک عبارت پیدا کنید.



۸- در کیسه‌ی زیر تعدادی مهره قرار دارد. احتمال این را که بدون نگاه کردن یک مهره درآوریم و یکی از آنها سفید زیرین باشد، با یک عبارت بیان کنید.



• مهره قرمز باشد؟

• مهره سبز باشد؟

• مهره آبی باشد؟

هیچ دانشی را نمی‌توان واقعی دانست مگر آنکه
به صورت ریاضی نوشته شود (داوینچی)

باسیاس خانم‌نات
معاونت کارپایی جوامع