

به نام خداوند بخشنده ی مهربان

نام و نام خانوادگی:

اداره آموزش و پرورش شهرستان ملایر

تاریخ:

آزمون ریاضی پایه چهارم ابتدایی

دبستان عشقی فرد (شاهد ۲)

زمان: ۶۰ دقیقه

۱ طبقه میلیون عددی ۸۳ و طبقه یکیهای آن ۴۳۰ و بقیه رقم ها ۵ است. این عدد را با حروف و رقم بنویس و جدول رسم کن.

با رقم.....

با حروف.....

۲ در شکل زیر، خط، نیم خط، پاره خط وجود دارد.



۳ با رقم های (۷ و ۳ و ۴ و ۲ و ۰ و ۵) کوچکترین و بزرگترین عدد ۶ رقمی زوج را بنویس.

ب.....

ک.....

چهار میلیارد و هفتصد



چهار میلیون هفتصد

۶۰۷۴۳۰۱



۶۰۴۷۳۰۱

۵ در جای خالی کلمات مناسب بنویس.

* برای رسم یک خط کافی است.....

* نقطه مشترک دو ضلع زاویه را زاویه مینامیم.

* هر چه اضلاع زاویه را امتداد دهیم اندازه زاویه



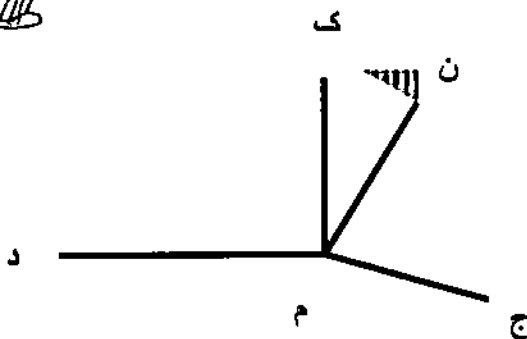
۶ _ با توجه به شکل به سوالات پاسخ بده.


الف) در این شکل چند زاویه وجود دارد؟

ب) زاویه (ک.م.د) چه نوع زاویه ای است؟

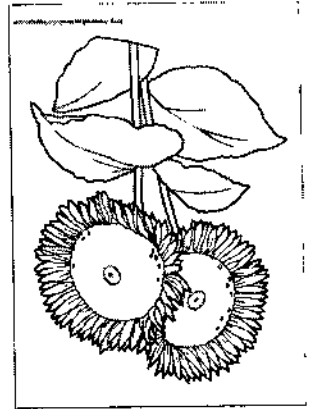
ج) یک زاویه باز نام ببر.

د) کوچکترین زاویه کدام است؟





حقیقتاً این مسئله همیشه در میان ما حل می‌گردد

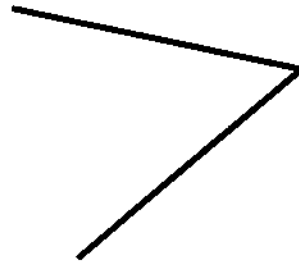


$$۷۰ \bigcirc (۱۷+۱۶) \bigcirc (۷۱ \bigcirc ۵۸) = (۱۶+۱۷) \bigcirc ۵۸$$

۱۳- در یک کلاس ۲۰ دانش‌آموز وجود دارد. از آن‌ها ۱۰ نفر در کلاس اول و ۱۰ نفر در کلاس دوم هستند. این مسئله را حل کنید.

۱۲- عدد ۲۰۰۰ را با یک عدد ۵۰۰۰ جمع کنید. حاصل را بنویسید.

۱۱- در یک کلاس ۲۰ دانش‌آموز وجود دارد. از آن‌ها ۱۰ نفر در کلاس اول و ۱۰ نفر در کلاس دوم هستند. این مسئله را حل کنید.




۱۰- در یک کلاس ۲۰ دانش‌آموز وجود دارد. از آن‌ها ۱۰ نفر در کلاس اول و ۱۰ نفر در کلاس دوم هستند. این مسئله را حل کنید.

۲) ۷

۵) ۸

۳) ۱۱

۴) ۹



۹- در یک کلاس ۲۰ دانش‌آموز وجود دارد. از آن‌ها ۱۰ نفر در کلاس اول و ۱۰ نفر در کلاس دوم هستند. این مسئله را حل کنید.

۸- در یک کلاس ۲۰ دانش‌آموز وجود دارد. از آن‌ها ۱۰ نفر در کلاس اول و ۱۰ نفر در کلاس دوم هستند. این مسئله را حل کنید.



$$= (۰.۷۸ + ۰.۰۸۸) - ۰.۰۷۸$$

۷- در یک کلاس ۲۰ دانش‌آموز وجود دارد. از آن‌ها ۱۰ نفر در کلاس اول و ۱۰ نفر در کلاس دوم هستند. این مسئله را حل کنید.

۶- در یک کلاس ۲۰ دانش‌آموز وجود دارد. از آن‌ها ۱۰ نفر در کلاس اول و ۱۰ نفر در کلاس دوم هستند. این مسئله را حل کنید.