














<p>ردیف</p>	<p>رابطه ی بین عددها را پیداکن والگو را ادامه بده.</p> <p>۵۰ - ۱۰۰ - ۱۵۰ - - - ۲۳۰ - ۲۴۱ - ۴۵۲ - - -</p>	<p>۱</p> 										
<p>۲</p> 	<p>جاهای خالی را با کلمات مناسب پر کنید. حالا اندازه ی دور هر شکل را می نامند. حالا هر دایره خط تقارن دارد.</p>	<p>۲</p>										
<p>۳</p>	<p>عدد زیر را به صورت گسترده (بازشده) بنویس. ۳۰۰۵ =</p>	<p>۳</p>										
<p>۴</p> 	<p>با توجه به عدد «شش هزار و هشتاد و سه» به سوالات زیر پاسخ کامل دهید. الف) کدام رقم در مرتبه ی صدگان قرار دارد؟ ب) ارزش مکانی رقم ۸ چیست؟ ج) عدد را با رقم بنویسید.....</p>	<p>۴</p>										
<p>۵</p> 	<p>برای کسر زیر یک شکل بکش. $\frac{3}{5}$</p>	<p>۵</p>										
<p>۶</p> 	<p>حاصل ضرب عدد زیر را با استفاده از محور به دست بیاور. $6 \times 3 = \dots\dots\dots$</p> 	<p>۶</p>										
<p>۷</p>  	<p>با کمک ضرب محیط شکل زیر را پیدا کن. (اندازه ی هر ضلع ۴ س)</p>	<p>۷</p>										
<p>۸</p>	<p>حاصل جمع عدد زیر را به صورت فرایندی (طولانی) به دست بیاور.</p> $\begin{array}{r} 4 \ 3 \ 7 \\ + 5 \ 2 \ 1 \\ \hline \end{array}$	<p>۸</p>										
<p>۹</p> 	<p>اطلاعات جدول را به صورت نمودار ستونی نمایش بده.</p> <table border="1" data-bbox="726 1590 1284 1668"> <tr> <td>جمعیت کلاس</td> <td>سوم الف</td> <td>سوم ب</td> <td>چهارم الف</td> <td>چهارم ب</td> </tr> <tr> <td>۴۰ نفر</td> <td>۳۵ نفر</td> <td>۳۰ نفر</td> <td>۲۰ نفر</td> <td></td> </tr> </table> 	جمعیت کلاس	سوم الف	سوم ب	چهارم الف	چهارم ب	۴۰ نفر	۳۵ نفر	۳۰ نفر	۲۰ نفر		<p>۹</p>
جمعیت کلاس	سوم الف	سوم ب	چهارم الف	چهارم ب								
۴۰ نفر	۳۵ نفر	۳۰ نفر	۲۰ نفر									
<p>۱۰</p> 	<p>حاصل ضرب عبارت های زیر را بنویس.</p> <p>$100 \times 3 = \dots\dots\dots$ $20 \times 40 = \dots\dots\dots$ $6 \times \dots\dots\dots = 600$ $5 \times 4 = \dots\dots\dots$ $2 \times 20 \times 20 = \dots\dots\dots$</p>	<p>۱۰</p>										

	<p>تقسیم های زیر را انجام بده.</p> <p>$48 \div \square = 8$ $72 \div 9 = \square$ $36 \div 6 = \square$</p> <p> $24 \overline{) 3}$ $48 \overline{) 5}$</p>	۱۱
	<p>مساحت زمینی که طول آن ۳۸ متر و عرض آن ۵۱ متر است، به طور تقریبی چند متر مربع است؟</p> <p></p>	۱۲
	<p>من چه عددی هستم؟ عددی دورقمی هستم که اگر با خودم جمع شوم واز حاصل جمع ۲ تا کم شود، باقی مانده ۲۰ می شود.</p> <p>$\square + \square = \square - 2 = 20$</p>	۱۳
	<p>مساحت مربعی که طول هر ضلع آن ۲۰ سانتی متر است را به دست بیاور.</p> <p></p>	۱۴
<p>۸س</p>  <p>۳س</p>	<p>مساحت قسمت نارنجی رنگ را حساب کنید</p> <p>۶س</p>	۱۵
	<p>بارقم های ۴ و ۵ و ۲ و ۶ بزرگ ترین و کوچک ترین عدد چهار رقمی را بنویس.</p> <p>ب:  ک: </p> <p>اختلاف این دو عدد را پیدا کن.</p>	۱۶
	<p>نازنین می خواهد دور تا دور یک رومیزی به طول ۳۵۰ سانتی متر و به عرض ۱۸۰ سانتی متر تور بدوزد. او به چند متر تور نیاز دارد؟</p>	۱۷
	<p>زندگی ریاضی است! بدی هارا کم کنیم - خوبی هارا جمع کنیم + شادی هارا ضرب کنیم × و غصه هارا تقسیم کنیم ÷</p>	**