

	وقت آزمون: ۶۰ دقیقه	بسمه تعالی اداره کل آموزش و پرورش خراسان شمالی اداره سنجش آموزش و پرورش مدیریت آموزش و پرورش شهرستان مانه و سملقان ارزشیابی پیشرفت تحصیلی نوبت دوم - اردیبهشت ۱۴۰۰	دبستان دخترانه غیردولتی مهروماه
	ساعت برگزاری:		نام و نام خانوادگی:
	تاریخ امتحان:		سوالات درس: ریاضی
تعداد صفحات: ۴ صفحه	تعداد سوال: ۱۷		پایه: سوم یاس

ما بر آنیم تا فرزندان شما فرزندان دانش و ادب شوند.

بارم	شرح سوال	ردیف																		
	<p>الگوی زیر را ادامه دهید.</p> <p>۲۴۰ - ۲۵۰ - ۲۴۵ - ۲۵۵ - - - - ۰ - ۱ - ۴ - ۹ - - - -</p>	۱																		
	<p>جدول های داده شده را کامل کنید.</p> <table border="1" style="display: inline-table; margin-right: 20px;"> <tr> <td>زمان</td> <td>۱۷:۲۳</td> <td>۲۳</td> <td></td> <td>۲۰</td> </tr> <tr> <td>بعد از ظهر</td> <td></td> <td></td> <td>۲:۱۵</td> <td></td> </tr> </table> <table border="1" style="display: inline-table;"> <tr> <td>ریال</td> <td>۵۰۰۰</td> <td></td> <td>۳۰۷۰</td> </tr> <tr> <td>تومان</td> <td></td> <td>۶۰۵</td> <td></td> </tr> </table>	زمان	۱۷:۲۳	۲۳		۲۰	بعد از ظهر			۲:۱۵		ریال	۵۰۰۰		۳۰۷۰	تومان		۶۰۵		۲
زمان	۱۷:۲۳	۲۳		۲۰																
بعد از ظهر			۲:۱۵																	
ریال	۵۰۰۰		۳۰۷۰																	
تومان		۶۰۵																		
	<p>جاهای خالی داده شده را پر کنید.</p> <p>۲۷۷۰ گرم یعنی کیلو و گرم . ۳۲۵ سانتی متر یعنی متر و سانتی متر . عدد ۶۰۲۸ یعنی یکی و ده تایی و صدتایی و هزرتایی .</p>	۳																		
	<p>عددهای داخل مستطیل به کدام عدد نزدیک تر است؟</p> <table style="width: 100%; text-align: center;"> <tr> <td style="border: 1px solid black; border-radius: 50%; padding: 5px;">۲۰۰۰</td> <td style="border: 1px solid black; padding: 5px;">۲۳۵۸</td> <td style="border: 1px solid black; border-radius: 50%; padding: 5px;">۳۰۰۰</td> <td style="border: 1px solid black; border-radius: 50%; padding: 5px;">۸۰۰۰</td> <td style="border: 1px solid black; padding: 5px;">۸۹۵۰</td> <td style="border: 1px solid black; border-radius: 50%; padding: 5px;">۹۰۰۰</td> </tr> </table>	۲۰۰۰	۲۳۵۸	۳۰۰۰	۸۰۰۰	۸۹۵۰	۹۰۰۰	۴												
۲۰۰۰	۲۳۵۸	۳۰۰۰	۸۰۰۰	۸۹۵۰	۹۰۰۰															
	<p>حاصل ضرب ها را با روش خواسته شده بدست آورید.</p> <p>الف) با جمع کردن</p> <p>$۷ * ۶ =$</p> <p>.....</p>	۵																		


ب) به کمک محور

$3 \times 4 =$

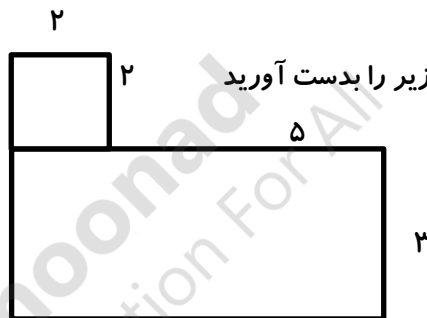
ج) به کمک رسم شکل

$6 \times 3 =$

۶ برای شکل داده شده دو ضرب و دو تقسیم بنویسید.



۷ محیط و مساحت شکل های زیر را بدست آورید



محیط :

مساحت :

۸ حاصل عبارت های زیر را بدست آورید.

$(2 \times 3) + (8 \times 5) = \dots * \dots = \dots$

$8 * 10 * 40 = \dots$

$3 * 30 * 50 = \dots$

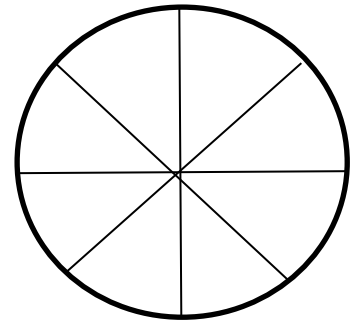
جمع و تفریق های زیر را به صورت فرآیندی انجام بده.

$$\begin{array}{r} 3254 \\ + 4235 \\ \hline \end{array}$$

$$\begin{array}{r} 7438 \\ - 3562 \\ \hline \end{array}$$

۹ در جدول زیر نوع درخت های یک پارک داده شده است . با توجه به اطلاعات داده شده ، نمودار دایره ای را کامل کنید.

چنار	بلوط	توت	کاج	نوع درخت
۵۰	۵۰	۱۰۰	۲۰۰	تعداد



۱۰ حاصل تقسیم های داده شده را به دست آورید. باقی مانده و خارج قسمت را نیز نشان دهید.

$$42 \overline{) \quad}$$

$$57 \overline{) \quad}$$

$$63 \overline{) \quad}$$

۴۲۳

* ۶

۱۱ ضرب روبه رو را به روش فرآیندی پاسخ دهید.

۱۲ در یک پادگان، سربازان در ۷ صف ۱۰ نفره ایستاده اند و ۶ نفر در جلوی صف، پرچم در دست دارند. در پادگان چند سرباز هستند؟

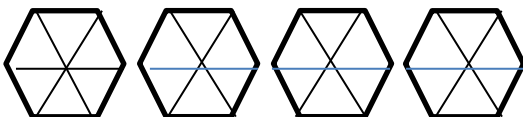
۱۳ پاسخ ضرب های زیر را با استفاده از شکل به دست آورید.

$$2 * 234 =$$

$$2 * 52 =$$

$$4 * 320 =$$

۱۴ شکل ها را با رنگ کردن کامل کنید.




۳ واحد و ۲ واحد
۶

۱۵

تعداد کتاب های سارا در جدول زیر آمده است. با توجه به داده های جدول، نمودار ستونی مربوطه را تکمیل کنید.


سرگرمی	مذهبی	علمی	داستان	نوع
۱۰	۳۰	۲۰	۲۰	تعداد



۱۶


۱۷

کسرهای زیر را روی محور نشان دهید.



$$\frac{2}{3}$$

واحد بعد از عدد ۳



$$\frac{3}{4}$$

واحد مانده به عدد ۲

ارزشیابی:

..... نظر معلم: