


به نام خدا

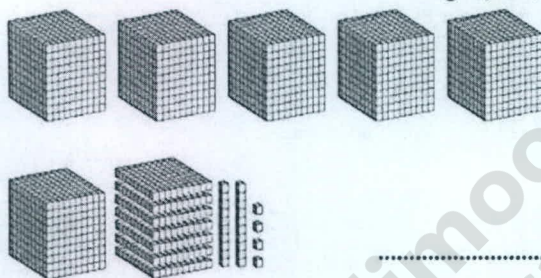
آزمون مداد کاغذی ریاضی فصل دو دبستان شاهد شهید بهشتی طراح: زهرا رحمان نژاد

نام و نام خانوادگی: کلاس سوم ابتدایی سال تحصیلی ۹۳-۹۲

۱. جمع های عدد ۱۰ را بنویسید.



۲. با توجه به شکل در جای خالی عدد و کلمه مناسب بنویس.



یکان	دهگان	صدگان	هزارگان
.....	.....	.....	.....

به عدد .....

به حروف .....

۳. الگو های زیر را ادامه دهید.

۲۶۰۰-۲۸۰۰-۳۰۰۰-.....-.....-.....-.....

.....-.....-۶۰۰۰-۶۵۰۰-۷۰۰۰

۲۵۰۰-۳۵۰۰-۴۵۰۰-.....-.....-.....-.....

۴. اعداد داخل جدول را به عدد و حروف بنویس.

۵۰۰۱		۹۵۰۰
	دو هزار و سی و چهار	

۵. عدد های زیر را به صورت گسترده (باز شده) بنویس.  $۴۵۰۷ = \dots\dots\dots$

$۹۶۸۳ = \dots\dots\dots$

۶. زهرا یک خط کش به قیمت ۲۲۰ تومان و یک پاکن به قیمت ۴۲۵ تومان خرید. او یک اسکناس


۱۰۰۰ تومانی به فروشنده داد. فروشنده چند ریال به زهرا پس داد؟

۷. حاصل جمع و تفریق های زیر را بدست آورید.

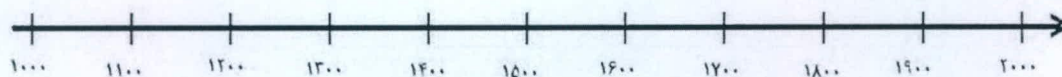
$$1000 + 1000 + 100 + 100 + 100 + 10 + 1 + 1 = \dots\dots\dots$$

$$3000 + 2000 + 100 + 300 + 50 = \dots\dots\dots$$

$$9000 - 2000 = \dots\dots\dots$$



۸. عدد های ۱۰۷۰، ۱۷۵۰، ۱۴۳۰، ۱۲۹۰ را به طور تقریبی بر روی محور نشان بده.



۹. در جای خالی علامت  $<=>$  بگذار.

$$6000 - 3000 \quad \bigcirc \quad 2000 + 1000 + 800 + 7$$

$$5000 + 2000 + 400 + 9 \quad \bigcirc \quad 5400$$


۱۰. امید ورزشکار است. او هر روز فاصله ی خانه تا محل کار خور را پیاده می رود. فاصله خانه تا محل کارش ۲ کیلو متر است. او در یک رفت و برگشت چند متر راه می رود؟

۱۱. در جای خالی عدد مناسب بنویسید.

۳۴۰۰ سانتی متر برابر است با .....متر و .....سانتی متر.

۴۰۰۰ متر یعنی .....کیلو متر .

۳کیلو گرم و ۷۰۰گرم برابر است با .....گرم.



ارزیابی معلم: