













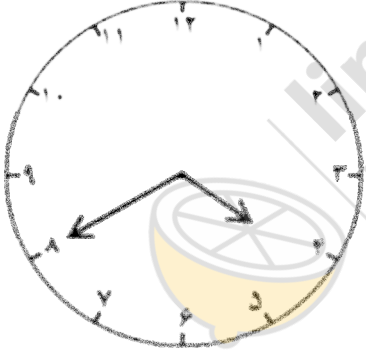
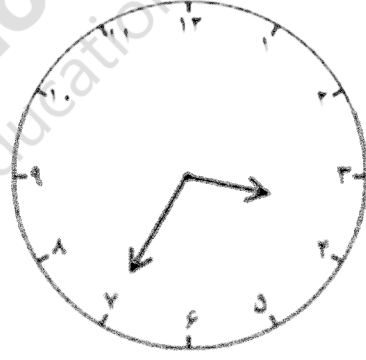


به نام خداوند بخشنده و مهربان

نام و نام خانوادگی آزمون ریاضی اردیبهشت ماه کلاس دوم دبستان پسرانه سرای دانش

۱	<p>در جاهای خالی عدد یا عبارت مناسب بنویسید.</p> <p>۷۳ یعنی ده تایی و یکی</p> <p>۲ و ۸ می شود ۸۲</p> <p>..... یعنی ۴ ده تایی و ۰ یکی</p> <p>۶ ده تایی و ۱ یکی می شود.....</p>								
۲	<p>با رقم های ۳ و ۶ و ۹ چند عدد سه رقمی می توان نوشت؟ آن ها را بساز و بنویس.</p>								
۳	<p>جمع و تفریق داده شده را به کمک محور حل کنید.</p> <p>$۸+۹-۵ = \dots\dots\dots$</p> 								
۴	<p>الگوهای شمارش را کامل کنید.</p> <p>۴ - ۸ - - - -</p> <p>۲۱ - ۲۸ - - -</p>								
۵	<p>جواب جمع و تفریق های زیر را به صورت تقریبی به دست آورید.</p> <table style="width: 100%; border: none;"> <tr> <td style="text-align: center; width: 50%;"> $\begin{array}{r} ۸۲ \\ - ۳۷ \\ \hline \end{array}$ </td> <td style="text-align: center; width: 50%;"> $\begin{array}{r} ۲۵ \\ + ۴۶ \\ \hline \end{array}$ </td> </tr> <tr> <td style="text-align: center;"> \longrightarrow \longrightarrow - </td> <td style="text-align: center;"> \longrightarrow \longrightarrow + </td> </tr> </table>	$\begin{array}{r} ۸۲ \\ - ۳۷ \\ \hline \end{array}$	$\begin{array}{r} ۲۵ \\ + ۴۶ \\ \hline \end{array}$	\longrightarrow \longrightarrow -	\longrightarrow \longrightarrow +				
$\begin{array}{r} ۸۲ \\ - ۳۷ \\ \hline \end{array}$	$\begin{array}{r} ۲۵ \\ + ۴۶ \\ \hline \end{array}$								
\longrightarrow \longrightarrow -	\longrightarrow \longrightarrow +								
۶	<p>ابتدای تقارن شکل های زیر را رسم کنید سپس تعداد ضلع و گوشه ی هر شکل را بنویسید.</p> <table style="width: 100%; border: none; text-align: center;"> <tr> <td></td> <td></td> <td></td> <td></td> </tr> <tr> <td>ضلع: گوشه:</td> <td>ضلع: گوشه:</td> <td>ضلع: گوشه:</td> <td>ضلع: گوشه:</td> </tr> </table>					ضلع: گوشه:	ضلع: گوشه:	ضلع: گوشه:	ضلع: گوشه:
									
ضلع: گوشه:	ضلع: گوشه:	ضلع: گوشه:	ضلع: گوشه:						
۷	<p>اعداد زیر را به صورت باز شده (گسترده) بنویسید.</p> <p>$۸۲۹ = \dots\dots\dots$</p> <p>$۳۷۴ = \dots\dots\dots$</p>								

	<p>ارزش سکه های زیر را به دست بیاورید.</p>	<p>۸</p>
$\begin{array}{r} 54 \\ +26 \\ \hline \end{array}$	<p>جمع و تفریق های زیر را به روش فرایندی (گسترده نویسی) حل کنید.</p> $\begin{array}{r} 82 \\ -39 \\ \hline \end{array}$	<p>۹</p>
	<p>ساعت چند است ؟</p> 	<p>۱۰</p>
<p>باز خورد معلّم:</p> <p> <input type="radio"/> خیلی خوب <input type="radio"/> خوب <input type="radio"/> قابل قبول <input type="radio"/> نیاز به تلاش بیشتر </p> <p>بچه های عزیز به یاری خدا موفق و پیروز باشید</p>		