



هو الطیف

اداره آموزش و پرورش خراسان رضوی

نام و نام خانوادگی:

نام درس: ریاضی

آموزش و پرورش ناحیه ۶

پایه تحصیلی:

تاریخ آزمون:

دبستان غیر دولتی دخترانه ی ترنج دانش

نام معلم: خانم بخشی

مدت آزمون:

سال تحصیلی

۱- ۵ ده تایی ۳ یکی ۴ صدتایی می شود



۱۶ یکی ۱۳ ده تایی ۴ صدتایی می شود

۲- الگویابی کن .

۳۴۰ - ۳۴۵ - ۳۵۰ -	-	-	-	-	-
۲۴۰ - ۲۴۵ - ۲۵۰ -	-	-	-	-	-
۳ - ۹ -	-	-	-	-	-

Handwritten annotations: Under ۳ and ۹, there is a bracket with '+۲' below it. Under ۳۴۰ and ۳۴۵, there is a bracket with '+۵' below it. Under ۲۴۰ and ۲۴۵, there is a bracket with '+۵' below it.

۳- این پول ها را با هم جمع کن و بنویس.



۴- زهرا ۶۸۵ تومان پول داشته است. ۲۵۲ تومان آن را خرج کرده است. چقدر از پولش باقی مانده است؟ (از راه ضربندگی)

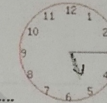
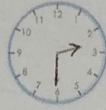
۵- مقایسه کن. < = >

۵۰ + ۱۰۰ + ۱۰۰ ○ ۲۰۰ + ۵۰

۷۰۰ - ۵۰۰ ○ ۴۰۰ - ۱۰۰

۶- سارا دیروز ۱۲۴ صفحه از کتابش را خواند و امروز نیز ۱۸۶ صفحه ی دیگر خواند. او روی هم چند صفحه خوانده است؟ (از راه ساده)



۷- هر ساعت را ۱۰ دقیقه جلو ببر و بنویس.



۸-

۳ سانتی متر و ۴ میلی متر






۵ سانتی متر و ۱ میلی متر



سانتی متر _____ قسمت از ۱۰ قسمت کوچک

سانتی متر _____ قسمت از ۱۰ قسمت کوچک

۹-



تا _____ تایی می شود

تا _____ تایی می شود

۱۰- اعداد داخل جدول را تقریبی حساب کرده و بنویس.

کلاس پنجم	کلاس چهارم	کلاس سوم	کلاس دوم	کلاس اول	تعداد شاگردان هر کلاس تقریب
۶۳ نفر	۵۹ نفر	۲۷ نفر	۴۲ نفر	۳۴ نفر	

۱۱- در نمودار زیر برای هر ۱۰ نفر بکش.

