

بنام ایزد یکتا

آزمون علوم نوبت دوم «پایه دوم»

مدرسه غیر انتفاعی شیخ مفید

نام نام خانوادگی

اردیبهشت ۱۴۰۰

الف) جاهای خالی را با کلمات مناسب پر کنید.

۱- چیزهای اطراف ما نام دارد.

۲- اگر روغن جامد را گرما بدهیم به تبدیل می شود.

۳- برای خرد کردن دانه های گندم آن را می کنند.

۴- غذای کرم ابریشم است.

ب) درست و نادرست بودن جمله ها را مشخص کنید.

۵- کار میوه نگهداری برگ است. درست نادرست

۶- چرخ ریسک یک پرنده است و لانه اش را می بافد درست نادرست

۷- موادی که شکل ثابت ندارند و شبیه ظرف خود می شوند جامد می گویند. درست نادرست

ج) گزینه صحیح را علامت بزنید.

۸- کدام دسته از مواد غذایی را در کمد آشپزخانه نگهداری می کنند؟

الف) روغن - شکر ب) میوه - سبزی ج) غذا - شکلات د) ژله - کره

۹- کدام یک از مواد زیر شکل معینی ندارند؟

الف) آلبیمو ب) کنجد ج) بستنی د) لوبیا




۱۰- با کدام یک از وسایل زیر به عنوان یک ماده ی دور ریز نمی توان چیزهای جدیدی ساخت؟

الف) بطری پلاستیکی ب) چوب بستنی ج) سطل خالی ماست د) بنزین

۱۱- هنگام خرید مواد خوراکی به چه چیزی باید توجه نمود؟

الف) قیمت ب) رنگ ج) جنس د) تاریخ مصرف

۱۲- کدام جانور در زیر خاک لانه می سازد؟

الف)  ب)  ج)  د) الف و ج

۱۳- یک دانه شامل «.....قسمت است» که «.....» هستند.

الف) یک - اندوخته غذایی ب) دو - دانه و پوسته

ج) سه - پوسته، اندوخته غذایی و گیاهک د) دو - گیاهک و پوسته

۱۴- دسته بندی کنید.

لوییا - سیب - برنج - جو - ذرت - پرتقال - عدس - بادام - آلبالو - نخود
نارنگی - هلو - گردو - گندم - گلابی - فندق

	میوه های خوراکی
	دانه های خوراکی

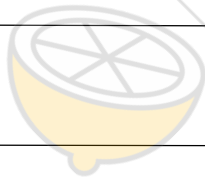
۱۵- زباله های زیر را در جدول های مربوط به خودش قرار دهید.
روزنامه باطله - لیوان یکبار مصرف - پوست میوه و آجیل - جعبه های دستمال کاغذی - بطری آب معدنی
- پوست تخم مرغ - طالبی فاسد شده

زباله خشک	زباله تر	زباله کاغذی

۱۶- مراحل تهیه نان را به ترتیب بنویسید.

۱۷- از دانه ی گیاهان چه استفاده هایی می شود؟ (۲ مورد نان ببرید)

۱۸- در کشور ما اصلی ترین ماده ی غذایی کدام است؟



سربلند و پیروز باشید - اجتماعی