



شمارهٔ صندلی:

تعداد سوال:

تاریخ:

نام و نام خانوادگی:

کلاس: ۱۱/

نام دبیر: جناب آقای

پایه: یازدهم

# آزمون پایان ترم دوم

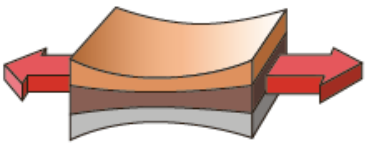
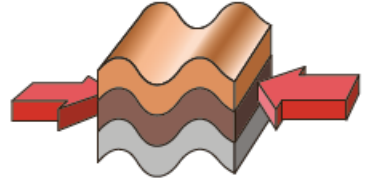
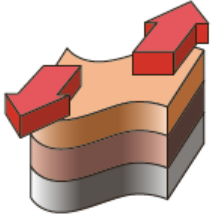
«سال تحصیلی ۹۸ - ۱۳۹۷»

درس: زمین‌شناسی

زمان آزمون نگاری: ۷۵ دقیقه

صفحه ۱ از ۲

۱- نوع تنش و اثر آن را در هر یک از شکل‌های زیر بنویسید؟ (۱/۵ نمره)

تغییر شکل	اثر بر روی سنگ	نوع تنش	---
			الف
			ب
			ج

۲- در مورد دو سازهٔ زیرزمینی «تونل» و «مغاز» توضیح دهید؟ (۱/۵ نمره)

۳- امروزه با چه روش‌هایی دامنه‌ها را برای انجام فعالیت‌های عمرانی پایدار می‌کنند؟ (۲ نمره)

۴- بخش‌های مختلف زیرسازی و روسازی را در ساخت سازه‌های جاده‌ای بنویسید؟ (۱ نمره)




۵- چرا در قرن نوزدهم، نیمهٔ شمالی آمریکا را «کمر بند گواتر» می‌نامیدند؟ دلیل زمین‌شناختی آن را توضیح دهید؟ (۲ نمره)

۶- ورود عنصر آرسنیک به بدن باعث ایجاد چه بیماری‌هایی می‌شود؟ (۲ نمره)

۷- اثرات توفان‌های گرد و غبار و ریزگردها را بنویسید؟ (۱ نمره)

۸- کمبود یا مصرف زیاد فلوئور باعث ایجاد چه بیماری‌هایی می‌شود؟ (۱ نمره)

۹- در هر یک از شکل‌های زیر، نوع گسل و نوع تنش وارد شده را بنویسید؟ (۱/۵ نمره)

شکل شماتیک	نوع تنش	نوع گسل	---
			الف
			ب
			ج

۱۰- ویژگی‌های هر یک از دو موج P و S را بنویسید؟ (۱/۵ نمره)

۱۱- در مورد هر یک از اصطلاحات «تفرا»، «لاوا» و «توف» مختصر توضیح دهید؟ (۱/۵ نمره)

۱۲- چرا بسیاری از زمین‌شناسان ایران را «بهشت زمین‌شناسی» می‌نامند؟ (۱/۵ نمره)

۱۳- در نقشه‌های زمین‌شناسی کدام پدیده‌ها نمایش داده می‌شود؟ (۲ نمره)



limoonad  
Education For All