

بسمه تعالی



دبیرستان پسرانه نمونه دولتی درخشنده صراف یزد

نام و نام خانوادگی:

نام درس : جغرافیا ۲

زمان امتحان : ۷۰ دقیقه

رشته : انسانی

نام دبیر : آقای رضائیان

تاریخ امتحان : ۱۳۹۸/۰۳/۰۷




پایه : یازدهم

تعداد صفحه : ۲

تعداد سوال : ۲۴

نوبت پایانی (خرداد)

نمره دانش آموز : نمره تجدید نظر :

۱/۷۵	۱	کدام عوامل زیر از معیارهای طبیعی و کدام از معیارهای انسانی نواحی است .
	۲	فعالیت های اقتصادی () پوشش گیاهی () نوع خاک () جای خالی را با کلمات مناسب بنویسید .
۱/۲۵		فلات ها سرزمین های و نسبتا همواری هستند که در کوهستانها محصور بوده و کناره های آنها با شیب تند به نواحی متصل می شود.
		در هوازدگی ترکیب شیمیایی سنگ ها تغییر نمی کند . بهترین شکل برای یک کشور شکل است . دین مسیحیت در قاره ظهور کرد . صحیح و غلط بودن موارد زیر را مشخص نمایید .
۱/۵	۳	الف) مرز نواحی ثابت است . () ب) مرز های سرطری و اداری معمولا بر مرزهای نواحی طبعی و انسانی منطبق هستند . ()
	۴	در شکل های زیر انواع بارش را مشخص نمایید .
۱/۷۵		  
۱/۵	۵	عامل ایجاد هر یک از بیابان های زیر را بنویسید . بیابان آتاکاما () بیابان گبی ()
۱/۵	۶	مورن یا یخرفت را تعریف نمایید ؟
۱/۵	۷	کدام اشکال زیر فرسایش کاوشی و کدام اشکال زیر فرسایش تراکمی است . کلوت () آب سنگ () غارها () برخان ()
۱/۵	۸	در نواحی بیابانی و نواحی ساحلی کدام نوع انرژی تولید می شود .
۱	۹	هر یک از موارد زیر جزئی کدام نوع فعالیت های اقتصادی است . استخراج معدن () خدمات پردازش اطلاعات () تولید کفش () امور قضایی ()
۲	۱۰	هر یک از اصطلاحات زیر را تعریف نمایید . الف- انقلاب سبز ب- اقتصاد جهانی ج- موازنه تجاری مثبت د- سیاست

۱۱	مهمترین قطبهای صنعتی جهان را نام ببرید . (سه مورد)	۷۵/
۱۲	دو ویژگی مهم صنایع نو را بنویسید .	۱۵/
۱۳	ویژگی های کشور های پیرامون را بنویسید . (۲مورد)	۱۵/
۱۴	هر یک از موارد زیر جزئی کدام نواحی سیاسی جهان هستند .	۷۵/
۱۵	اتحادیه اروپا () مناطق آزاد تجاری () نواحی خود مختار ()	۷۵/
۱۶	خط الراس را تعریف نمایید .	۱/
۱۷	نوع مرز کشور های زیر را از نظر پیدایش و شکل گیری را بنویسید .	۷۵/
۱۸	کانادا و الاسکا () کشور های آفریقایی () هند و پاکستان () عواملی که در انتخاب یک مکان به عنوان پایتخت موثرند را نام ببرید ؟ (۴مورد)	۱/
۱۹	برای هر یک از نظام های سیاسی زیریک مثال ذکر نمایید .	۱۵/
۲۰	ناحیه ای و ترکیبی () تک ساخت () در نظام سیاسی فدرال ایالت ها در چه مواردی از حکومت مرکزی تبعیت می کنند ؟	۷۵/
۲۱	به نظر مکیندر هاتلند یا قلب جشکی جهان کجاست و چرا این منطقه را هارتلند نامیدند ؟	۱/
۲۲	شکل هر یک از کشور های زیر را بنویسید .	۱/
۲۳	لهستان () نروژ () اندونزی () تایلند () عوامل جغرافیایی موثر بر قدرت ملی را نام ببرید . (۴مورد)	۱/
۲۴	منطقه ژئوپلیتیک را تعریف نمایید .	۱/