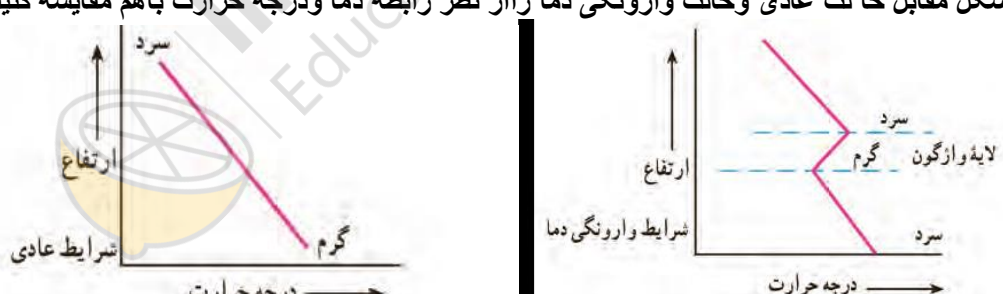
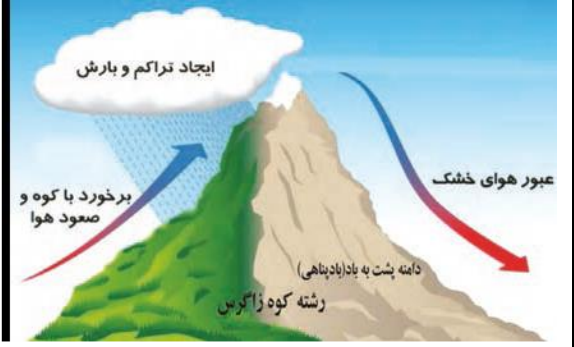
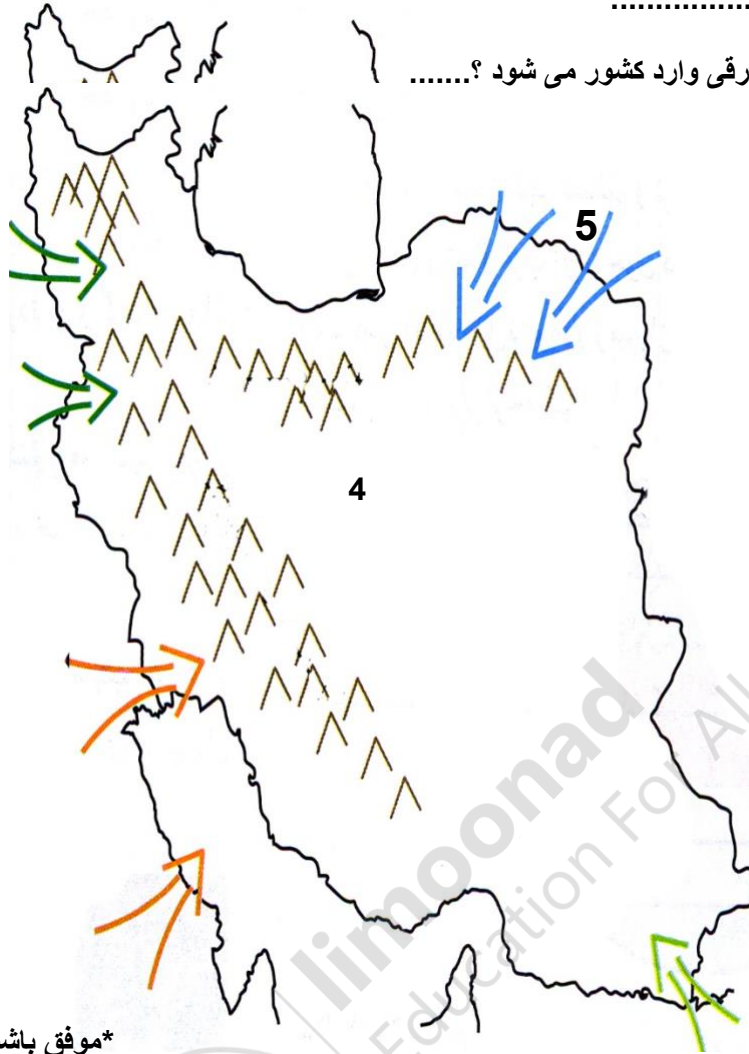


	نمره تصحیح اول : ( با عدد با حروف نام و نام خانوادگی و امضاء مصحح :	بسمه تعالی مدیریت آموزش و پرورش نجف آباد دبیرستان حضرت زهرا امتحانات دی ماه 1400-99 نام درس : جغرافیای 1 و استان	نام و نام خانوادگی : ..... رشته تحصیلی : ..... پایه: دهم تاریخ امتحان : 99/ 10/ 13 مدت پاسخگویی : 60 دقیقه ساعت شروع: 5:16 ساعت پایان: 17:
	بارم	<p>1 گزینه ی صحیح را انتخاب کنید</p> <p>1- رابطه میان شاخه های فرعی دانش جغرافیا و علوم مرتبط بان هادر کدام گزینه نادرست بیان شده است ؟          1- کارتوگرافی - امار          2- سنجش از دور- علوم فضایی          2- ایران بین کدام عرض جغرافیایی واقع شده است؟          1- 29 و 40 درجه      2- 25 و 40 درجه      3- 44 و 63 درجه      4- 35 و 60 درجه</p> <p>3- انحلال مواد اهنکی و فرسایش بادی به ترتیب عامل پیدایش کدام دشت هاست؟          1- دشت نهاوند-ارژن      2- دشت ارژن -لوت      3- دشت لوت - کاکان      4- ماهی دشت - کاکان</p> <p>4- کوهستان تالش در چه جهتی کشیده شده اند؟          1- شرقی- غربی      2- شمالی- جنوبی      3- شمال غربی- جنوب شرقی      4- شمال شرقی- جنوب غربی</p> <p>5- ایران با کشور..... بیشترین مرز را دارد.          1- عراق      2- افغانستان      3- ترکیه      4- پاکستان</p> <p>6- محل قرار گرفتن هر پدیده در سطح کره زمین موقعیت..... ان پدیده است.          1- ریاضی      2- نسبی      3- جغرافیایی      4- مطلق</p> <p>7- دماوند جزء کدام نواحی کوهستانی ایران است؟          1- زاگرس      2- البرز      3- آذربایجان      4- خراسان شمالی</p> <p>8- توده های هوای سودانی در فصل..... رطوبت..... رابه داخل ایران انتقال می دهد؟          1 زمستان- دریای سرخ      2- تابستان- اقیانوس هند          3- زمستان- دریای مدیترانه      4- تابستان- اقیانوس اطلس</p> <p>9- کدام گزینه از جمله پیامدهای بحران ریزگردها به شمار نمی رود          1- خشکسالی تالاب ها      2- کاهش میدان دید          3- آسیب به جنگل های زاگرس (جنگل بلوط)      4- کاهش میزان تولید محصولات کشاورزی</p>	
	3	<p>2 سوالات زیر را تکمیل کنید .</p> <p>1- جغرافیدانان بادید..... یا..... موضوعات رامطالعه وبررسی می کند.          2- در تمامی پژوهش های علمی برای گردآوری اطلاعات روش..... مورد استفاده قرار می گیرد          3- سوال..... به روند زمانی موضوعات می پردازد.          4- یکی از زیباترین و فعال ترین پدیده های رشته کوه زاگرس..... است.          5- شکل ناهمواری های ایران در دوره ی..... مشخص گردید.</p>	

		<p>6- به سرزمین های هموار هستند که از یک طرف به کوه و از طرف دیگر به دریا و دریاچه ها منتهی ..... می شوند</p> <p>7- جمع اوری داده ها گام سوم در یک پژوهش است و با روش ..... و ..... صورت می گیرد</p> <p>8 - از تعامل میان ..... و ..... و محیط جغرافیایی به وجود می آید .</p> <p>9- و از جغرافیا اولین بار توسط ..... مطرح شد .</p>
3	1/75	<p>صحیح یا غلط بودن جملات زیر را مشخص کنید</p> <p>1- در کشور ماباه طور میانگین میزان دما از جنوب به شمال کاهش می یابد.</p> <p>2- با افزایش هر 1000 متر ارتفاع 6 درجه دما کاهش می یابد.</p> <p>3- خلیج فارس در مرکز و قلب ناحیه جغرافیایی و سیاسی جهان اسلام قرار دارد.</p> <p>4- دشت کویر در اثر پرفشار جنب حاره ای شکل گرفته است.</p> <p>5- نسبت قرار گیری محل نشستن شما به میز معلم موقعیت مطلق شما می باشد.</p> <p>6= یکی از نتایج فرونشست هوا در پرفشار جنب حاره ای آب و هوای گرم و خشک است</p> <p>7- در عرض های جغرافیایی بالا زاویه تابش خورشید در هنگام ظهر نزدیک به عمود است</p>
4	1	<p>هریک از عبارات ها و مثال های زیر جز کدام یک از گام های پژوهش در جغرافیا است؟</p> <p>1- پژوهشگر اطلاعات را طبقه بندی و تحلیل نموده و مباحث غیر ضروری را حذف می کند</p> <p>2- پژوهشگر به یکی از روستاهای اطراف رفته و به مصاحبه با اهالی روستا می پردازد.</p> <p>3- پژوهشگر از خود می پرسد انجام این پژوهش چه اهمیتی دارد.</p> <p>4- پاسخ پیشنهادی و حدس اندیشمندانه محقق به سوالات تحقیق .</p>
5	1	<p>در شکل مقابل حالت عادی و حالت وارونگی دما را از نظر رابطه دما و درجه حرارت با هم مقایسه کنید.</p> 
6	1	<p>صطلاحات زیر را تعریف کنید</p> <p>1- جغرافیای پزشکی:</p> <p>2- توده آب و هوا:</p>
9	1	<p>در ارتباط بارش کوه زاگرس به سوالات زیر پاسخ دهید</p> <p>1- بر اثر برخورد کدام صفحات شکل گرفته است؟</p> <p>2- موقعیت جغرافیایی آن کجاست؟</p>
10	1	<p>الف: منطقه مکران در کجا واقع شده است؟</p> <p>ب: ناهمواریهای مریخی چه ویژگی هایی دارد؟</p> <p>ج: گل فشان ها به چه علت بالا می آیند ؟</p>

	0/5		<p>با توجه به شکل مقابل نقش کوهستان ها در تنوع آب و هوا چیست؟</p> 									
			سوالات جغرافیای استان	-								
	1	<p>گلپایگان اردهال غربی قم یزد</p>	<p>به کلمات زیر توجه کنید و موارد مناسب را به هم وصل کنید (یک مورد اضافی است)</p> <p>1- یکی از همسایه های شمالی استان 2- دشتی حاصلخیز در استان: 3- عامل اصلی بارش در استان کدام توده هوایی: 4- از کوه های مرکزی استان:</p>	12								
	0/5		<p>1- معادن زیر در کجا واقع شده است 1- سرب و روی ..... 2- منگنز .....</p>	13								
	0/75	<table border="1"> <tr> <td data-bbox="240 1010 384 1055">نام ارتفاعات</td> <td data-bbox="384 1010 922 1055">نام شهرستان</td> </tr> <tr> <td data-bbox="240 1055 384 1099">دالان کوه و دامنه</td> <td data-bbox="384 1055 922 1099">.....</td> </tr> <tr> <td data-bbox="240 1099 384 1144">.....</td> <td data-bbox="384 1099 922 1144">فریدونشهر</td> </tr> <tr> <td data-bbox="240 1144 384 1279">پنجی</td> <td data-bbox="384 1144 922 1279">.....</td> </tr> </table>	نام ارتفاعات	نام شهرستان	دالان کوه و دامنه	.....	.....	فریدونشهر	پنجی	.....	جدول زیر را تکمیل کنید (0/75)	14
نام ارتفاعات	نام شهرستان											
دالان کوه و دامنه	.....											
.....	فریدونشهر											
پنجی	.....											
	0/5		مهمترین منبع آب سطحی در استان است	15								
	0/5		عوامل ..... و ..... بیشترین تاثیر را بر تنوع آب و هوا در استان دارد.	16								
	0/5		شهرستان ..... بیشترین و شهرستان ..... کمترین مساحت بیابان را در استان به خود اختصاص داده است.	17								
			سوالات مربوط به نقشه ایران	18								

- 1- رشته کوه های زاگرس را بر روی نقشه مشخص کنید .
- 2- محدوده آب و هوای خزری را بر روی نقشه مشخص کنید
- 3- یک جلگه شمالی بر روی نقشه مشخص کنید
- 4- از خشک ترین بیابان های ایران.....
- 5- نام کشور همسایه.....
- 6- کدام توده آب و هوایی از جنوب شرقی وارد کشور می شود؟.....



\*موفق باشید\*

