

نام و نام خانوادگی:

مقطع و رشته: ریاضی پنجم

تعداد صفحه سؤال: ۲ صفحه

جمهوری اسلامی ایران

اداره ی کل آموزش و پرورش شهر تهران

اداره ی آموزش و پرورش شهر تهران منطقه ۴ تهران

دبستان غیردولتی دخترانه سرای دانش واحد الغدير

ارزشیابی پایان ترم نوبت دوم سال تحصیلی ۱۴۰۰-۱۳۹۹



نام درس: ریاضی

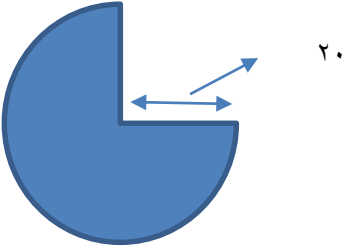
نام دبیر: نسیم جوادی

تاریخ امتحان: ۱۴۰۰/۰۳/۰۱

ساعت امتحان: 11:50

مدت امتحان: ۶۰ دقیقه

نمره به عدد:		نمره به حروف:	
نمره به عدد:		نمره به حروف:	
نام دبیر: نسیم جوادی امضاء:		نام دبیر: امضاء:	
تاریخ و		تاریخ و امضاء:	
ردیف	سؤالات	ردیف	سؤالات
۱	جاهای خالی را تکمیل کنید. بزرگترین عدد شش رقمی غیر تکراری فرد است. کوچک ترین عدد هفت رقمی غیر تکراری فرد است. میانگین ۴ عدد ۱۱، ۲۰، ۱۴، ۱۵ است.	۱	جاهای خالی را تکمیل کنید. بزرگترین عدد شش رقمی غیر تکراری فرد است. کوچک ترین عدد هفت رقمی غیر تکراری فرد است. میانگین ۴ عدد ۱۱، ۲۰، ۱۴، ۱۵ است.
۲	گزینه ی درست را انتخاب کنید. حجم مکعبی به ضلع ۳ سانتی متر است. ۹(الف) ۲۷(ب) ۰/۸ لیتر چند سی سی است؟ ۸۰۰(الف) ۸۰۰۰(ب)	۲	گزینه ی درست را انتخاب کنید. حجم مکعبی به ضلع ۳ سانتی متر است. ۹(الف) ۲۷(ب) ۰/۸ لیتر چند سی سی است؟ ۸۰۰(الف) ۸۰۰۰(ب)
۳	میانگین ۵ عدد زیر را به دست آورید. ۴۵، ۳۴، ۲۱، ۴۲، ۴۳	۳	میانگین ۵ عدد زیر را به دست آورید. ۴۵، ۳۴، ۲۱، ۴۲، ۴۳
۴	مساحت قسمت رنگی را به دست آورید. 	۴	مساحت قسمت رنگی را به دست آورید. 
۵	در یک لوزی اندازه ی زاویه ی تند ۴۰ درجه است. اندازه ی ۳ زاویه ی دیگر را به دست آورید.	۵	در یک لوزی اندازه ی زاویه ی تند ۴۰ درجه است. اندازه ی ۳ زاویه ی دیگر را به دست آورید.
۶	حجم مکعب مستطیلی ۶۰۰ سانتی متر مربع است. اگر طول و عرض ۱۲ و ۵ باشد، ارتفاع را به دست آورید.	۶	حجم مکعب مستطیلی ۶۰۰ سانتی متر مربع است. اگر طول و عرض ۱۲ و ۵ باشد، ارتفاع را به دست آورید.

<p>م محیط شکل زیر را به دست آورید. عدد پی = ۳</p> 	۷
	<p>مستطیل چند محور تقارن دارد؟ مربع چند محور تقارن دارد؟ آیا لوزی مرکز تقارن دارد؟ آیا متوازی الاضلاع مرکز تقارن دارد؟</p>
<p>حاصل را به دست آورید.</p> $4\frac{6}{10} - 1\frac{2}{6} =$ $\frac{2}{5} + 2\frac{5}{9} =$	۹
	<p>۲۰ درصد عددی ۸۰۰ می باشد. کل عدد چند است؟</p>
	<p>نسبت دو عدد سه به پنج است. اگر مجموع آن ها ۲۴ باشد هر کدام را به دست آورید.</p>

جمع بارم : ۲۰ نمره