

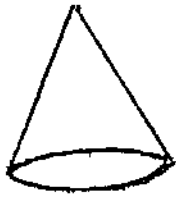
۱۱	خواهیم ۶ بسته ۱۲ تایی مدار را بین ۹ نفر تقسیم کنیم هر نفر چند مدار می رسد؟
۱۲	باقر مانده ۵۵ تقسیم هر عدد بر ۸ چه اعدادی می تواند باشد؟
۱۳	امروز یکشنبه و در همین روز ماه است اما آفر ماه یکشنبه ها چه روزهای از ماه هستند؟
۱۴	در یک باغ ۱۰۰ درخت المور و ۵۰ درخت گلاب و ۵۰ درخت لیلان و ۱۰۰ درخت انار وجود دارد (مقدار دایره ای رسم کنید)
۱۵	عدد دوم تقسیم ۸ و خارج قسمت آن ۷ و باقر مانده ۵ آن ۴ می باشد عدد اول تقسیم چند است؟
۱۶	طول مستطیل ۴ سانتی متر است عرض آن $\frac{1}{3}$ طولش است محیط مساحت این مستطیل را بدست آورید.
۱۷	جرم یک هندوانه از ۴ کیلوگرم نیم کیلوگرم کمتر است جرم این هندوانه چند کیلوگرم و چند گرم است؟
۱۸	۳ قسمت از خط راست که یک طرف آن بسته و یک طرف آن باز باشد $\frac{1}{3}$ را رنگ کن مربع $\frac{1}{4}$ ضلع $\frac{1}{2}$ زاویه 90° تعداد در 4 در مستطیل ضلع های روبرو با هم 2 هستند
۱۹	تساوی $2 \times 4 = 4 \times 2$ را روی محور نشان دهید

بسمه تعالی
نام و نام خانوادگی

آزمون ریاضی پایه سوم اردیبهشت ماه ۹۸

۱	بزرگ ترین عدد چهار رقمی (بدون تکرار رقم) را بنویسید. به عدد _____ به حروف
۲	قیمت ۸ دلار ۷۲ تومان است قیمت ۲۵ دلار چند تومان است؟
۳	در یک سبد ۵ پرتقال ۳ نارنگی و ۴ لیمو شیرین است چه کدومی از میوه ها پرتقال هستند؟
۴	ایمان ۴ سال دارد سن مادرش از ۷ برابر سن او ۲ سال بیس تر است مادر ایمان چند سال سن دارد؟
۵	فاصله س خانم سی علی نامدرس ۲ کیلومتر و ۵ متر است فاصله س خانم سی علی نامدرس چند متر است؟
۶	مجموعه یک متغیله با مجموعه مربع برابر است اگر مجموع متغیله ۳۲ ساعت تر باشد ساعت مربع چند ساعت تر مربع است؟
۷	سه جعبه داریم که در هر کدام ۵ بسته ۶ تایی مداد رنگی قرار دارد در این جعبه ها چند مداد رنگی وجود دارد؟
۸	از ۳۵ تخم مرغ حسن آن ها شکست چند تخم مرغ سالم مانده است؟
۹	طول متغیله ۱۷۶ متر در عرض آن ۶۳ متر است مساحت این متغیله به طریقی چند متر مربع است؟

۱۰- نام هر شکل را بنویسید.



۱۱- کتاب امیر ۴۰ صفحه داشت. او $\frac{1}{5}$ کتاب را خوانده. چند صفحه خوانده است؟ چند صفحه باقی مانده است؟

$\frac{2}{5} \square \frac{4}{5}$

$\frac{1}{3} \square \frac{1}{6}$

$\frac{1}{4} \square \frac{1}{2}$

۱۲- علامت ($>$ = $<$) بگذارید.

$4 \times 8 \square 3 \times 10$

۱۳- در جای خالی کلمه‌ی مناسب بنویسید.

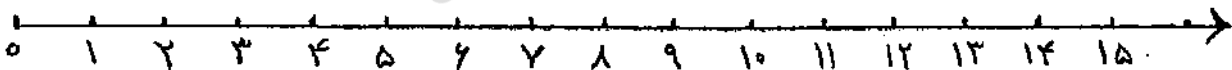
اندازه‌ی دور هر شکل آن شکل نام دارد.

قسمتی از خط راست که از دو طرف محدود شده باشد نام دارد.

پنج ضلعی قطر و مربع قطر دارد.

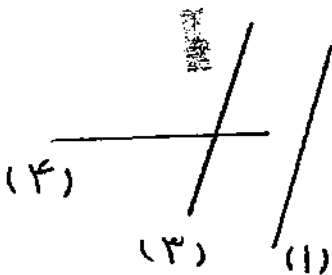
$3 \times 5 = 5 \times 3$

۱۴- تساوی ضرب را روی محور نشان دهید.



۱۵- اتوبوسی ساعت ۹ صبح از کرمان حرکت کرد و در ساعت ۵ بعد از ظهر به شیراز رسید. این اتوبوس چند ساعت این فاصله را طی کرده است؟

۱۶- در این شکل دو خط موازی و دو خط متقاطع را نام ببرید.



موازی

متقاطع

۱۷- چهارتا از مضرب‌های عدد ۸ را بنویسید.

۱۸- ضرب و تقسیم کنید.

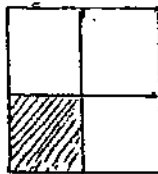
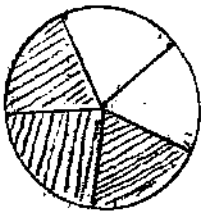
نام و نام خانوادگی:

بنام خدا
امتحان ریاضی پایه ی سوم

ارزیه شست ۹۸

۱- عدد ۴۰۵۲ را به حروف بنویسید.

ارزش مکانی کدام رقم بیشتر است؟..... چرا؟



۲- چه کسری از شکل ها رنگ شده است؟

۳- محیط مربعی ۲۴ سانتی متر است. مساحت این مربع چند سانتیمتر مربع است؟

۴- ثلث پول علی ۲۰۰ تومان است. علی چند ریال دارد؟



۵- ربع دایره ها را رنگ بزن.

۶- مساحت مستطیلی ۷۲ سانتی مترمربع است. اگر طول این مستطیل ۹ سانتی متر باشد محیط این مستطیل چند سانتی متر است؟

۷- ۴ متر و ۸۳ سانتی متر و ۵ میلی متر می شود میلی متر.

۴۰۱۲ متر می شود کیلومتر و متر.

نیم ساعت چند دقیقه است؟ دقیقه.

۸- جرم یک هندوانه از ۳ کیلوگرم ۷۰۰ گرم کمتر است. جرم این هندوانه چند کیلوگرم و چند گرم است؟

۷	قیمت ۸ متر ۵۶ تومان است. قیمت ۹ متر چند تومان است؟
۸	در یک اتاق، طول ۶ متر و عرض ۵ متر و فرش ۳×۴ اندازه ایم چند متر مربع از آن باقی مانده است؟
۹	خارج قیمت تغییر ۹ و عدد درم تغییر ۷ و باقی مانده آن ۵۰ باشد. عدد اول تغییر چند است؟
۱۰	محیط مربع با محیط مستطیل برابر است. اگر محیط مستطیل ۲۴ سانتی متر باشد. مساحت مربع چند سانتی متر مربع است؟
۱۱	مقایسه کنید. $\frac{2}{3} \bigcirc \frac{3}{3}$ $\frac{4}{7} \bigcirc \frac{6}{7}$ $2 \times 7 \bigcirc 2 \times 7$ $24 \div 3 \bigcirc 16 \div 2$ $10 \times 4 \div 5 \bigcirc 3 \times 3 + 2$ $1789 \bigcirc 2$ کیلومتر $\frac{1}{5} \bigcirc$ خمس
۱۲	باغچه ای است به شکل مربع که طول هر ضلع آن ۵۰ متر باشد. مساحت این باغچه چند متر مربع است؟
۱۳	امروز شنبه و در همین روز ماه است تا آخر ماه شنبه. چقدر روزهای از ماه هستند؟
۱۴	باغی است به شکل مستطیل به طول ۱۶۵ متر و عرض ۱۳۵ متر. خداصم دور این باغ را ۲ ردیف سیم خاردار بستیم. چند متر سیم خاردار نیاز داریم؟

نام و نام خانوادگی

آزمون ریاضی پایه سوم دبستان علی بن ابیطالب

« نام دایره‌خدا موجب آرامش است پس عزیزان با نام خدا شروع کنید » ۱ راز ۹۴

۱- عدد ۹۸۱۷ را به حروف بنویسید.
عدد ۸ در چه مرتبه‌ای قرار دارد.

۲- اگر ربع پول علی ۵۰۰ ریال باشد علی چند ریال پول دارد؟

۳- یک قطار ۱۰ واگن دارد. اگر هر واگن ۳ کوبه داشته باشد و در هر کوبه ۴ مسافر باشد این قطار چند مسافر دارد؟

۴- کلمات زیری زمین را به دو قسمت مساوی تقسیم کرد. در یک قسمت آن یونجه و قسمت دیگر را به ۳ قسمت مساوی تقسیم کرد در یک قسمت آن کلم و در دو قسمت آن هیچ کلمه است چه کلمه‌ای از زمین را کلمه داشته است؟

۵- رضا ۵ سال دارد سن مادرش از ۶ برابر سن او ۴ سال بیشتر است سن مادر رضا چند سال است؟

۶- جاهای خالی را به طریقی مناسب پر کنید.
با اندازه‌های دور هر شکل — آن شکل را بنویسید
هر مربع از — مربع درست شده است.

• پنج ضلعی — قطر، مربع — مثلث، قطر و لغزشی — قطر در
درخت حرکت کند در راه برود —
۲ کیلوگرم و ۶۷ گرم می‌شود — گرم