


به نام خدا

آزمون مداد کاغذی ریاضی ارزشیابی مستمر دوره ای مهر تا دی دبستان شاهد شهید بهشتی

نام و نام خانوادگی: کلاس سوم ابتدایی سال تحصیلی ۹۳-۹۲ طراح: زهرا رحمان نژاد



یکان	دهگان	صدگان	هزارگان

۱. با توجه به شکل در جای خالی عدد یا کلمه مناسب بنویس.

به عدد:

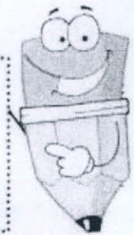
به حروف:

۲. علی می خواهد کتابی را که ۱۲۰ صفحه دارد بخواند. اگر او روزی ۲۰ صفحه از راکتایش بخواند، مطالعه ی کتاب علی چند روز طول می کشد؟

۳. الگوی عددی زیر را ادامه بده.

.....-.....-.....-۷۳۰۰-۸۳۰۰-۹۳۰۰-.....-.....-.....-۱۲۰۰-۱۲۵۰-۱۳۰۰-.....-.....-.....

.....-.....-.....-۲۰۰-۲۵۰-۳۰۰-.....-.....-.....-۱-۳-۶-۱۰-.....-.....-.....



۴. جدول زیر را کامل کن.

زمان	۷:۲۳		۲:۱۵
بعد از ظهر		۲۳:۲۵	



ریال	۶۰۰		۳۰۷۰
تومان		۴۵۰	

۵. عدد های داخل مستطیل به کدام عدد نزدیکتر است؟ علامت بزن.

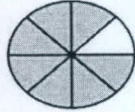
۲۰۰۰
۲۳۴۰
۳۰۰۰
۲
 $\frac{1}{4}$ واحد بعد از عدد ۲
۳
۸۰۰۰
۸۹۵۰
۹۰۰۰

۶. در جای خالی، عدد مناسب بنویس.

ب) ۳۵۰۰ متر = کیلومتر و متر
 د) ۲ کیلوگرم و ۳۶۰ گرم = گرم

الف) ۴۷۸ سانتی متر = متر و سانتی متر
 ج) ۷۰۰۰ گرم = کیلوگرم

۷. برای شکل‌ها کسر مناسب بنویس و برای کسرهای شکل مناسب بکشید.



$$\frac{3}{5}$$

$$\frac{5}{8}$$

۳.۸. جاهای خالی را با عدد مناسب و شکل‌ها را با رنگ کردن کامل کنید.

<p>..... واحد و واحد</p>	<p>..... واحد و واحد</p>
<p>۲ واحد و $\frac{4}{6}$ واحد</p>	<p>$\frac{2}{3}$ واحد بعد از عدد ۳</p>

۹. امیر $\frac{3}{4}$ و رضا $\frac{2}{4}$ پولشان را صدقه دادند. با کشیدن شکل، دو کسر را مقایسه کنید.

$$\frac{3}{4} > \frac{2}{4}$$

۱۰. جاهای خالی را کامل کنید.

شکل	جمع	ضرب	توضیح عبارت ضرب
		$2 \times 6 =$...دسته‌ی ... تایی می‌شود...
	$7+7+7+7=$...دسته‌ی ... تایی می‌شود...

۱۱. زینب ۹ سال و پدرش ۴۵ ساله است. سن پدر زینب چند برابر سن زینب است؟

۱۲. برای شکل زیر دو ضرب و دو تقسیم بنویس.



$$\dots \times \dots = \dots$$

$$\dots \div \dots = \dots$$

$$\dots \times \dots = \dots$$

$$\dots \div \dots = \dots$$