



ما بر آنیم تا فرزندان شما فرزندان دانش و ادب شوند.

بارم

شرح سوال

ردیف

۱- در شکل های زیر دسته ی ده تایی جدا و سپس جدول را کامل کنید.

۲- رو به عقب بشمارید و الگو را کامل کنید.

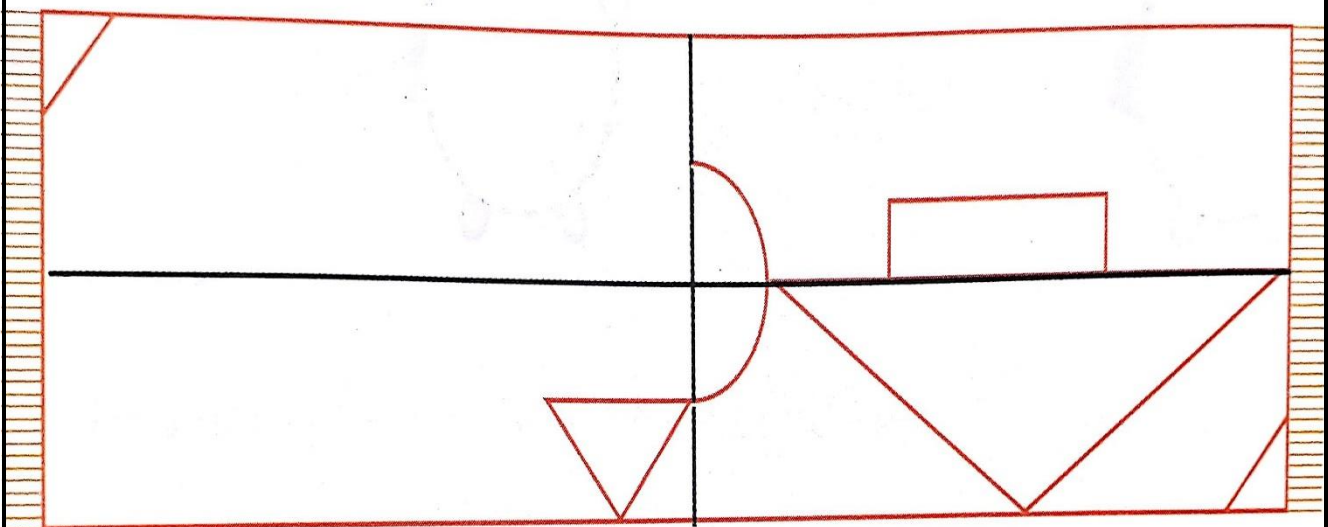
..... - ۳۵ - ۴۰

..... - ۲۳ - ۲۷

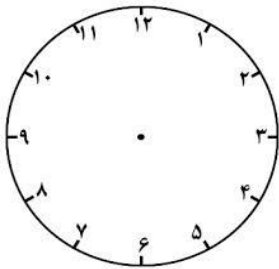
۳- حمید در یک ظرف ۱۰ میوه دارد که ۵ تا از آن ها موز و بقیه خیار هستند. حمید چند خیار دارد؟ (با

شکل)

۴- با استفاده از خط تقارن فرش را کامل و به دلخواه رنگ آمیزی کنید.



۵- فرید ساعت ۵:۳۰ دقیقه به کتاب خانه رسید و ۴ ساعت در آنجا مطالعه کرد روی ساعت نشان بده که وقتی از کتاب خانه برمی گشت ساعت چند است؟



۶- جاهای خالی را کامل کنید.

*کوچک ترین عدد یک رقمی و بزرگ ترین عدد یک رقمی است

*یک عدد دورقمی از یک عدد یک رقمی است

*تعداد نیمکت های کلاس از تعداد صندلی های خانه است.

*۴ دسته ی ۱۰۰ تایی می شود

*اگر علی ۱۰ سکه ی ۱۰ ریالی به بانک بدهد بانک باید به او چه سکه ای بدهد؟

*عدد ۳۳ به ۳۰ نزدیک تر است یا به؟

*عدد ۱۸ به نزدیک تر است یا به؟

*اندازه ی طول یک سنجاقک ۹۴ میلی متر است یعنی سانتی متر و میلی متر

۷- حاصل جمع و تفریق ها را به دست آور. (روش فرآیندی)



$$\begin{array}{r} 35 \\ + 41 \\ \hline \end{array}$$

$$\begin{array}{r} 68 \\ - 54 \\ \hline \end{array}$$

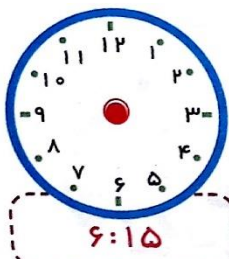
$$\begin{array}{r} 95 \\ - 78 \\ \hline \end{array}$$

$$\begin{array}{r} 59 \\ + 47 \\ \hline \end{array}$$

۸- شکل های زیر را با یک خط به دو قسمت مساوی تقسیم کنید.



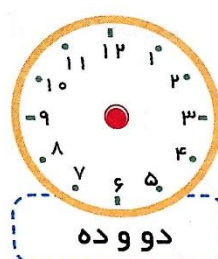
۹- ساعت های زیر را با رسم عقربه های کوچک و بزرگ کامل کنید.



۶:۱۵



یک ربع مانده به ۷



دو و ده



۲۰ دقیقه از ۵ گذشته

۱۰- در یک پارکینگ ۵ تا ماشین سواری و موتور وجود دارد. که روی هم ۱۶ چرخ دارند در این پارکینگ چند تا ماشین سواری و چند موتور وجود داد؟



تعداد چرخ ها و حدس اول

تعداد چرخ ها و حدس دوم

۱۱- جمع و تفریق های زیر را انجام بدهید.

تکنیکی	فرآیندی	فرآیندی	تکنیکی	تکنیکی	تکنیکی
۲۵۱	۸۷۸	۲۵۳	۴۷۱	۹۸۲	۷۱۵
+۴۳۸	-۳۲۴	+۴۳۹	+۳۹۹	-۴۴۴	-۲۹۸
<hr/>	<hr/>	<hr/>	<hr/>	<hr/>	<hr/>

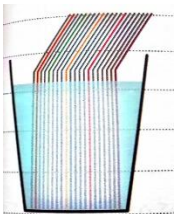
۱۲- به شکل های زیر نگاه کنید و برای آن جمع و یک عبارت ضرب بنویسید

..... دسته ی تایی می شود

..... دسته ی تایی می شود

..... دسته ی تایی می شود

۱۳- اگر در یک لیوان ۲۰ عدد نی رنگی باشد که ۵ تای آن ها رنگی باشد احتمال برداشتن نی رنگی چند به چند است؟



ارزشیابی:

نظر معلم: