

به نام خدا

تاریخ:

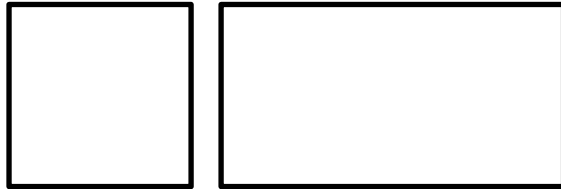
آزمون: آزمونک خودسنجی - مداد کاغذی

نام: .....

نام خانواگی: .....

دبستان پسرانه غیر دولتی دکتر محمد شفیعی

هدف: تشخیص ضلع و گوشه و تفاوت و شباهت اشکال هندسی



۱ دو تفاوت و شباهت برای شکل های زیر بنویس.

تفاوت

-۱

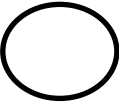



-۲

شباهت:


-۱

-۲

۲ هر شکل چند گوشه و چند ضلع دارد؟

			
گوشه:.....	گوشه:.....	گوشه:.....	گوشه:.....
ضلع:.....	ضلع:.....	ضلع:.....	ضلع:.....

۳ برای شکل های زیر یک تفاوت و یک شباهت بنویسید.



شباهت:

تفاوت:

خودسنجی:

ضلع را می شناسم

گوشه را می شناسم

تفاوت و شباهت اشکال هندسی را با توجه به ضلع و گوشه هایشان می توانم بیان کنم.

نظر خانواده محترم: