

۱- جمع زیر را حل کن.

$$۱۰+۵+۳۰+۵+۲۰+۳+۱۰+۷+۶ =$$

۲- با رقم های ۵، ۳، ۰ هر چه میتوانی عدد دو رقمی بنویس (تکرار میشود)

۳- با سه کارت ۳، ۶، ۹ هر چه می توانی عدد سه رقمی بنویس

الف) اعداد را از کوچک به بزرگ مرتب کن

ب) از بین اعدادی که نوشتی، عددهایی که مجموع یکان و صدگان آن ها مساوی دهگان است را بنویسد

۴- عددهای خواسته شده را به عدد و حروف بنویس (جدول یکان، دهگان بکش و اعداد را قرار بده تا به جواب برسی)

یکان بزرگترین عدد یک رقمی و دهگان ۴ تا کمتر از یکان

۵- همه ی عددهای دو رقمی که یکان آنها ۱، ۴، ۳ و دهگانشان ۹، ۷، ۶ است را بنویس (به روش شاخه ای)

۶- عدد ۳۱ بین ... و ... است و به ... نزدیکتر است
عدد ۱۲۳ بین ... و ... است و به عدد ... نزدیکتر است

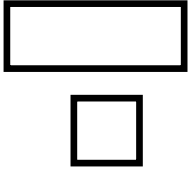
۷- الگو را ادامه بده

.....، ۵۶، ۵۹

.....--- ۳-۴-۶

۸- علی اصغر ۲۰ ریال پول دارد، اگر پدرش به او ۵۰ ریال و مادرش هم به او ۱۰ ریال دیگر بدهد، مجموع پول های علی اصغر چقدر است؟ اگر یک بستنی به قیمت ۱۵ ریال بخرد چقدر از پولش باقی می ماند؟
(فرایندی حل کن)


۹- تفاوت و شباهت مربع و مستطیل را بنویسید



تفاوت:

شباهت:

۱۰- زمان خواسته شده را روی ساعت نشان بده!
یک ساعت و نیم بعد از ۲ و ربع



۱۱- عدد زیر را با سکه نشان بده و به حروف هم بنویس

۳۶۱

به حروف:

۱۲- ابوالفضل ۱۰۸ امتیاز داشت یک پاسخ نادرست داد و ۱۰ امتیاز از دست داد و سپس به یک سوال ۶ امتیازی پاسخ درست داد، اکنون چند امتیاز دارد؟

۱۳- باز شده ی اعداد زیر را بنویس

$$309 =$$


$$812 =$$

۱۴- زمان ۷:۲۰ دقیقه را روی ساعت نشان بده

(الف) یک ربع به عقب برگرد،

(ب) مقدار حرکت عقربه بزرگ

را با رنگ کردن نشان بده و بگو به چه زمانی میرسد؟



ارزیابی: خیلی خوب خوب قابل قبول نیاز به تلاش