


۶) شکل هار اباکشیدن خط دسته بندی کن و در جاهای خالی عدد مناسب بنویس.




.....دسته ی چهارتایی و  
..... تا یکی

۷) جواب عبارت را باکشیدن شکل پیداکن.

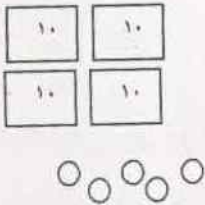
$$7-3=$$

۸) الگو را پیدا کرده و روی جدول نشان بده و رنگ کن.

۱	۲	۳	۴	۵	۶	۷	۸
۹	۱۰	۱۱	۱۲	۱۳	۱۴	۱۵	۱۶



۹) در جای خالی عدد مناسب بنویس.

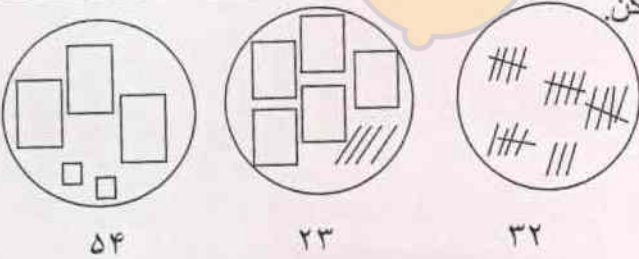


یکی | ده تایی

عدد با رقم .....

عدد با حروف .....

۱۰) عددها را با خط کش به شکل مناسب وصل کن.



۵۴

۲۳

۳۲

۱۱) باکمک محور جمع یا تفریق کن.

