



۱- مداد زیر را با خط کش اندازه بگیر و جمله ها را کامل کن .



اندازه ی طول مداد سانتی مترو میلی متر است .

اندازه ی طول مداد سانتی مترو قسمت از ۱۰ قسمت مساوی است .

۲- جاهای خالی را کامل کن .

عدد ۳۶ را می توان به صورت ده تایی و قسمت از ۱۰ قسمت بیان کرد.

عدد ۱۲ را می توان به صورت ده تایی و قسمت از ۱۰ قسمت بیان کرد.


عدد ۷ را می توان به صورت ده تایی و قسمت از ۱۰ قسمت بیان کرد.

۳- کیک تولد ریحانه به ۸ قسمت مساوی تقسیم شده است . ۲ قسمت را پدر و ۱ قسمت را مادر و ۳ قسمت

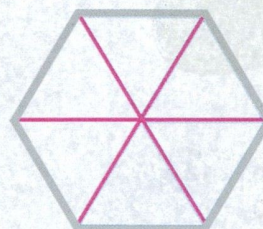


را ریحانه و برادرش خوردند . حالا بگو :

..... قسمت از ۸ قسمت مساوی کیک تولد خورده شده است.

..... قسمت از ۸ قسمت مساوی کیک تولد هنوز باقی مانده است.



۴- با توجه به کسر نوشته شده شکل را رنگ بزن .



۱ قسمت از ۶ قسمت مساوی ۸ قسمت از ۱۲ قسمت مساوی ۳ قسمت از ۴ قسمت مساوی







فرزندان با تلاشی و کوششی، کوششهای خود را نشان دهید.

۱- ساعت را به قسمت‌های کوچکتر تقسیم کنید.

۲- ساعت را به قسمت‌های کوچکتر تقسیم کنید.

۳- ساعت را به قسمت‌های کوچکتر تقسیم کنید.



۴- ساعت را به قسمت‌های کوچکتر تقسیم کنید.

۵- ساعت را به قسمت‌های کوچکتر تقسیم کنید.

۶- ساعت را به قسمت‌های کوچکتر تقسیم کنید.

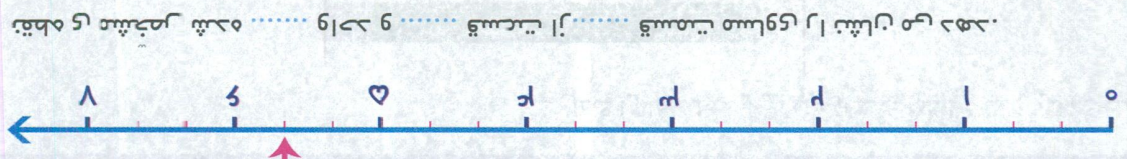


۷- با توجه به شکل، جاهای خالی را کامل کنید.

۸- ساعت را به قسمت‌های کوچکتر تقسیم کنید.

۹- ساعت را به قسمت‌های کوچکتر تقسیم کنید.

۱۰- ساعت را به قسمت‌های کوچکتر تقسیم کنید.



۱۱- ساعت را به قسمت‌های کوچکتر تقسیم کنید.