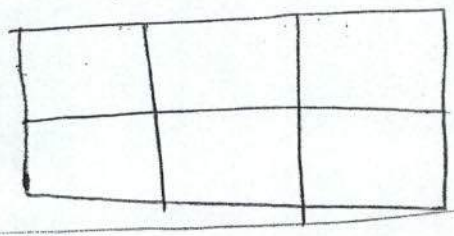


تقسیم زیر را از دو راه حل کنید

$$\frac{0/22}{0/18} =$$

ضرب مقابل را (روشن مساحتی) بدست آورید

$$2/1 \times 1/3$$

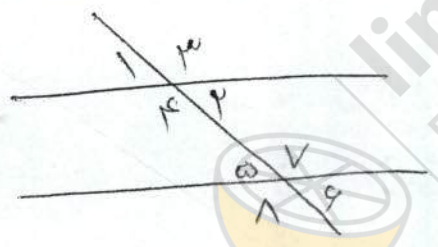


۴/۲ متر = _____ متر

۳۵ اس = _____ میلی متر
 ۷/۳۴ کیلومتر = _____ متر

_____ میلی متر

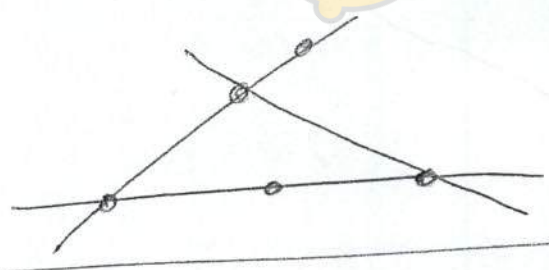
در شکل مقابل اندازه زاویه خواسته شده را حساب کنید



در شکل زیر دو زاویه مکمل
 دو زاویه متقابل به رأس

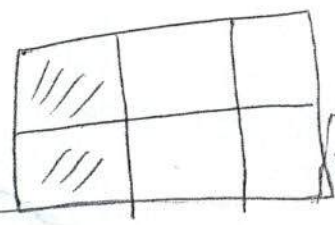
نام ببرید

در شکل رو برو چند زاویه خط و چند نیم خط
 می بینید



مجموع زوایای یک مثلث را حساب کنید

در شکل رو برو ۵ کسر مساوی بنویسید



_____ = _____ = _____ = _____ = _____
 که سیم به طول ۳/۴ متر و ۲۸ سن نیاز دارد او چند سیم