

دبستان پسرانه غیر دولتی امیدنو



پایه : پنجم
نام درس: ریاضی

نام آموزگار: سرکار خانم زمانی

نام و نام خانوادگی دانش آموز:

۱- جاهای خالی را پر کنید.

آ) ۹ تا صد هزارتایی منهای ۴ تا صد هزارتایی می شود.....

ب) ۱۰ تا چک پول ۱۰۰۰۰۰۰ ریالی می شود..... ریال

پ) عدد ۳۰۶۰۰۷۰۰ از تا ده میلیون تایی و ۶ تا تا ۷ تا ساخته شده است.

ت) در مربع روی خط تقارن قرار دارند.

۲- پدر علی در ۱۷ دی ماه ۱۳۵۹ و علی در ۱۰ مهر ماه ۱۳۸۷ به دنیا آمده اند. وقتی علی به دنیا آمد پدرش چند ساله بود؟

۳- حاصل عبارتهای زیر را به دست آورید.

$$۳ \frac{۲}{۳} - ۲ \frac{۱}{۳} =$$

$$\frac{۱}{۴} + \frac{۲}{۷} =$$

$$\frac{۹}{۱۲} \times \frac{۲}{۳} =$$

$$\left(\frac{۱}{۹} \div ۲ \right) \times (۵ \div ۶) =$$

۴- حاصل ضرب $۲ \frac{۲}{۵} \times ۱ \frac{۱}{۳}$ را به کمک شکل به دست آورید.



دبستان پسرانه غیر دولتی امیدنو



نام آموزگار: سرکار خانم زمانی

پایه: پنجم

نام و نام خانوادگی دانش آموز:

نام درس: ریاضی

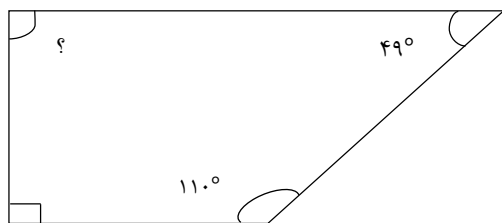
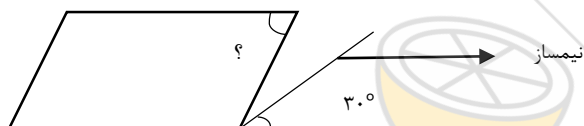
۵- سینا ۴۰۰۰ تومان بیشتر از محمد پول دارد. اگر نسبت پول سینا به محمد ۷ به ۵ باشد، مقدار پول محمد و سینا را به دست آورید.

۶- قیمت کتابی ۶۸۰۰ تومان است. اگر ۲۰ درصد آن را تخفیف بگیریم:

الف) چند تومان تخفیف گرفته ایم؟

ب) چند تومان پرداخت کرده ایم؟

۷- در شکل های زیر زاویه های خواسته شده را بنویسید.



۸- اندازه ی یکی از زاویه های مثلث قائم الزاویه ای 37° است. اندازه ی زاویه ی سوم این مثلث چند درجه است؟

دبستان پسرانه غیر دولتی امیدنو



پایه: پنجم

نام آموزگار: سرکار خانم زمانی

نام درس: ریاضی

نام و نام خانوادگی دانش آموز:

۹- حاصل عبارتهای زیر را به دست آورید.

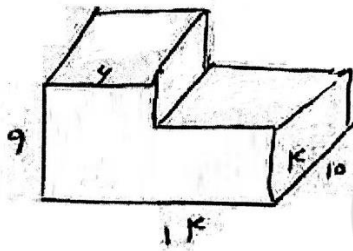
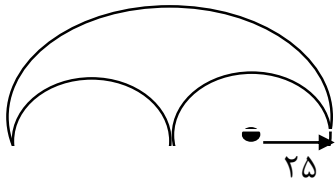
$$0.25 \times 700 =$$

$$4000 \times 0.04 =$$

$$1/0.2 + 0.89 + 0.089 + 0.001 =$$

$$1/74 - 0.942 =$$

۱۰- محیط شکل زیر را به دست آورید. (همه ی فرمول ها و راه حل ها نوشته شود.) عدد پی = ۳



۱۱- حجم شکل زیر را به دست آورید.

۱۲- می خواهیم $13/4$ لیتر بنزین را در ۵ ظرف به طور مساوی بریزیم. در هر ظرف چند میلی لیتر ریخته می شود؟

۱۳- میانگین اعداد زیر را به دست آورید.

۸ و ۲۲ و ۱۵

موفق باشد شولانی