



مهر ماه

به نام خدا
آزمون ماهانه
ریاضی سوم دبستان

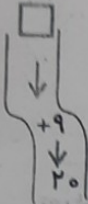
الف: پاسخ صحیح را با علامت (-) مشخص کنید.

ز شماره ۷ تا ۷ تا عدد قبل از ۴۹، کدام عدد است؟


- ۲۸ (ب) ۳۵ (ب) ۴۲ (ج) ۲۱ (د)

توجه به شکل مقابل، اگر عدد ۲۰ از ماشین خارج شود، چه عددی وارد ماشین شده است؟


- ۲۹ (ب) ۱۰ (ب) ۱۲ (ج) ۱۱ (د)



کدام یک از شکل های زیر می توان یک مکعب درست کرد؟



کدام یک از شکل های زیر، خط تقارن ندارد؟



درست یا نادرست بودن هر جمله را مشخص کنید.

درست	نادرست
<input type="checkbox"/>	<input type="checkbox"/>
<input type="checkbox"/>	<input type="checkbox"/>
<input type="checkbox"/>	<input type="checkbox"/>
<input type="checkbox"/>	<input type="checkbox"/>

شمارش ۵ تا ۵ تا عدد بعد از ۲۵، عدد ۳۵ است.

شکل مکعب مستطیل است.

۱۹ یعنی ساعت ۷ بعد از ظهر.

دارای ۲ خط تقارن است.

پرسش های زیر پاسخ دهید.

سای عددی زیر را ادامه دهید.

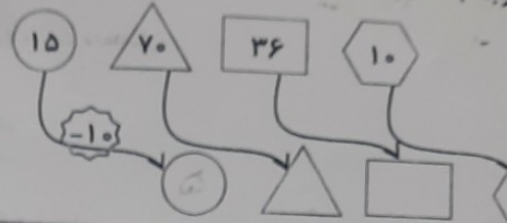
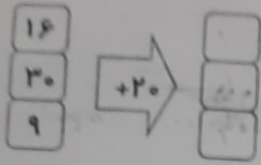
..... و و ۱۸ و ۹ و ۰ (الف)

..... و و ۴۵۰ و ۴۰۰ و ۳۵۰ (ب)

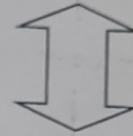
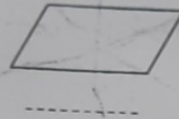
..... و و ۵۸ و ۵۴ و ۵۰ (ج)



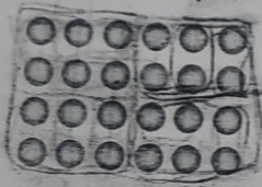
وجه به کاری که هر ماشین انجام می دهد، در جاهای خالی عدد مناسب بنویسید.



تقارن شکل های زیر را رسم کنید و تعداد آن ها را بنویسید.



داد دایره های زیر را با سه نوع دسته بندی و به کمک شمارش چند تا چند تا به دست آورید.



نوع (۱):

نوع (۲):

نوع (۳):

را به همراه خانواده ساعت ۸ صبح از تهران به مقصد اصفهان حرکت کردند. آن ها بعد از ۶ ساعت همان رسیدند. آن ها ساعت چند به مقصد رسیدند؟



اگر داری هر بسته آدامس را ۲۰۰ تومان می خرد و ۲۵۰ تومان می فروشد. جدول زیر را کامل و آلالات پاسخ دهید.

تعداد آدا	۱	۲
سود	۵۰	۱۰۰

(۱) اگر او ۴ آدامس بفروشد، چه قدر سود می برد؟

(۲) چند آدامس بفروشد تا ۳۰۰ تومان سود ببرد؟