
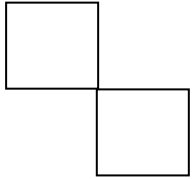
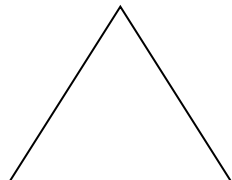

	وقت آزمون: ۱۲۰ دقیقه	بسمه تعالی اداره کل آموزش و پرورش خراسان شمالی اداره سنجش آموزش و پرورش مدیریت آموزش و پرورش شهرستان مانه و سملقان نوبت دوم-اردیبهشت ماه ۱۴۰۰	دبستان غیردولتی مهروماه
	ساعت برگزاری: ۱۷ عصر		نام و نام خانوادگی:
	تاریخ امتحان ۰۰/۲/۲۹		سوالات درس: ریاضی
صفحه تعداد: ۳ صفحه	تعداد سوال: ۱۳ سوال		پایه: دوم

ما بر آنیم تا فرزندان شما فرزندان دانش و ادب شوند.

ردیف	شرح سوال	بارم						
	<p>۱- عزیزم تعداد ماشین ها را بشمار و به دسته های ده تایی جدا کن.</p>  <div style="display: flex; align-items: center; justify-content: center; margin: 10px 0;"> <table border="1" style="border-collapse: collapse; text-align: center;"> <tr> <td style="padding: 5px;">د</td> <td style="padding: 5px;">ی</td> </tr> <tr> <td style="border: none;"> </td> <td style="border: none;"> </td> </tr> <tr> <td style="border: none;">—</td> <td style="border: none;">—</td> </tr> </table> <div style="margin-left: 20px;"> <p>به عدد.....</p> <p>به حروف.....</p> </div> </div>	د	ی			—	—	
د	ی							
—	—							
	<p>۲- الگوهای شمارش را، رو به عقب کامل کن.</p> <p>..... ، ۴۰ ، ۴۵</p> <p>..... ، ۲۴ ، ۲۷ ، ۳۰</p>							
	<p>۳- اعداد را با حذف رقم یکان و دهگان به صورت تقریبی بنویسید سپس عددهای تقریبی را جمع و تفریق کنید.</p> <div style="display: flex; justify-content: space-around; margin-top: 10px;"> <div style="text-align: center;"> <math display="block">\begin{array}{r} ۲۳۵ \longrightarrow \\ + ۳۲۳ \longrightarrow \\ \hline \end{array}</math> </div> <div style="text-align: center;"> <math display="block">\begin{array}{r} ۵۴۱ \longrightarrow \\ - ۱۲۷ \longrightarrow \\ \hline \end{array}</math> </div> <div style="text-align: center;"> <math display="block">\begin{array}{r} ۷۵۵ \longrightarrow \\ - ۴۵۹ \longrightarrow \\ \hline \end{array}</math> </div> </div>							
	<p>۴- با رسم برش های لازم ، شکل را به ۴ قسمت مساوی تقسیم کنید.</p> <div style="display: flex; justify-content: space-around; margin-top: 20px;">    </div>							

۵- سکه ها را بشمار و در جدول ارزش مکانی بنویس و تفریق کن.



صدگان	دهگان	یکان
-		

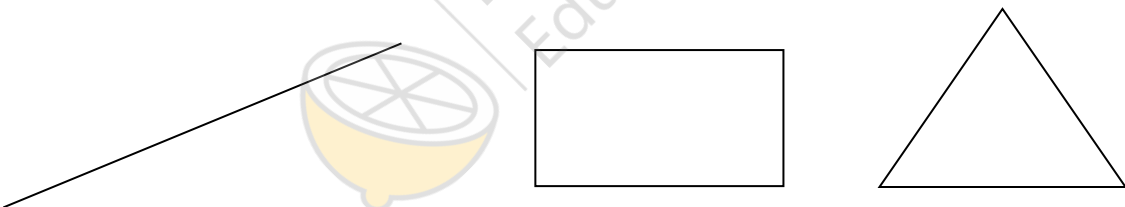
۶- یک کتاب داستان ۴۹۷ صفحه داشت. فاطمه در یک هفته ۱۶۰ صفحه و در هفته دوم ۱۳۰ صفحه خواند.

چند صفحه هنوز نخوانده است؟ (فرآیندی)



الف) چند صفحه خوانده شده است؟

ب) چند صفحه باقی مانده است؟

۷- خط ها و شکل های زیر را اندازه بگیر و روی هر کدام بنویس.



۸- تعداد هر قسمت را با کامل کردن جمله ها مشخص کنید.



..... تا ..... تایی می شود ..... تا ..... تایی می شود ..... تا ..... تایی می شود

۹- در یک مزرعه روی هم ۶ تا شتر مرغ و گوسفند هستند آن ها روی هم ۲۰ پا دارند. (هر شتر مرغ ۲ پا

و گوسفند ۴ پا دارد) در این مزرعه چند تا گوسفند و چند شتر مرغ است؟

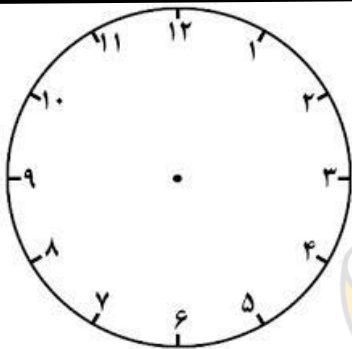
۱۰- جمع و تفریق های زیر را بنویس.

<p>فرآیندی ۶۸۳</p> <p>+ ۲۱۴</p> <hr style="width: 50%; margin-left: 0;"/>	<p>تکنیکی ۳۳۳۳</p> <p>+ ۲۲۳</p> <hr style="width: 50%; margin-left: 0;"/>	<p>فرآیندی ۷۵۶</p> <p>- ۲۴۶</p> <hr style="width: 50%; margin-left: 0;"/>	<p>تکنیکی ۹۶۳</p> <p>- ۷۴۲</p> <hr style="width: 50%; margin-left: 0;"/>
---	---	---	--

۱۱- جاهای خالی را پر کنید .

عدد ۳۸ را می توان به صورت ..... ده تایی و ..... قسمت از ۱۰ قسمت بیان کرد .  
 ۲۳ میلی متر یعنی ..... سانتی متر و ..... میلی متر  
 هر متر ..... سانتی متر است .  
 طول دفتر نقاشی من که به شکل مستطیل است ، ۱۸۷ ..... است.

۱۲- به سوال های زیر جواب دهید



الف) ۲۰ دقیقه بعد از ۷:۳۵ چه ساعتی است؟  
 ب) ۳۰ دقیقه بعد از ۱۰:۱۵ چه ساعتی است؟  
 پ) ۴۵ دقیقه بعد از ۳:۳۰ چه ساعتی است؟  
 ت) یک ربع مانده به ۱۰ چه ساعتی است ؟  
 ث) ساعت ۶:۳۰ دقیقه را می توانیم بگوئیم ..... و .....

۱۳- جمله های زیر را کامل کنید.

	..... قسمت از ..... قسمت مساوی بتفش است.
	..... قسمت از ..... قسمت مساوی زرد است.
	..... قسمت از ..... قسمت مساوی قرمز است.

ارزشیابی:

نظر معلم: .....