

نوبت هفتم


۲۱

فروردین ۱۳۹۱

به نام خدا
ارزشیابی مستمر
ریاضی دهم دبستان

ساعات: ۱۳۶۵۲


۱ تا می توانی دسته های ده تایی و صدتایی درست کن. سپس عددی را که شکل نشان می دهد، بنویس.



با رقم: _____

با حروف: _____

۲ با این سه کارت، تمام عددهای سه رقمی را که می توان ساخت، بنویس.



۳ در جای خالی، علامت مناسب $<=>$ بگذار.

$۴۰ + ۲۰ + ۲$ $۴۰ + ۲۰ + ۵ + ۲$

۲۰۰ $۲۰ + ۱۰۰$

۶۵۷ ۷۰۶

$۸۰۰ - ۵۰۰$ $۱۰۰ + ۱۰۰ + ۱۰۰$

۴ حاصل جمع های زیر را بنویس.

$$\begin{array}{r} ۷۲۳ \\ + ۲۵۸ \\ \hline \end{array}$$

$$\begin{array}{r} ۶۹۹ \\ + ۱۵۹ \\ \hline \end{array}$$

۵ باقی مانده ی تفریق را بنویس.

$$\begin{array}{r} ۸۲۴ \\ - ۴۳۵ \\ \hline \end{array}$$

$$\begin{array}{r} ۳۰۳ \\ - ۱۳۶ \\ \hline \end{array}$$

۶ ساعت چند است؟



۳۵ دقیقه بعد، ساعت چند است؟

۷ الگوی عددی زیر را ادامه بده.

۱۱۰ - ۱۱۴ - ۱۱۸ - - -

۸۱۰ - ۸۲۰ - ۸۳۰ - - -

۳ - ۴ - ۶ - ۹ - - -



۸ کامل کن.


الف) ۵۶ میلی‌متر یعنی سانتی‌متر و میلی‌متر.

ب) ۱۰۹ میلی‌متر یعنی میلی‌متر و سانتی‌متر.

ج) ۸ سانتی‌متر می‌شود میلی‌متر.



۹ با توجه به هر شکل، جاهای خالی را کامل کن.



(ج)



(ب)



(الف)

نام شکل:

نام شکل:

نام شکل:

تعداد ضلع:

تعداد ضلع:

تعداد ضلع:

تعداد گوشه:

تعداد گوشه:

تعداد گوشه:

۱۰ فاطمه ۹۴۲ ریال پول داشت. او برای خرید یک دفتر ۴۸۳ ریال و برای خرید یک مداد ۲۰۸ ریال به

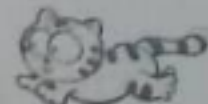
فروشنده داد. حالا فروشنده چند ریال باید به فاطمه پس بدهد؟



۱۱ حاصل جمع‌های زیر را به دست بیاور.

الف) $5 + 3 + 300 + 200 + 100 + 50 =$

ب) $20 + 40 + 200 + 200 =$




۱۲ داخل یک کیسه، ۴ مهره‌ی قرمز، ۲ مهره‌ی آبی و ۱ مهره‌ی سفید است. جمله‌های زیر را در مورد آنها کامل کن.

مهره از مهره سفید است. مهره از مهره قرمز است.

مهره از مهره آبی است.

بدون نگاه کردن به داخل کیسه، احتمال بیرون آوردن کدام مهره بیش‌تر است؟

۱۳ به اندازه‌ای که در هر جمله نوشته شده است، از شکل‌ها رنگ کنید.



۳ قسمت از ۴ قسمت مساوی رنگ شده است.

۴ قسمت از ۸ قسمت مساوی رنگ شده است.

۱۴ جمله‌ها را کامل کن.

عدد ۶۴ را می‌توان به صورت ده تایی و قسمت از ۱۰ قسمت مساوی بیان کرد.

۵۸ ریال، ده ریالی و قسمت از ۱۰ قسمت مساوی است.

۱۵ با توجه به شکل‌ها، جای خالی را کامل کن.



(الف) دسته‌ی تایی.



(ب) دسته‌ی تایی.

۱۶ علی ۳۶۷ ریال و امیر ۴۲۱ ریال دارد. به صورت تقریبی حساب کن

آنها روی هم چند ریال دارند؟ (با حذف یکان و دهگان)

