


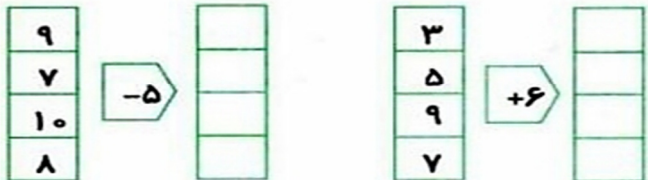


به نام خدا

امتحان ریاضی فصل ۷ و ۸ کلاس دوم دبستان پسرانه سرای دانش

نام و نام خانوادگی

<p>با توجه به شکل کامل کنید.</p>  <p>..... دسته ی تایی</p>	<p>۱</p>
<p>جاهای خالی را با اعداد مناسب پر کنید.</p> <p>عدد ۳۵ را می توان به صورت ده تایی و قسمت از ۱۰ قسمت بیان کرد.</p> <p>عدد ۵۹ را می توان به صورت ده تایی و قسمت از ۱۰ قسمت بیان کرد.</p> <p>عدد را می توان به صورت ۴ ده تایی و ۶ قسمت از ۱۰ قسمت بیان کرد.</p> <p>عدد را می توان به صورت ۸ ده تایی و ۱ قسمت از ۱۰ قسمت بیان کرد.</p>	<p>۲</p>
<p>عبارت مربوط به شکل را بنویسید.</p>  <p>..... دسته ی تایی می شود.....</p>	<p>۳</p>
<p>کسر مربوط به هر تصویر را بنویسید.</p>  <p>رنگ شده رنگ نشده</p> <p>رنگ شده رنگ نشده</p> <p>رنگ شده رنگ نشده</p>	<p>۴</p>
<p>جاهای خالی را با عدد مناسب پر کنید.</p> 	<p>۵</p>

ساعت چند است ؟

اگر عقربه ی بزرگ ۱۵ دقیقه حرکت کند ، مقدار چرخش عقربه بزرگ را با رنگ کردن نشان دهید.



۶

یک صفحه ی چرخنده مثل شکل زیر رنگ شده است .

الف) قسمت از قسمت شکل صورتی است.

ب) احتمال ایستادن عقربه روی کدام رنگ کمتر است ؟ چرا ؟



۷

کتاب هایی که ریحانه در یک سال تحصیلی خوانده است در جدول زیر آمده است. با توجه به داده ها و اطلاعات جدول ، نمودار مربوط به آن را تکمیل کرده و به سوالات پاسخ دهید.

نوع کتاب	علمی	دفاع مقدس	داستان	کمک درسی
تعداد	۹	۲	۷	۴



الف : ریحانه بیش تر چه نوع کتابی را خوانده است ؟

از کجا می دانید؟

ب : ریحانه کدام نوع از کتاب ها را کم تر مطالعه کرده است ؟

..... از کجای دانید؟

.....

۸

باز خورد معلّم: خیلی خوب ☐ خوب ☐ قابل قبول ☐ نیاز به تلاش بیشتر ☐

موفق و پیروز باشید